

Сиқырлы кубик



1

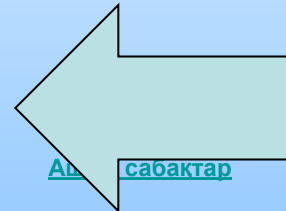
2

3

4

5

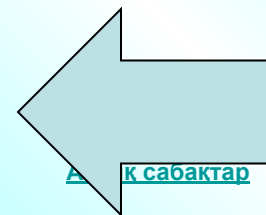
6



/20 ұпай/

№1

**Барлық екі таңбалы сандардың
қосындысы нешеге тең?**



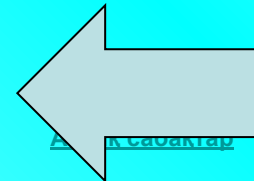
[Алғашқы сабақтар](#)



/20 ұпай/

№2

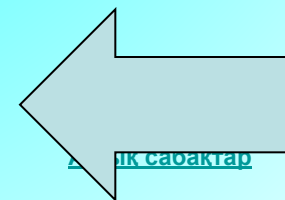
**2-ден 14-ке дейінгі барлық
жұп натурал сандардың
қосындысы қандай ?**



/20 ұпай/

№3

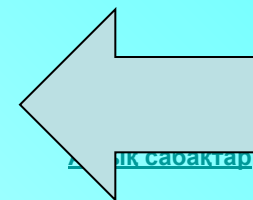
**1-ден 15-ке дейін (15-ті қоса)
барлық тақ натурал
сандардың қосындысы нешеге
тең болады ?**



/10 ұпай/

№4

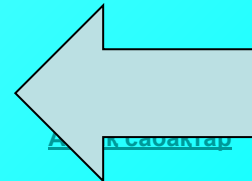
**2; 5; 8; ... арифметикалық
прогрессияның он бесінші мүшесі
несеге тең ?**



/10 ұпай/

№5

**3; 7; 11; ... арифметикалық
прогрессияның алтыншы
мүшесі қандай сан?**

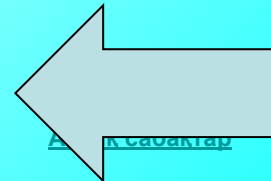


/30 ұпай/

№6

Қосындысын тап:

$$20+21+22+\dots+120 = ?$$



Жарайсындар!

