

Точки, прямые, отрезки

Задания для устного счета

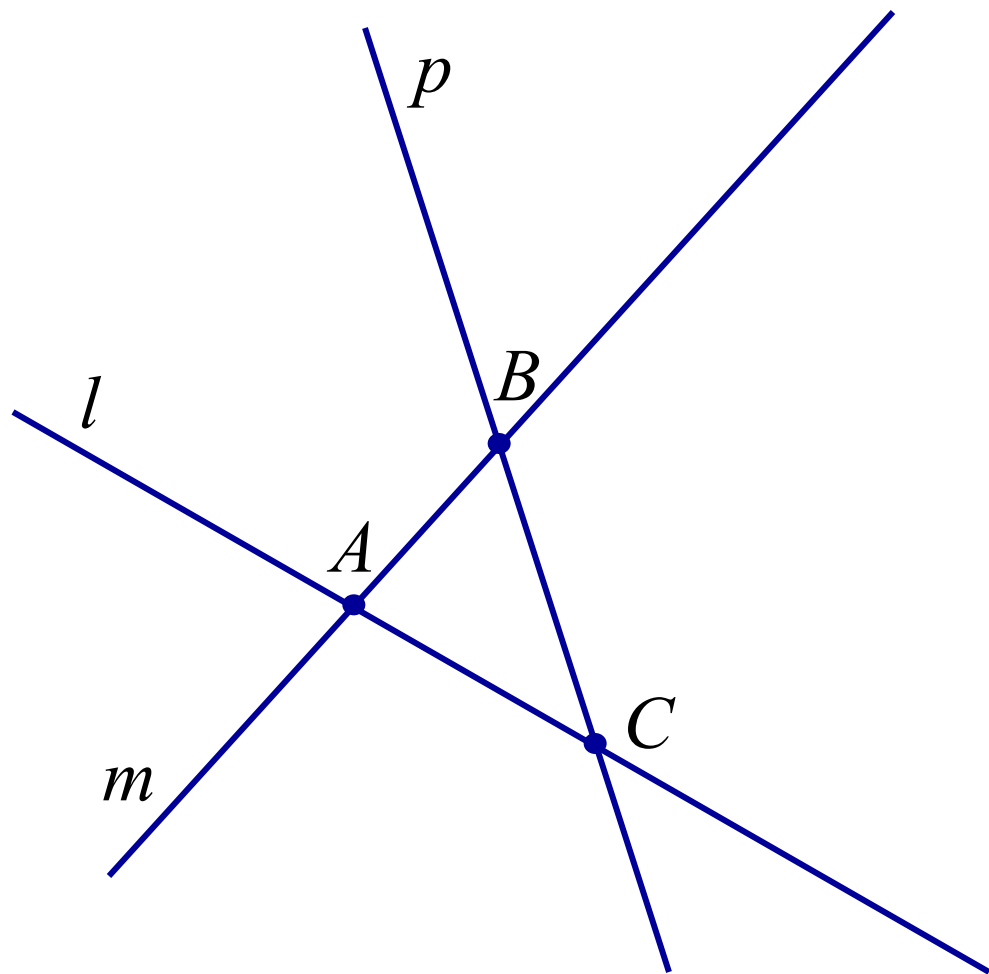
МД _п1.1

Геометрия 7 класс

Учитель математики
Игошина Л.А.

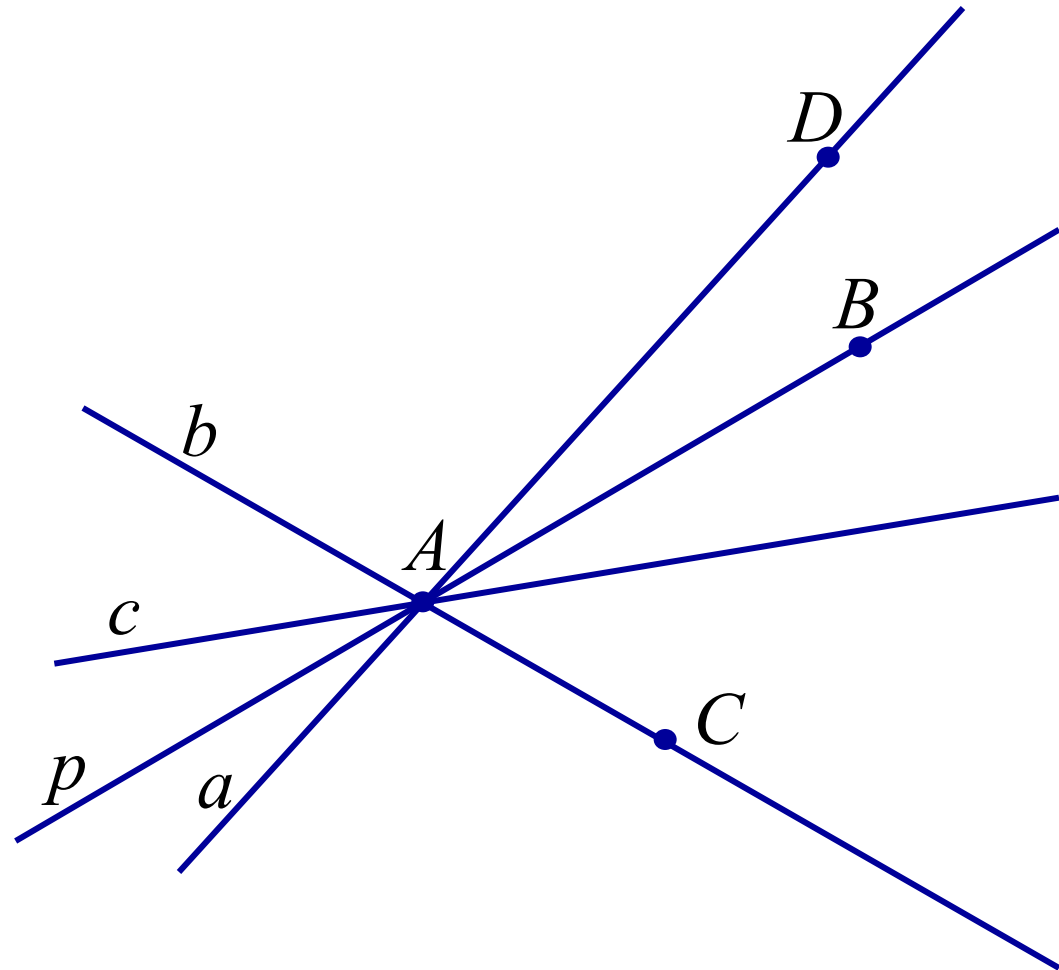
С ПОМОЩЬЮ СИМВОЛОВ ЗАПИШИТЕ:

1. В какой точке пересекаются прямые p и l ?
2. В какой точке пересекаются прямые l и m ?
3. В какой точке пересекаются прямые p и m ?
4. Какие точки лежат на прямой p ?
5. Какие точки не лежат на прямой l ?

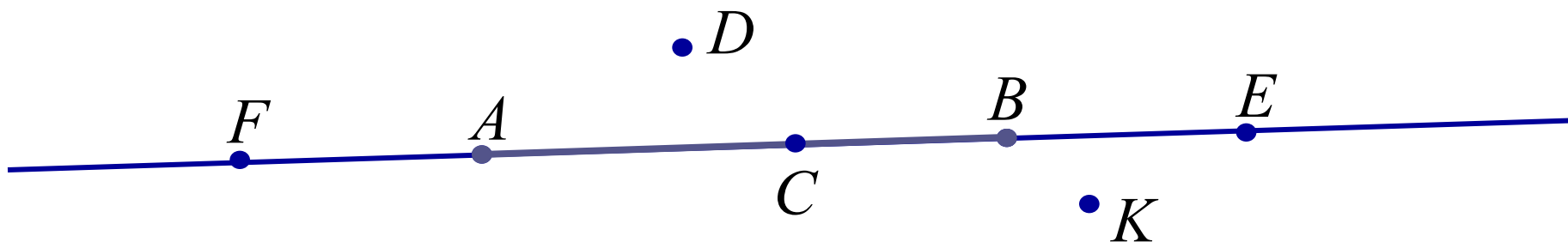


С ПОМОЩЬЮ СИМВОЛОВ ЗАПИШИТЕ:

6. Сколько прямых можно провести через точку A ?
7. Сколько прямых провели через точку A ? Назовите эти прямые.
8. На какой прямой лежат точки A и B ; A и C ?
9. Какая прямая проходит через точки A и D ?
10. Проходит ли какая-нибудь прямая через точки B и C ?

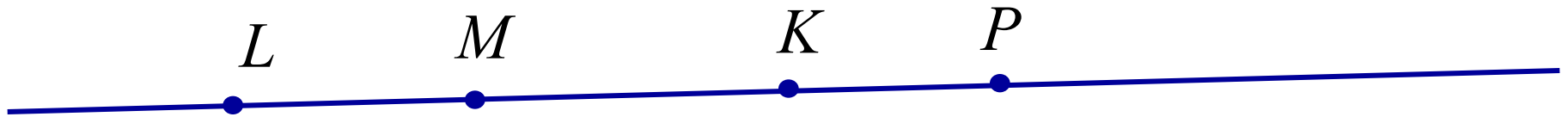


С помощью символов запишите:



11. Сколько прямых можно провести через точки A и B?
12. Как называется часть прямой, ограниченная точками A и B?
13. Какие точки лежат на отрезке AB?
14. Какие точки лежат на прямой AB?
15. Какие точки не лежат на прямой AB?
16. Какие точки не лежат на отрезке AB?
17. Какие точки лежат на прямой CF?

С помощью символов запишите:



18. Какие точки лежат на отрезке LK?
19. Какие точки лежат на прямой LK?
20. Назовите все отрезки, которые лежат на данной прямой.

Для создания презентации использовались материалы:

- ✓ <http://www.mathvaz.ru> Валерий Зыкин. Рабочая программа по геометрии для 7 класса, 2009
- ✓ Геометрия, 7-9: Учеб. для общеобразоват. учреждений/Л.С. Атанасян, В.Ф. Бутузов, С.Б. Кадомцев и др. – М.: Просвещение, 2009