

Анализ и синтез


синтез – это объединение разных частей в целое с целью лучшего изучения предмета, а **анализ** – это разложение целого предмета на части с целью его изучения и лучшего познания.











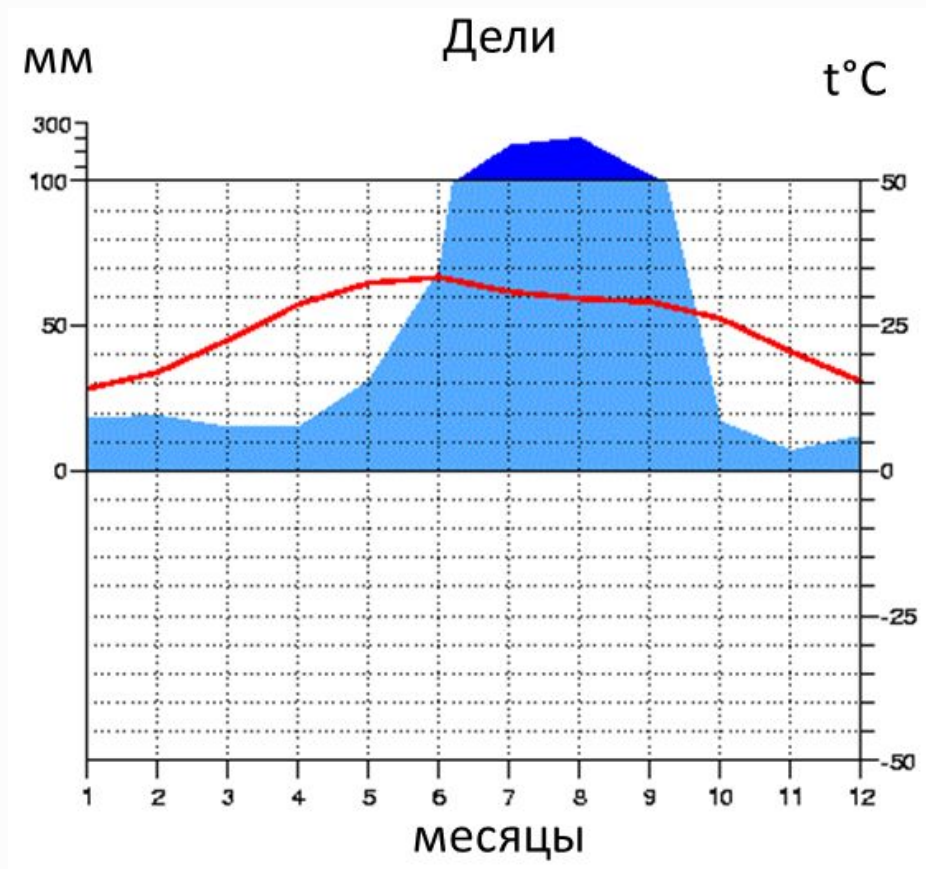


1 вопрос: Определите географическое положение стран: Индии, США, Бразилии, Австралии, Великобритании, Египта и назовите океан, который омывает большинство из данных стран.

- A. Тихий океан
- B. Индийский океан
- C. Атлантический океан
- D. Северный ледовитый океан

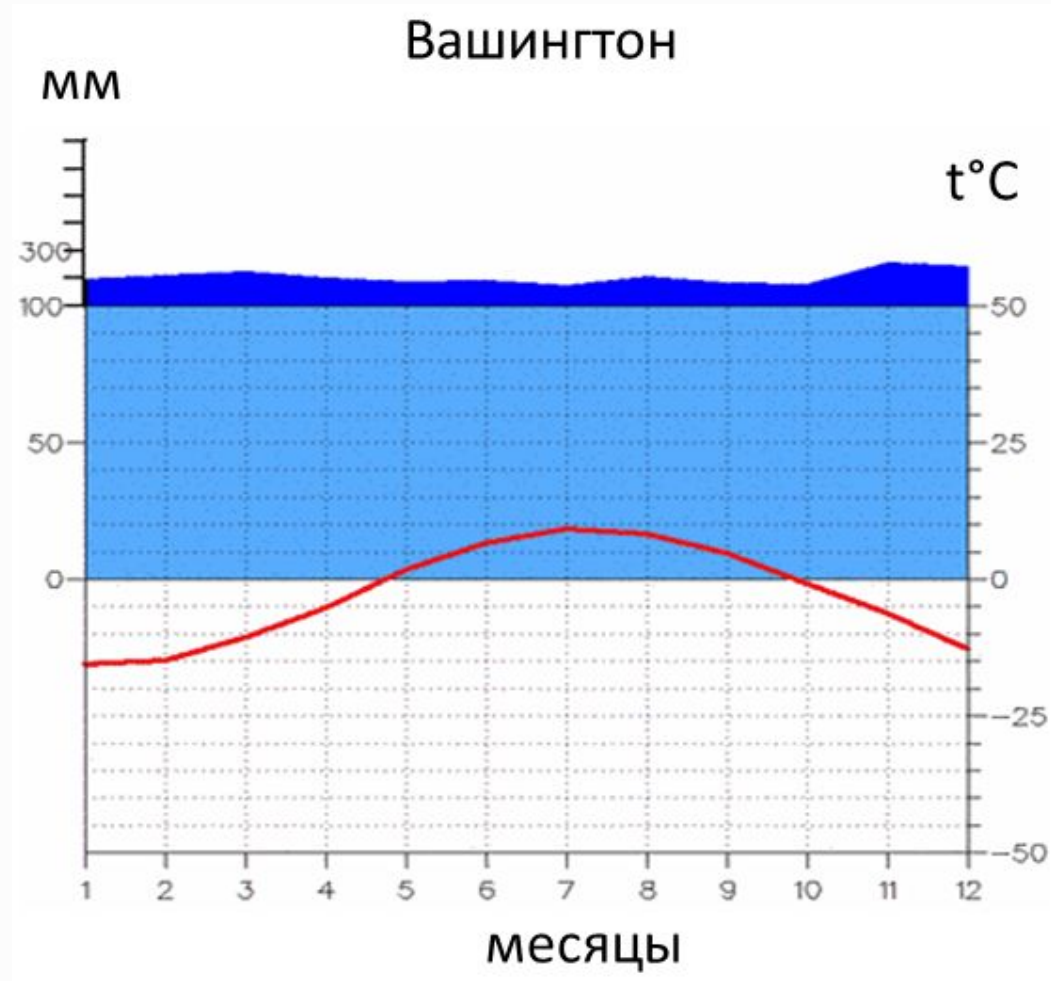
2 вопрос: Перед вами климатограмма (в математике её называют гистограмма). По климатограмме г. Дели определите значение самой низкой температуры

- A. $+10\text{ }^{\circ}\text{C}$
- B. $+15\text{ }^{\circ}\text{C}$
- C. $-10\text{ }^{\circ}\text{C}$
- D. $0\text{ }^{\circ}\text{C}$



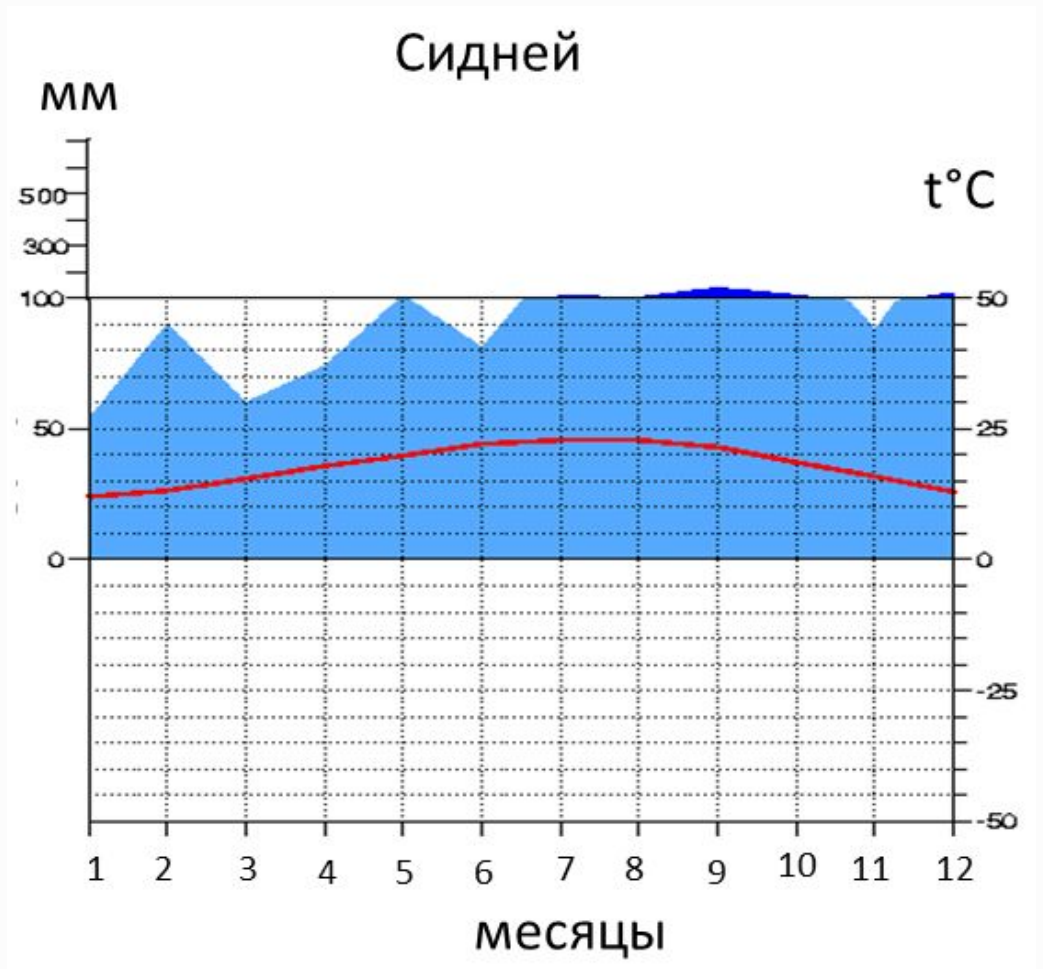
3 вопрос: По климатограмме, определите амплитуду температур в г. Вашингтон

- A. 23 °С
- B. 20 °С
- C. 3 °С
- D. 10 °С



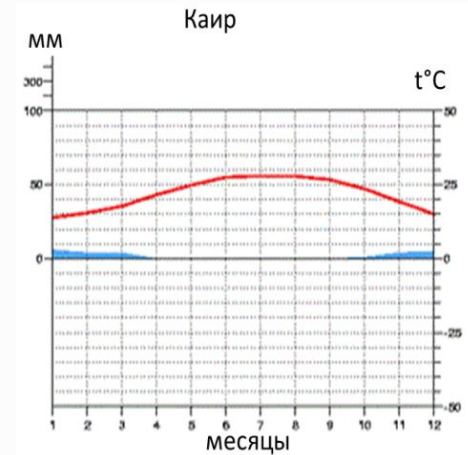
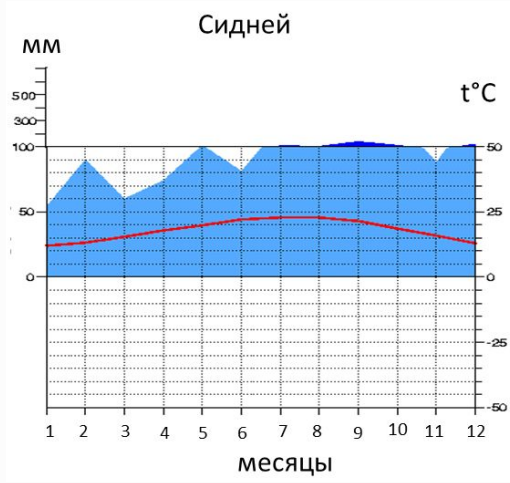
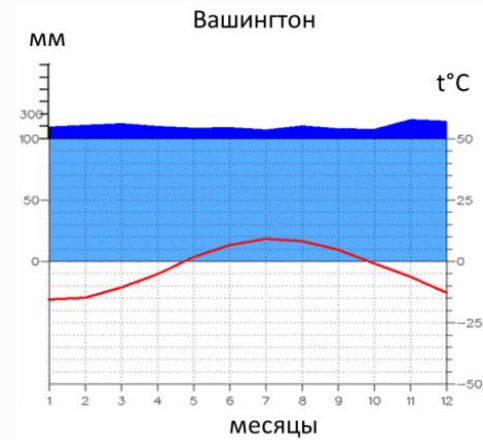
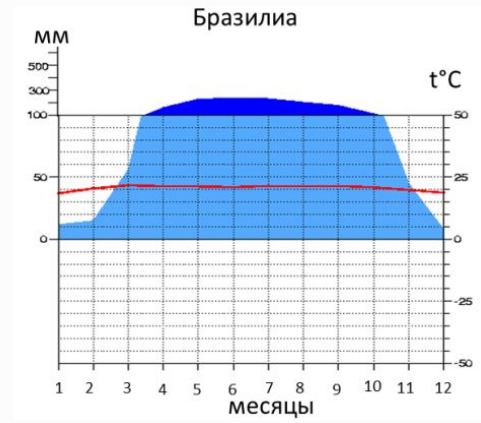
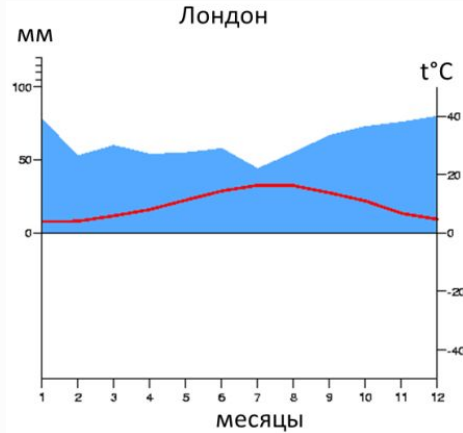
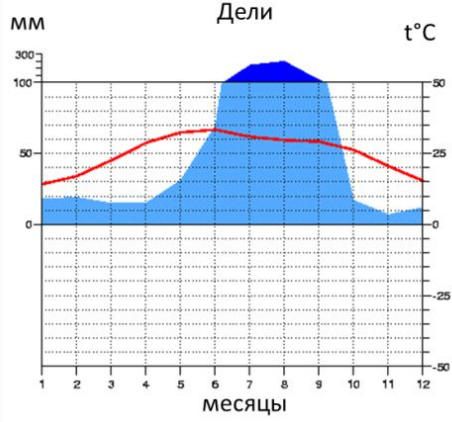
4 вопрос: По климатограмме определите, в какое время года выпадает максимальное количество осадков в г. Сидней

- A. лето
- B. зима
- C. осень
- D. весна









5 вопрос: Проанализируйте климатограммы, определите, в каком из городов выпадает максимальное количество осадков

А.. Лондон В.Сидней;С. Дели;D.Вашингтон;Е. Каир;F. Бразилиа



6 вопрос: Пользуясь таблицей назовите численность населения в Великобритании

- A. 87 264 717
- B. 64 308 261
- C. 318 614 000

Страна	Население	% от населения Земли
 Индия	1 262 955 000	17.64%
 США	318 614 000	4.43%
 Бразилия	203 260 248	2.84%
 Египет	87 264 717	1.22%
 Великобритания	64 308 261	0.9%
 Австралия	24 261 000	0.34%

7 вопрос: Пользуясь таблицей определите разницу в численности населения Индии и США

- A. 9400562
- B. 944341000
- C. 59876344
- D. 15800265

Страна	Население	% от населения Земли
 Индия	1 262 955 000	17.64%
 США	318 614 000	4.43%
 Бразилия	203 260 248	2.84%
 Египет	87 264 717	1.22%
 Великобритания	64 308 261	0.9%
 Австралия	24 261 000	0.34%

8 вопрос: Анализируя данные таблицы, определите разницу высот на территории США

A. 6280

B. 6108

C. 5008

Страна	Минимальная высота	Максимальная высота
Бразилия	0 м Атлантический океан	3 014 м пик Неблина
Египет	-133 м Каттарская впадина	2 629 м гора Катерин
США	- 86 м Долина Смерти	6 194 м гора Мак-Кинли
Австралия	-15 м озеро Эйр	2 229 м гора Косцюшко
Индия	0 м Индийский океан	8 598 м гора Канченджанга
Великобритания	-4 м Фенланд	313 м гора Бен-Невис

№ вопроса	1	2	3	4	5	6	7	8
ОТВЕТ	A	B	C	C	C	B	B	B

Открытие нового знания

р	1	1	1	1	1	1	1	1	1	1	1	1	1	1	1	1
Рост	167	169	179	178	177	175	171	181	174	175	180	174	172	178	171	1
в	6	6	6	7	7	7	6	6	7	7	6	7	7	6	7	6
Вес	62	68	70	77	80	66	70	80	73	78	78	70	65	77	80	6




Самостоятельная работа (5мин)

Страна	Спрос на путевки в 1 полугодии 2014г., тыс. путевок	Национальная валюта	Курс валюты в рублях
Индия	108,8	Индийская рупия	0,75
Бразилия	25,5	Реал	17,67
Австралия	60,9	Австралийский доллар	39,61
Египет	1218	Египетский фунт	6,42
США	81,3	Доллар	46,42
Великобритания	91,9	Евро	57,91
	В		А

Округлите все значения до целых и составьте соответствующие пары чисел (курс валюты; спрос на путевки) или (А; В), отметьте точки с такими координатами в системе координат

Зависимость курса валют от спроса на путевки

Спрос на
путевки



Курс
валют