



8 сыныптар



Тақырыбы: «Эрудит!» зияткерлік сайысы

Мақсаты: Оқушылардың ауызша есептеу қабілетін ойын арқылы жетілдіре отырып пәнге деген қызығушылығын арттыру.

Оқушылардың қисын, есте сақтау, ұйымдастыру, оперативтік ойлау қабілеттерін дамыту. Ұйымшылдыққа, жауапкершілікке, байқампаздыққа, еңбекқорлыққа тәрбиелеу.

Түрі: топтық сайыс

Көрнекілігі: инт. тақта, тапсырмалар.

1.Таныстыру.

2.Бәйге. /1мин. 13 сұрақ/

3.Математикалық хоккей.

/ 1 амалдан есептер/

4.Ғажайып алаң.

/Ұяшық таңдау/

5.Кім жылдам? /Сөз табу/

**6.Арифметикалық ребустар
шешу.**



ХОККЕЙ

$(43 * 19 - 26928 : 33) * (16112 : 53 - 304)$



ENGLISH IS FUN

$$43 * 19 = 817$$

$$26928 : 33 = 816$$

$$817 - 816 = 1$$

$$16112 : 53 = 304$$

$$304 - 304 = 0$$

$$1 * 0 = 0$$



t S



u

b



Y

K

v

I

C

v

N

X

F

B

J

Ғажайып алаң

20

20

20

30

30

30

40

40

40



1. *Кадрат түбір астында 625
неге тең?*

20 **ҰПАЙ**


2. *Тәуліктің $4\frac{1}{1}$ бөлігі неше сағ.*



1. Сұрақ белгісінің орнында қандай сан? 14;19; 25; ?; 40.

20 ҰПАЙ


2.100 жылдың басқа атауы.



1. Сұрақ белгісінің орнында қандай сан? 21; 24; 28; ?; 39

20 **ҰПАЙ**


2. 11 санының квадраты нешеге тең?



**1. Үстелде 3 стақан сүт бар.
Алмаз бір стақан сүтті ішіп қойды.
Үстелде неше стақан бар?**

30 ҰПАЙ


**2. Миллиард санын жазғанда
неше нол керек?**



**1. Нанды үш бөлікке бөлу үшін,
нанды неше рет кесу керек?**

30 **ҰПАЙ**

2. Кім барлық тілде сөйлейді ?




1. Торда 4 қоян бар. 4 бала 4 қоянды әкетті, ал бір қоян торда қалды.

Неге?


30 ҰПАЙ

2. Термометр аяз болғасын – үш градус көрсетіп тұр. Осындай екі термометр неше градус көрсетеді?



Ұпай сенікі

40 ҰПАЙ



1. Төмендегі сандар белгілі бір заңдылықпен орналасқан. Сұрақ белгісінің орнында қандай сан тұрады?

40 **ҰПАЙ**

54	36
16	24

135	?
40	60



**1. Сұрақ белгісінің орнында
қандай сан қоямыз?**

40 **ҰПАЙ**

20; 18 → 76

43; 2 → 90

50; 4 → ?





Ким Жеткіндім?



8“А”

СЫНЫП

Ф

Д

8 “Ә”

СЫНЫП

К

Т

8“Б”

СЫНЫП

А

Н

АРИФМЕТИКАЛЫҚ



$$\begin{array}{r} \text{A1C} \\ - \text{1AC} \\ \hline \text{C60} \end{array}$$

$$\begin{array}{r} *6* \\ + *7 \\ \hline **24 \end{array}$$



Назарларыңызға

рахмет!!!

