


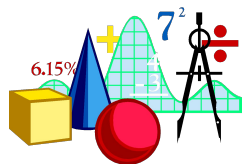
Математический КВН



Девиз :



Приветствие



Конкурс капитанов

ПЛАНИМЕТРИЯ

Разминка




уравнение

Разминка



ОКРУЖНОСТЬ



Разминка



Чему равна четверть часа?

15 МИНУТ

Разминка



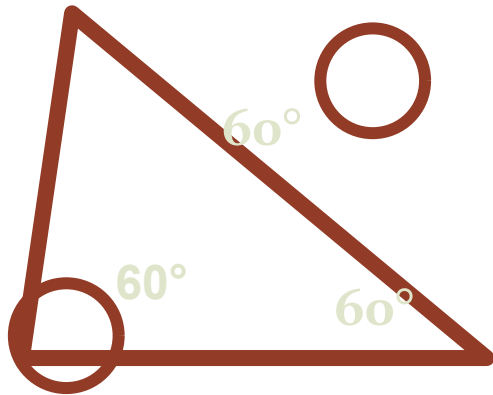
Чему равен 1% от рубля

10 копеек

Разминка





В каком треугольнике
все углы равны?





в равностороннем

"Четырёхугольники"






KBH



2

KBH



3





КВН



1) фут 2) ар 3) га 4) акр





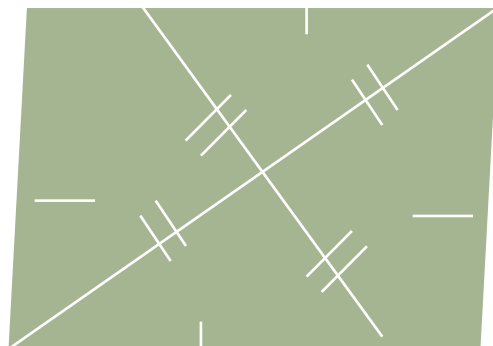
KBH

1) $1 \text{ м}^2 = 100 \text{ см}^2$; 2) $1 \text{ га} = 100 \text{ ар}$
3) $1 \text{ км}^2 = 100 \text{ м}^2$; 4) $1 \text{ см}^2 = 100$
 мм^2



КВН

“Спешите видеть”





КВН

“Спешите видеть”



1.

2.

3.





КВН

“Спешите видеть”

1.

2.

3.

4.





КВН

"Единицы длины"

1

Локоть

2

Дюйм

3

Фут

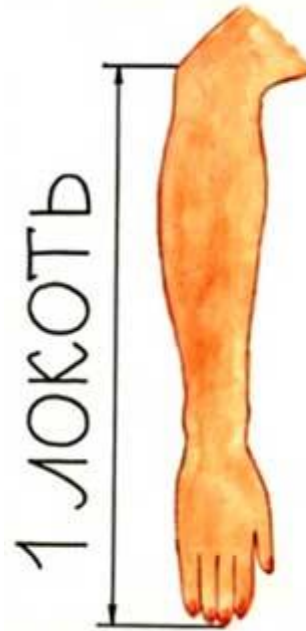
4

Фунт



КВН

"Единицы длины"



Спасибо за
внимание!

