

•

«Прямоугольник.
Ромб. Квадрат.»

•

Цели урока:

- I. *Закрепить теоретический материал по теме «Прямоугольник. Ромб. Квадрат».*
- II. *Совершенствовать навыки решения задач по данной теме.*

Заполнить таблицу, отметив «да» или «нет».

	параллелограмм	прямоугольник	ромб	квадрат
1. Противоположные стороны параллельны и равны.				
2. Все стороны равны.				
3. Противоположные углы равны, сумма соседних углов равна 180° .				
4. Все углы прямые.				
5. Диагонали пересекаются и точкой пересечения делятся пополам.				
6. Диагонали равны.				
7. Диагонали взаимноперпендикулярны и являются биссектрисами его углов.				

Правильные ответы:

	параллелограмм	прямоугольник	ромб	квадрат
1	да	да	да	да
2	нет	нет	да	да
3	да	да	да	да
4	нет	да	нет	да
5	да	да	да	да
6	нет	да	нет	да
7	нет	нет	да	да

28 – оценка «5»

27 - 26 – оценка «4»

25 - 23 – оценка «3»

22 и меньше – оценка «2»

Проверочный тест

Вариант 1

1. Любой прямоугольник является:

- A. Ромбом
- B. Квадратом
- C. Параллелограммом
- D. Нет правильного ответа

Вариант 2

1. Любой ромб является:

- A. Квадратом
- B. Прямоугольником
- C. Параллелограммом
- D. Нет правильного ответа

Проверочный тест

Вариант 1

2. Если в прямо-угольнике диагонали перпендикулярны, то этот прямо-угольник - ...

- A. Ромб*
- B. Квадрат*
- C. Параллелограмм*
- D. Нет правильного ответа*

Вариант 2

2. Если в параллелограмме диагонали перпендикулярны, то этот параллелограмм - ...

- A. Ромб*
- B. Квадрат*
- C. Прямоугольник*
- D. Нет правильного ответа*

Проверочный тест

Вариант 1

3. Ромб – это четырехугольник, в котором...
- A. Диагонали точкой пересечения делятся пополам и равны;
 - B. Диагонали взаимно перпендикулярны и точкой пересечения делятся пополам ;
 - C. Противоположные углы равны, а противоположные стороны параллельны;
 - D. Нет правильного ответа.

Вариант 2

3. Прямоугольник – это четырехугольник в котором...
- A. Противоположные стороны параллельны, а диагонали равны;
 - B. Диагонали точкой пересечения делятся пополам и являются биссектрисами его углов;
 - C. Два угла прямые и две стороны равны;
 - D. Нет правильного ответа.

Ответы к тесту

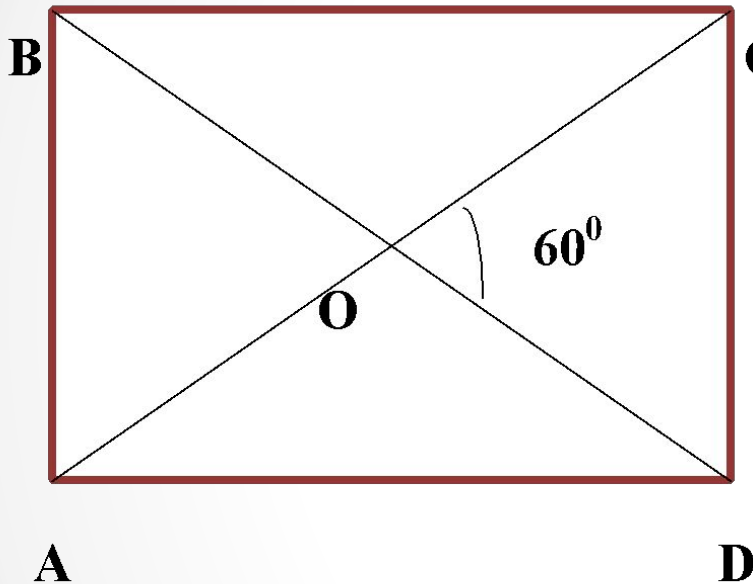
№ задания	1	2	3
Вариант 1	С	В	В
Вариант 2	С	А	А

Одно задание – оценка «3»

Два задания – оценка «4»

Три задания – оценка «5»

Задача 1



Дано: ABCD – прямоугольник; $\angle COD = 60^\circ$.

Найти: $\angle AOB$, $\angle BOC$.

Ответ: $\angle AOB = 60^\circ$, $\angle BOC = 120^\circ$.

Задача 2

Дано: ABCD – прямоугольник;
 $\angle ABD$ больше $\angle CBD$ на 20° .

Найти: углы треугольника AOD.

Ответ: $\angle A = 35^\circ$, $\angle O = 110^\circ$, $\angle D = 35^\circ$

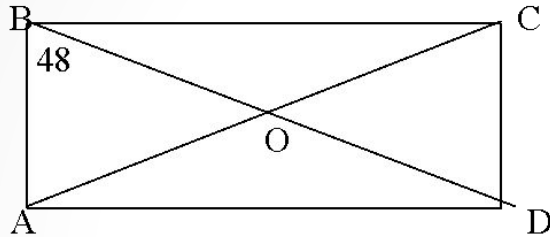
Задача 3

В ромбе угол между диагональю и стороной равен 25° . Найдите углы ромба.

Ответ: 50° ; 130°

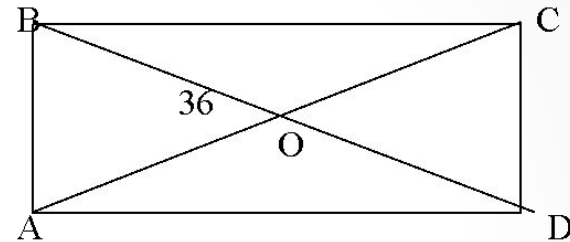
Самостоятельная работа

Вариант 1.



1. Дано: ABCD – прямоугольник; $\angle ABD = 48^\circ$.
Найти: $\angle COD$, $\angle CAD$.
2. Угол ромба равен 32° .
Найдите углы, которые образует его сторона с диагоналями.

Вариант 2.



1. Дано: ABCD – прямоугольник; $\angle BOA = 36^\circ$.
Найти: $\angle CAD$, $\angle BDC$.
2. Дано: ABCD – прямоугольник; $\angle ADB$:
 $\angle CDB = 4:5$.
Найти: углы треугольника AOB.

Ответы к задачам

	Вариант 1	Вариант 2
1	$\angle COD = 84^\circ;$ $\angle CAD = 42^\circ$	$\angle CAD = 18^\circ,$ $\angle BDC = 18^\circ$
2	$16^\circ; 74^\circ$	$50^\circ; 50^\circ; 80^\circ$

Две ошибки– оценка «3»

Одна ошибка– оценка «4»

Без ошибок– оценка «5»

Удачи!!!