





# 1 конкурс Разминка

2 конкурс



Головоломка

Пришел мельник на мельницу. На мельнице четыре угла, в каждом углу – по четыре мешка, в каждом мешке – по четыре кошки, у каждой кошки – по четыре котенка. Сколько всего ног на мельнице?

**Две ноги,  
остальные -**



**коты**

Пришёл покупатель в хозяйственный магазин:

- Сколько стоит «один»?

- Пять рублей, - ответил продавец.

- Сколько стоит «восемнадцать»?


- Десять рублей.

- Сколько стоит «сто восемьдесят пять»?

- Пятнадцать рублей.

- Хорошо, дайте мне «сто восемьдесят пять».

Что купил покупатель?



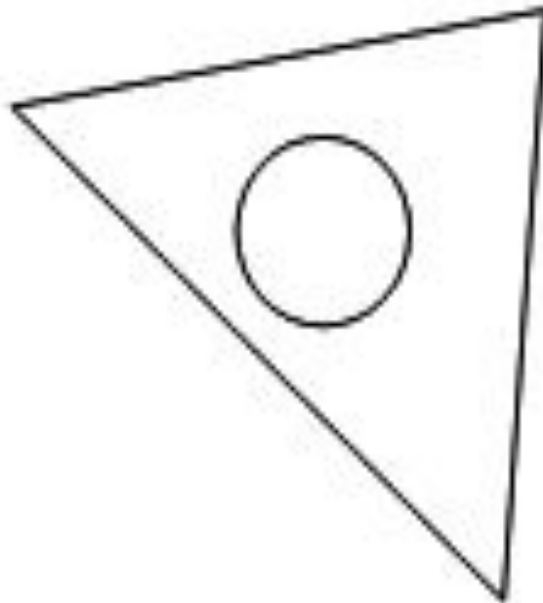
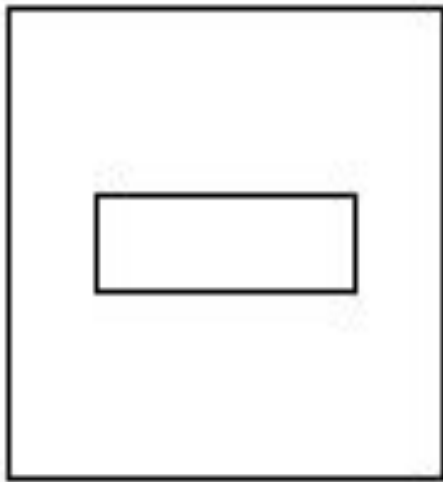
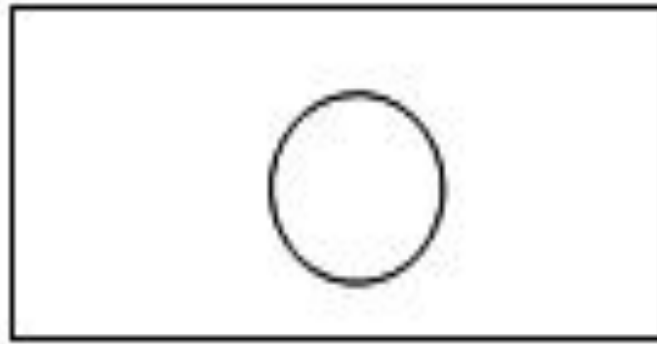
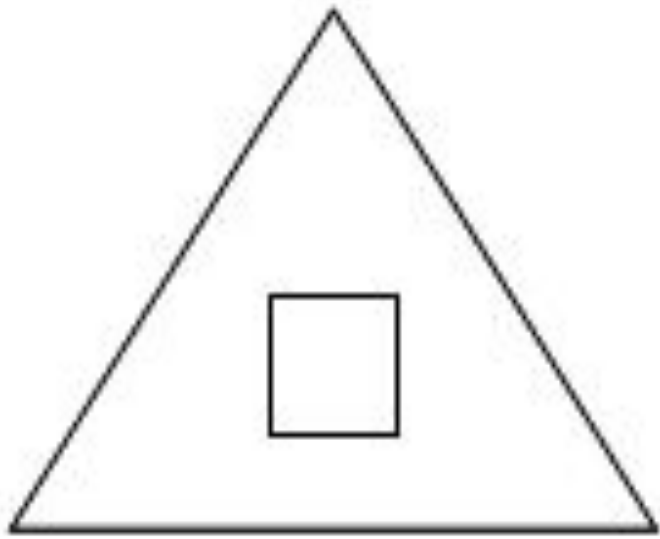
**Номер для квартиры**

**185**

# 3 конкурс



Нарисуй - ка



4

4 конкурс

8

Посчитай-ка

7

7

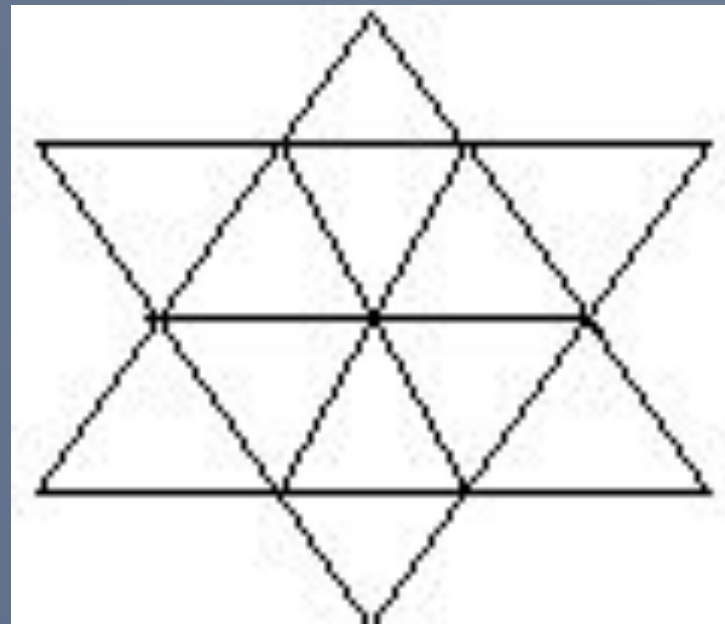
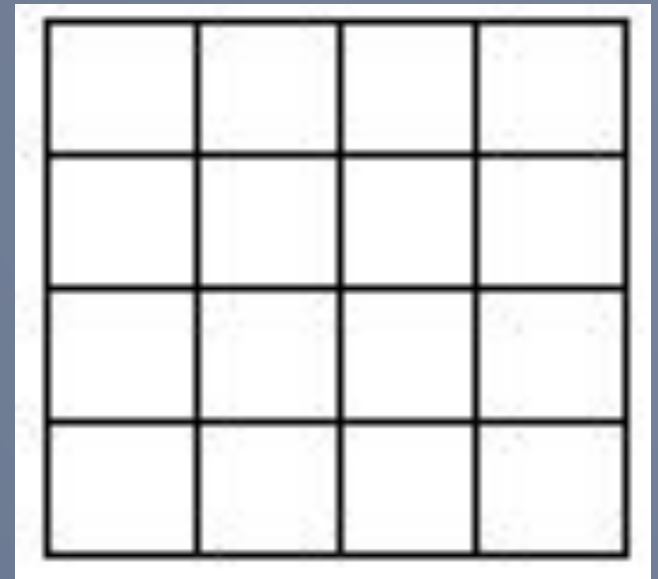
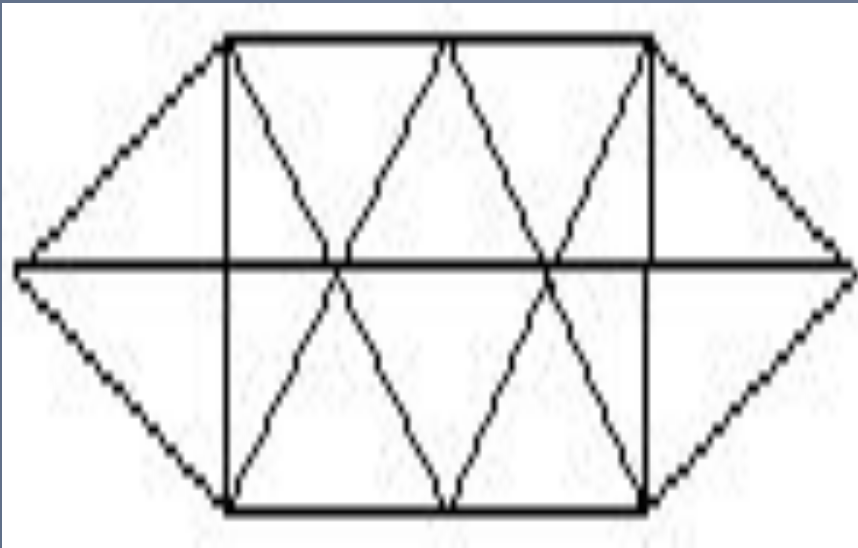
2

9

3







# 5 конкурс Догадайся



$$x^2 + y^2 + 2ax + 2by + c = 0$$

$$(x, y) = F(x, y)$$

$$a = \pi r^2$$

$$5 \quad 5 \quad 5 = 2$$

$$5 \quad 5 \quad 5 = 4$$

$$5 \quad 5 \quad 5 = 5$$

$$(5 + 5) : 5 = 2$$

$$5 - 5 : 5 = 4$$


$$5 \cdot 5 : 5 = 5$$

# 6 конкурс

## Угадай - ка

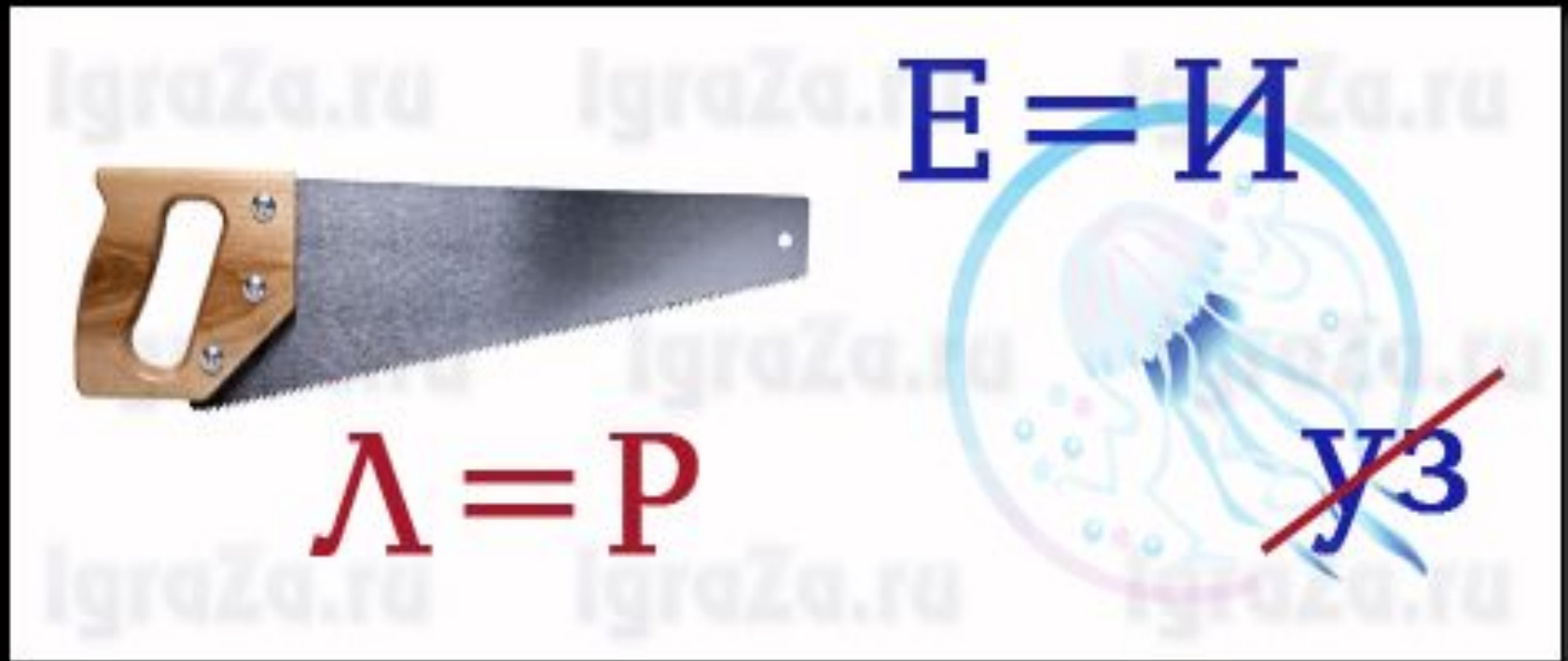


*I am so happy to have a friend like you*





КОНУС



пирамида

ИграZa.ru    ИграZa.ru    ИграZa.ru

**МИ**

ИграZa.ru    ИграZa.ru    ИграZa.ru



**О=У**

ИграZa.ru

**МИНУС**





задача



два



ПЯТЬ

чи



ЧИСЛО



Д



1,2,Т

квадрат



отрезок

Пока, до встречи!



Бибуня