


ВПР: «Линейные уравнения»

*«Интерактивная раскраска в
программе PowerPoint»*

*Иванова Нина Николаевна,
учитель математики
МОУ «СОШ»с. Большелуг
Корткеросский район
Республика Коми
2021 г.*



Инструкция:

Ребята!

**Вам предстоит решить
линейные уравнения. Если
вы ответите правильно, то
картинка раскрасится.**

Желаю удачи!



$$2 + 3x = -2x - 13$$




3

-3

-2

$$2-3(2x+2)=5-4x$$




-4,5

-4,4

-4,6

$$1-7(4+2x)=-9-4x$$




-1,4

-1,6

-1,8

$$5 - 2x = 11 - 7(x + 2)$$



-1,6

-1,8

-1,4

$$3x+5+(x+5)=(1-x)+4$$



2

-2

-1

$$10x+9=7x$$



-1

-3

-5

Источники:

Фон:

<https://i.ytimg.com/vi/LkSsKHVBW8M/maxresdefault.jpg>

<https://ds05.infourok.ru/uploads/ex/0e54/00134833-55b0d48c/img14.jpg>

[раскраска](#)

Решу ВПР»: математика – 7. ВПР - 2021: задания, ответы, решения.

Обучающая система Дмитрия Гущина

<https://math7-vpr.sdangia.ru/test?theme=9>

Выполнено с применением технологического приёма **«Интерактивная раскраска в программе PowerPoint»** (автор - Г. О. АСТВАЦАТУРОВ)

Рисунок раскрашен с помощью программы **paint.net**

