



Урок-сказка

«ПО ДОРОГЕ К
ДЕДУ
МОРОЗУ»

Цель урока:

Преодолевая трудности,
решая задачи на
проценты, добратся до
деда Мороза

Игра в снежки



Поймай снежинку

1. Назовите десятичные дроби,
соответствующие



1%



5%



100%



120%



195%



2,31%



0,8%

Поймай снежинку

2. Выразите в процентах



1,67



2,07





0,43



0,03

Поймай снежинку



3. Найдите:

1%
от 800

50%
от 48


20%
от 40



25%
от 64




30%
от 15



Поймай снежинку


4. Найдите число, если




15%
его
равны
45




3%
его
равны
0,3






Поймай снежинку

5. Сколько процентов составляет



30
от
300

300
от
30



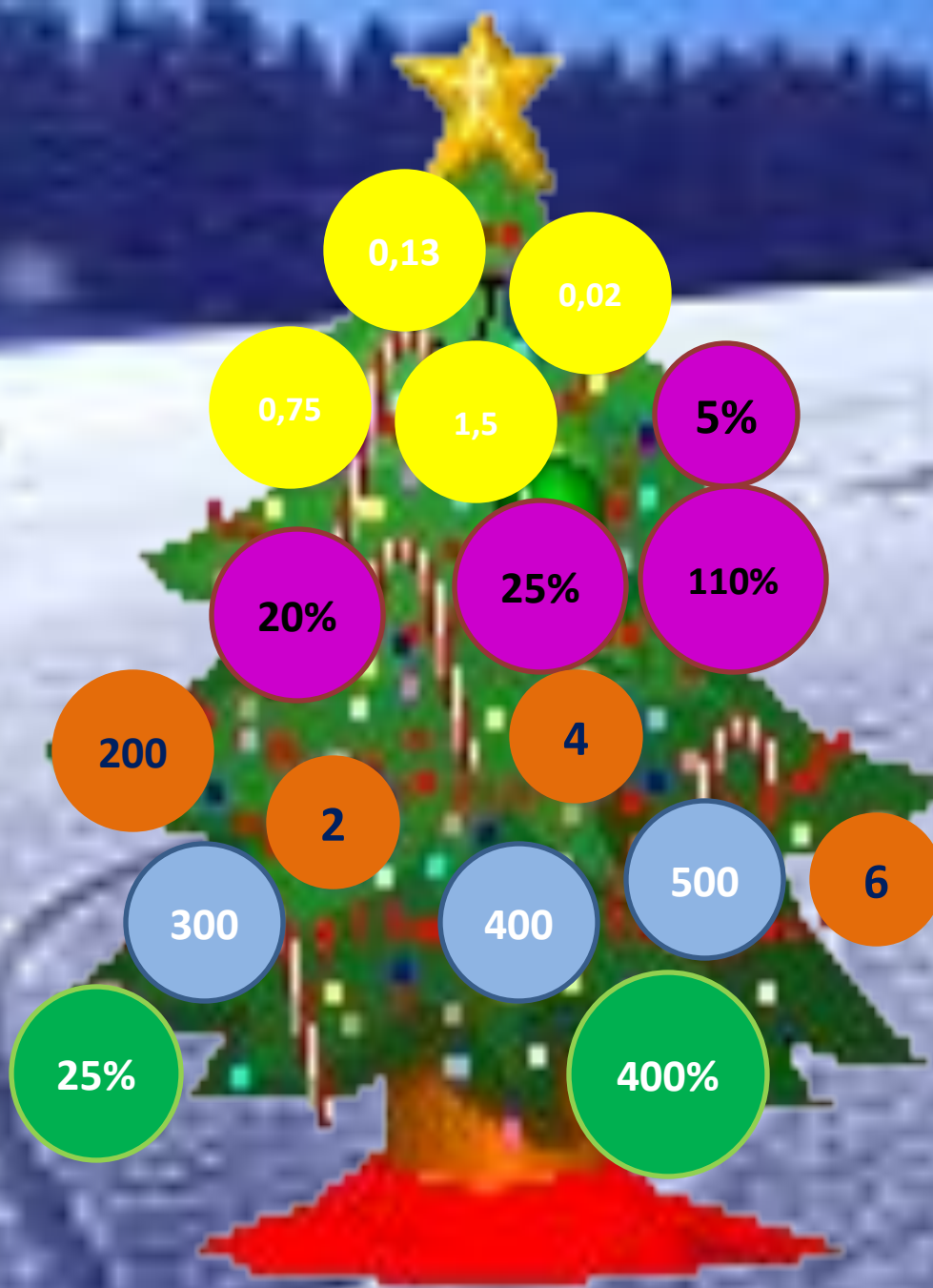



Математический диктант

Укрась елку новогодними шариками


$\frac{1}{4}$








Решите задачу



Снеговик расчищал футбольное поле площадью 510 м^2 . В первый час он расчистил 70% поля. Сколько м^2 он расчистил за второй час?




70%

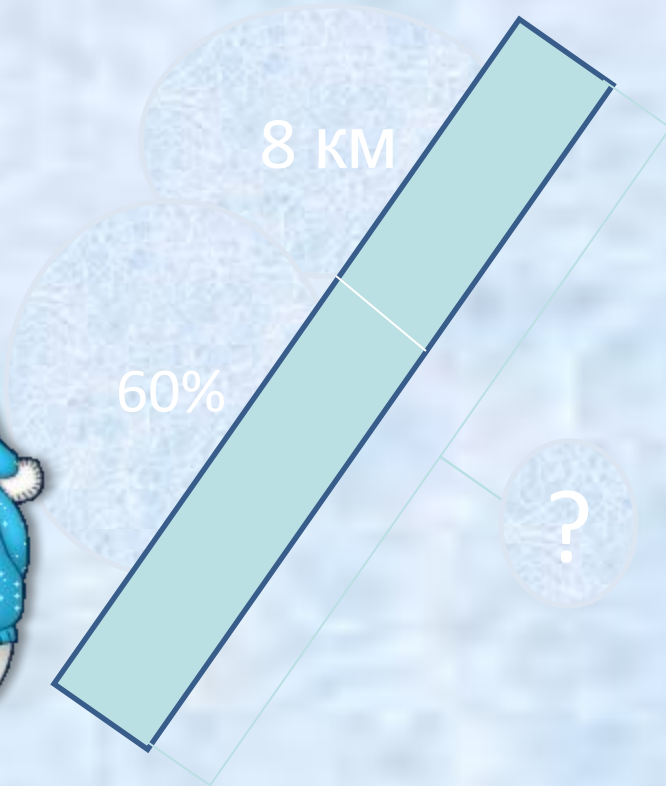
?

Всего 510 м^2

Решите задачу



Снеговик, идя к дому деда Мороза, в первый час прошел 60%, а во второй 8 км. Определите расстояние до дома деда Мороза.






Решите задачу



Масса белого медведя 120 кг, а масса медвежонка 18 кг. Сколько процентов массы белого медведя составляет масса медвежонка?



Решите задачу

Железнодорожный билет до Великого Устюга для взрослого стоит 820 рублей. Стоимость билета для школьника составляет 60% от стоимости билета для взрослого. Группа состоит из 25 школьников и 4 взрослых. Сколько стоит билет на всю группу?



**Вы справились со
всеми
трудностями!
С Новым годом!**

