

Мальцева Светлана Валерьевна

Учитель начальных классов

МОУ Большеничkinsкой СОШ № 5

*Педагогический
стаж: 19 лет*



2011 год

Очень
внима
тельны
ми

Сообрази
тельными

Уважать
друг друга

Правильно
выполнять
задания



Отработать
вычислитель
ные навыки

Не допускать ошибок

Урок математики 3 класс.



Тема: «Устные приёмы
умножения и деления
трёхзначных чисел на
однозначное».



Цель:

Отработать вычислительные навыки при решении примеров в пределах 1000, при решении задач.

Задачи:

- Закрепить умения решать задачи;
- Развивать внимание, логическое мышление;
- Воспитывать взаимоуважение.



$$28:5=5(3)$$

$$300 \times 3=900$$

$$240:30=80$$

$$350:70=5$$

$$96:44=2(8)$$

$$420:60=7$$

$$200 \times 3=60$$

$$400 \times 2=800$$

$$39:12=2(15)$$

Предполётная разминка


продолжи и запиши ряд чисел, определив закономерность.

832, 732, 632, ..., ..., ..., ..., ...

704, 703, 702, ..., ..., ..., ..., ...

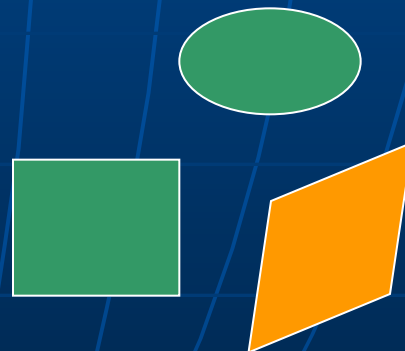


А теперь, чтобы запустить ракету, мы должны проверить готова ли она к полёту, решив примеры.



М о л о д ц ы !

Лети, лети, ракета,
На запад, на восток,
Считая километры,
И прибывая в срок!



Корабли в космосе.

Нужно установить связь между ними.


1 вариант

$180 \times 2 =$

$840 : 2 =$

$4 \times 240 =$

$910 : 7 =$



2 вариант

$3 \times 170 =$

$650 : 5 =$

$560 \times 2 =$

$4 \times 150 =$



4. Физ. минутка

А сейчас мы с вами, дети,
Улетаем на ракете.

На носки поднимись,
А потом руки вниз.

Раз, два, три, четыре –
Вот летит ракета ввысь!

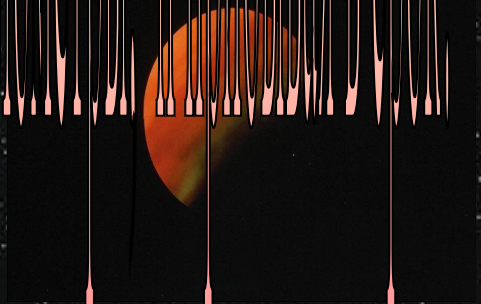
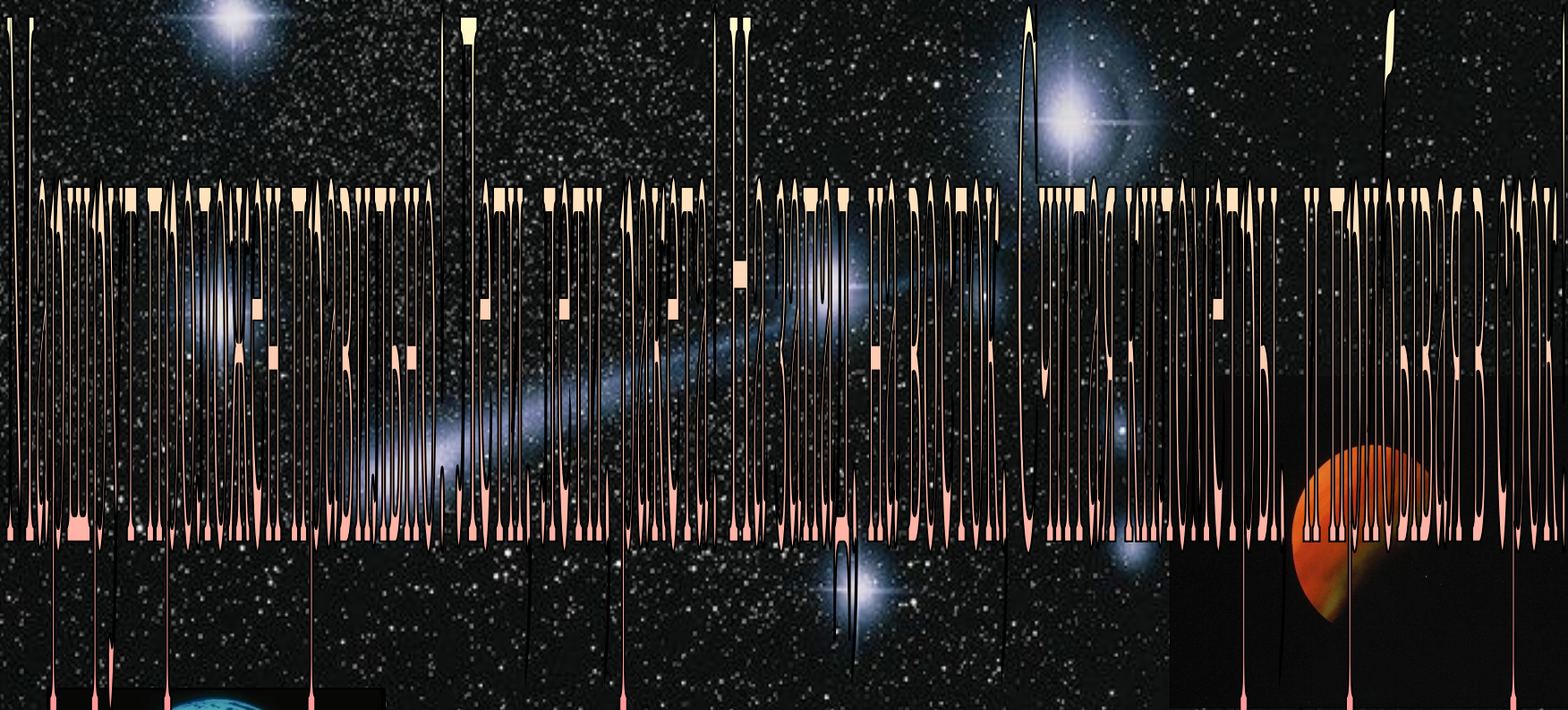


1 экипаж. Начертите ломаную линию из четырёх равных звеньев, длина которой равна 12 см.

2 экипаж. Начертите равносторонний треугольник со стороной 3 см. найдите его периметр.

3 экипаж. Начертите квадрат, периметр которого равен 20 см.





1 экипаж. Российский космонавт Павел Попович на космическом корабле, 48 раз облетел Землю, американец Уолтер Ширра – 6 раз, американец Гордон Купер – 22 раза. На сколько раз больше облетел Землю Павел Попович, чем Ширра и Купер вместе?

2 экипаж. За три дня Музей космонавтики посетили 540 школьников. В первый день было проведено 4 экскурсии по 20 человек, во второй день – 6 таких экскурсий. Сколько экскурсий было проведено в третий день?

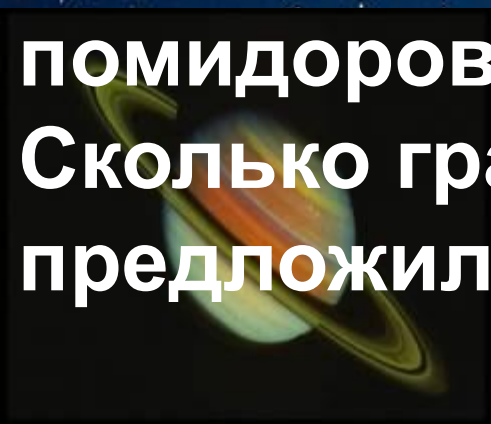
3 экипаж. У Алёши три альбома с марками на тему «Космос» в одном альбоме 12 марок, а в двух других альбомах по 40 марок. Сколько всего марок у Алёши?

Витаминный обед:

1 экипаж. Вам предлагают 6 кг.яблок и 11 кг.бананов. Сколько граммов фруктов вам предлагают?


2 экипаж. У вас в запасе есть 5 кг.яблок, 2 кг.груш, а бананов столько, сколько яблок и груш вместе. Сколько граммов бананов у вас есть в запасе?

3 экипаж. Вам предлагают 14 кг. помидоров и огурцов. Помидоров 11 кг. Сколько граммов огурцов вам предложили?



№12, с.77.

1 экипаж. 1,3 столбик
2 экипаж. 1,3,4 столбик
3 экипаж.- весь номер.





Полетели домой!

