


Проверочная работа по теме «Происхождение человека»


Установите соответствие, соединив стрелками
рисунок и название



Негроид



Европеоид



Североамериканский индеец



Монголоид




Австралиец


Разделите доказательства происхождения человека от животных на две группы и подпишите их:




Запишите имена ученых




- в 1871 г. опубликовал работу «Происхождение человека и половой отбор», в которой доказал родство Человека с человекообразными обезьянами.



- поместил человека в отряд приматов вместе с обезьянами и дал название виду *Homo sapiens*



- впервые показал, что изготовление и применение орудий труда привело к превращению обезьяны в человека



- первым предложил гипотезу происхождения человека от обезьяноподобных предков, которые перешли от лазанья по деревьям к прямохождению

Какие из этих обезьян относятся к
человекообразным? Удалите «лишних» и
подпишите названия оставшихся



Исправьте ошибки

Питекантроп

Неандерталец

Кроманьонец

