

Проверка
**Взаимоотношения
организмов**

Задание №1. Написать определение

1 вариант

Квартиранство – это...

Хищничество – это...

2 вариант

Паразитизм – это...


Симбиоз – это...

Задание №2

По картинке определить вид
взаимоотношения

№1

Волоклюи (птицы) на теле буйволов.



Задание №2

По картинке определить вид
взаимоотношения

№2



– **мокрица** “*Symothoa exigua*”, или, как её прозвали “Пожирающий язык” и **рыбы**

Задание №2

По картинке определить вид
взаимоотношения

№3


Лишайники



Задание №2

По картинке определить вид
взаимоотношения

№4



Тигры и волки

Задание №2

По картинке определить вид
взаимоотношения

№5




Лев и зебра

Задание №2

По картинке определить вид
взаимоотношения

№6



Акула и рыба
Прилипала

Задание №2

По картинке определить вид
взаимоотношения

№7



Актиния и
рыба клоун

Задание №2

По картинке определить вид
взаимоотношения

№8



КОТ И МЫШИ

Задание №2

По картинке определить вид
взаимоотношения

№9



Рак отшельник
и Актиния

Задание №2

По картинке определить вид
взаимоотношения

№10



Клещ и собака

Задание №2

По картинке определить вид
взаимоотношения

№11

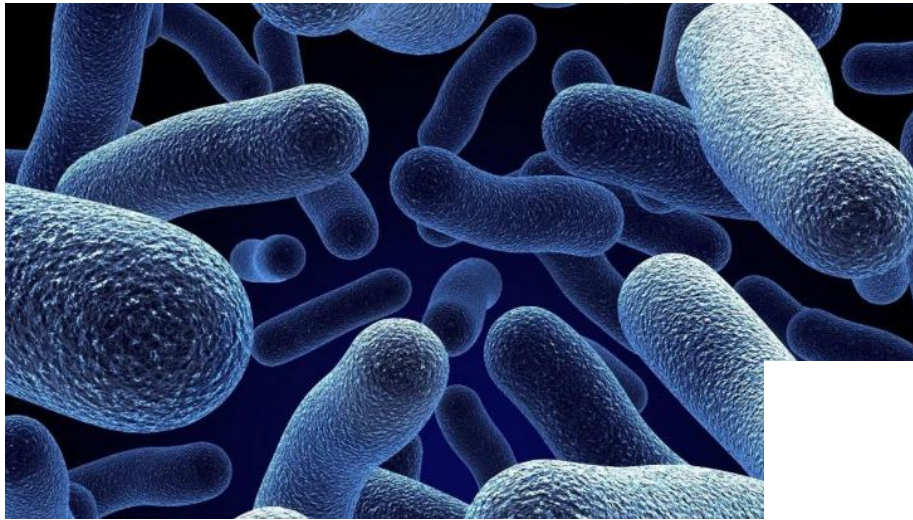


Кальмар и
светящиеся
бактерии

Задание №2

По картинке определить вид
взаимоотношения

№12



Бобовые растения и
клубеньковые
бактерии



Задание №2

По картинке определить вид
взаимоотношения

№13



Лишайник и
дерево

Задание №2

По картинке определить вид
взаимоотношения

№14

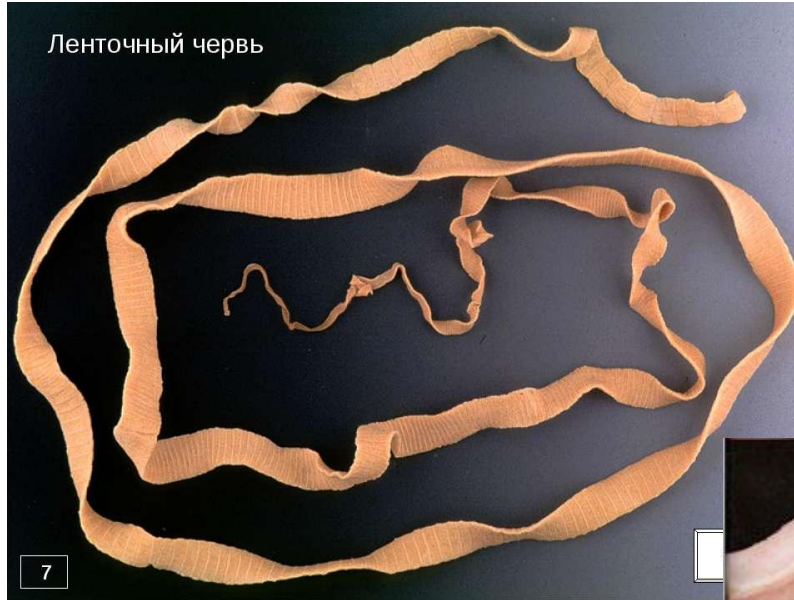


Медуза и рыбы
пикши и трески

Задание №2

По картинке определить вид
взаимоотношения

№15



Свинья и
ленточный
червь

Задание №2

По картинке определить вид
взаимоотношения

№16



Осина и гриб

Задание №2

По картинке определить вид
взаимоотношения

№17



Эпифиты и
деревья

Задание №2

По картинке определить вид
взаимоотношения

№18



Люди в
автобусе

