

Математика

УМК «ШКОЛА РОССИИ»

Учебник для 2 класса начальной школы

М. И. Моро, М. А. Бантова, Г.В. Бельтюкова,
С.И. Волкова, С.В. Степанова.

Харитоненко Алла Петровна

МОУ СОШ

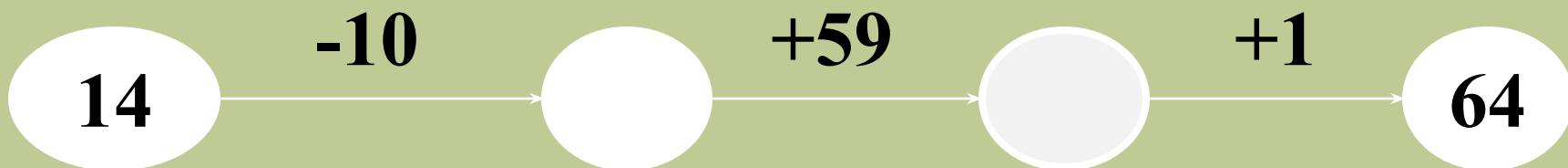
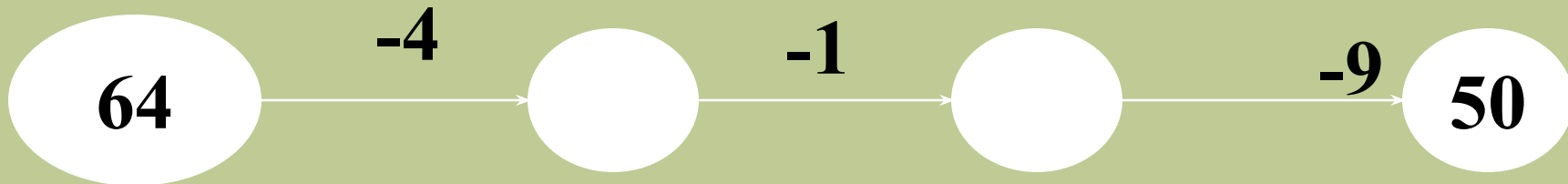
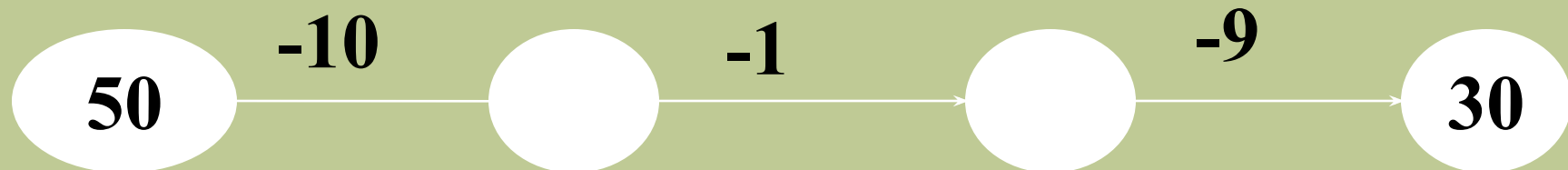
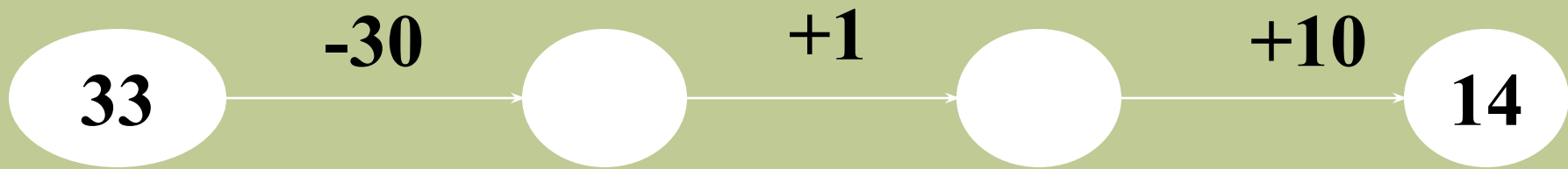
г.Духовщина

Смоленской области.

Тема урока:

Решение задач.

Закрепление.



Расшифруйте слово.

14

30

50

64

К

Р

А

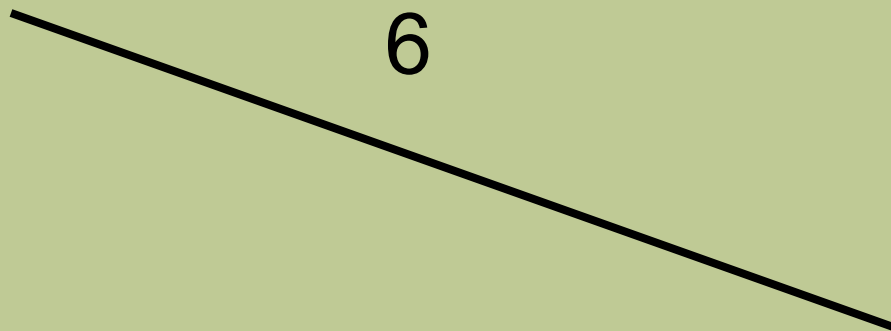



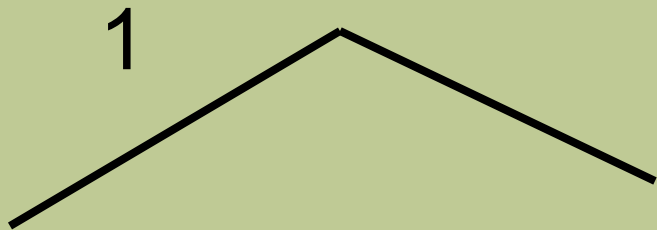
П

«Смоленское Поозерье»

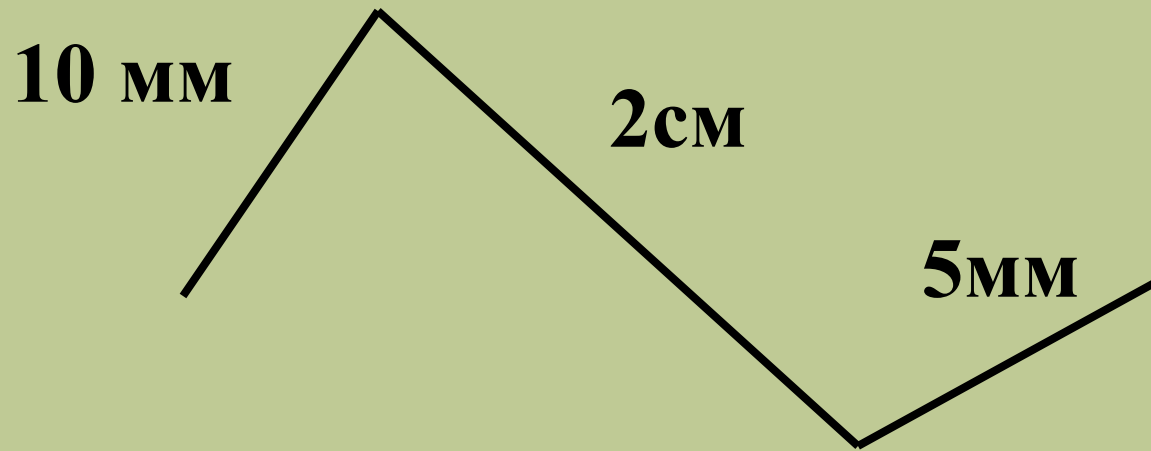


ПАРК

Назовите номера ломаных линий.



Вычислите длину ломаной линии.




$$2 \text{ см} = 20 \text{ мм}$$

озеро Салшо



кот Леопольд

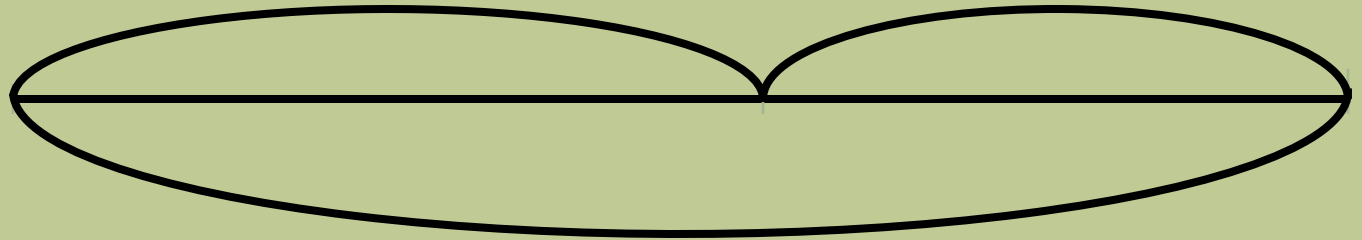


Задача 1.

7к.

?

1.

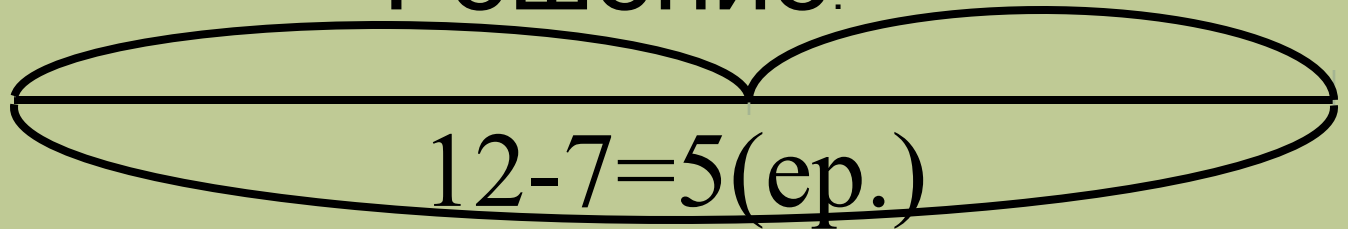


12р.

7к. Решение.

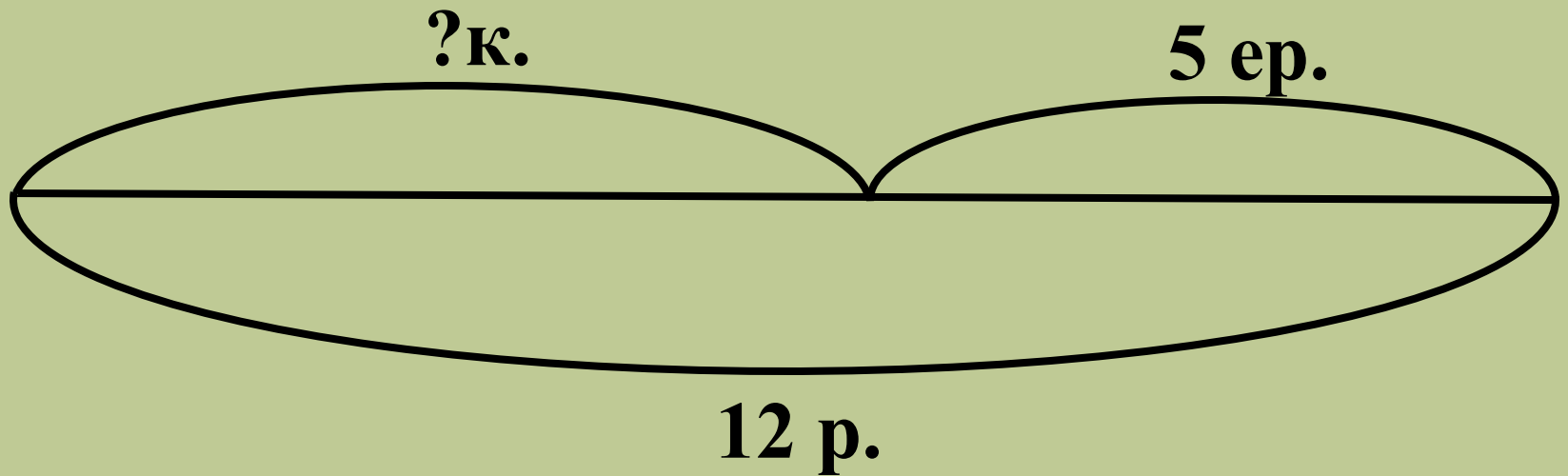
12р.

2.



Ответ: 5 ершей.

Задача 2.



Решение.

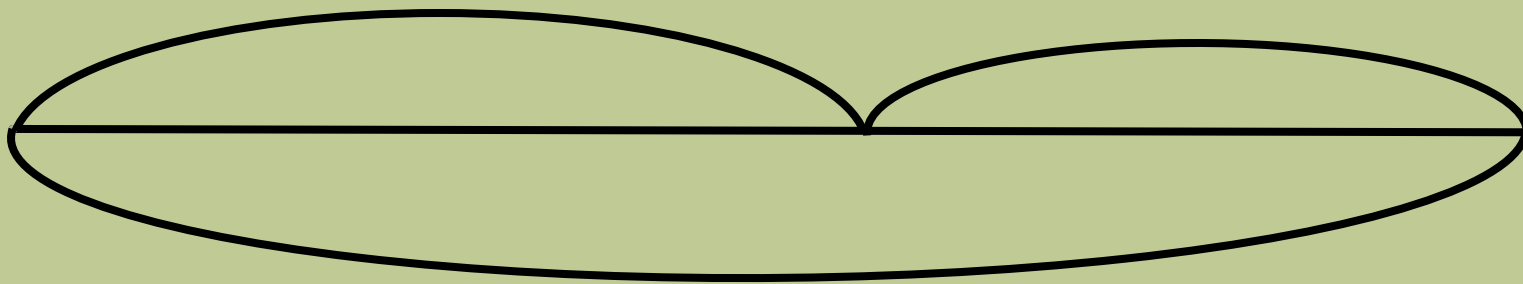
$$12 - 5 = 7(\text{к.})$$

Ответ: 7 карасей.

Задача 3.

7к.

5ер.



? Р.

Решение.

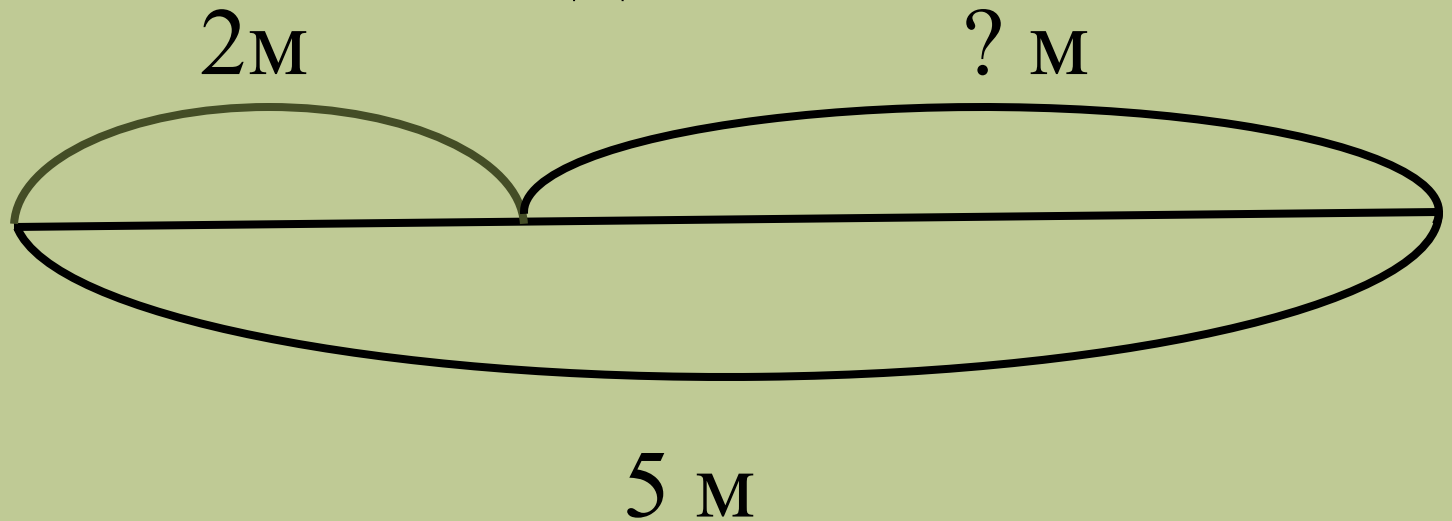
$$7+5=12 \text{ (р.)}$$

Ответ: 12 рыб.

Бобёр



Задача 4.



Решение.

$$5 - 2 = 3 \text{ (м)}$$

Ответ: 3 метра.

Карточка №1.

$$45 = \square + 5 \quad 3 + 8 - 6 \quad 8 + 0$$

$$87 = 80 + \square \quad 8 + 7 - 6 \quad 6 - 0$$

$$60 = 65 - \square \quad 6 + 9 - 7 \quad 9 - 9$$

Карточка №1.

$$45 = 40 + 5 \quad 3 + 8 - 6 = 5 + 0 = 8$$

$$87 = 80 + 7 \quad 8 + 7 - 6 = 9 - 0 = 6$$

$$60 = 65 - 5 \quad 6 + 9 - 7 = 8 \quad 9 - 9 = 0$$

Карточка №2.

Выразите:

$$1\text{ м} = 100\text{ см}$$

$$1\text{ см} = 10\text{ мм}$$

$$1\text{ дм} = 10\text{ см}$$

$$1\text{ м} = 10\text{ дм}$$

Самостоятельная работа.


$$38 \text{ мм} < 4 \text{ см}$$

$$1 \text{ см } 8 \text{ мм} < 20 \text{ мм}$$

$$5 \text{ дм} < 1 \text{ м}$$

$$23 \text{ мм} > 2 \text{ см}$$


Молодцы!

A black grouse (Tetrao tetrix) is shown in its natural habitat. The bird has dark, iridescent feathers, a prominent red patch around its eye, and a thick, white, slightly curved beak. It is standing in a field of dry, yellowish-brown grass. In the background, there are several trees, including a large tree trunk on the left and a line of bare trees in the distance under a clear sky.

**Давайте
сохраним!**

A photograph of a raccoon sitting in a forest. The raccoon is the central focus, looking directly at the camera. It has its characteristic black mask and is surrounded by green grass and brown leaves. In the background, there is a tree trunk and some bare branches. Overlaid on the image is large red text in Russian.

**Давайте
сохраним!**



**Давайте
сохраним!**

Домашнее задание.

Учебник
стр.26 №3

Список литературы.

1. <http://kp.by/daily/24515/664598/>
2. <http://www.diary.ru/search/?postsbytag&id=767&from=5460>
3. <http://fotki.yandex.ru/users/avatar6/view/35>
4. http://dlr.narod.ru/novosti_html/novosti_25.htm
5. <http://www.ruschudo.ru/miracles/192/photos>
6. <http://igor-sergeevich.atkin.narod.ru/Shutka10.html>
7. <http://besplatnovse.3dn.ru/index/leopold/0-2>