


***Отдел Моховидные, особенности строения и жизнедеятельности.
Значение мхов.***

Боярченко Мария
Владимировна
Учитель биологии
МОУ СОШ №2
Г.Енисейск
Красноярский край



Моховидные – это древнейшая группа высших споровых растений.

Общая характеристика отдела:

1. Численность 20 – 25 тыс. видов;
2. Преимущественно многолетние, невысокие от 3 до 7 см живые организмы;
3. Обитают в местах с повышенным содержанием воды, хотя некоторые живут и в пустыне;
4. Тело большинства моховидных представлено побегом, состоящим из стебля и листьев;
5. К субстрату прикрепляются с помощью ризоидов;
6. Развиты основная и фотосинтезирующая ткань, фотосинтез происходит и летом, и зимой под глубоким снежным покровом при температуре - 14°C;
7. Размножаются половым путем.

Строение моховидных.

Класс Печеночники

- Численность 6 тыс. видов;
- Представители: маршанция, риччия;
- Примитивные, очень древние растения, тело представлено слоевищем;
- Размножаются половым путем, а также вегетативно.



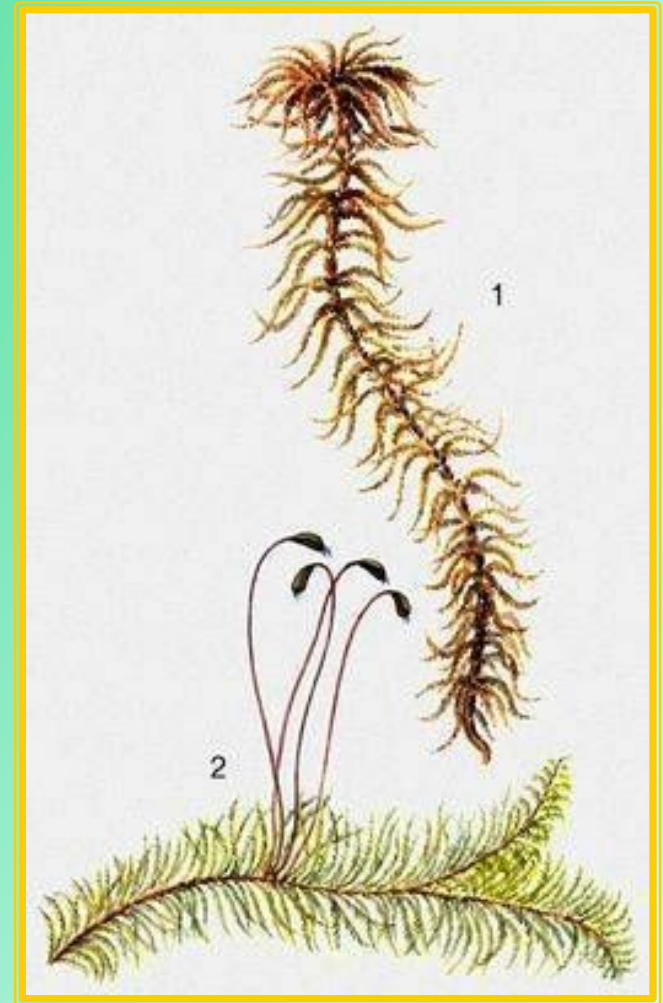
Класс Листостебельные. Зеленые мхи.

- Представитель: кукушкин лен или политрихум обыкновенный;
- Многолетние двудомные растения, растущие группами;
- Является индикатором окружающей среды: появление на почве – сигнал, предупреждающий о заболачивании почвы.



Класс Листостебельные. Сфагновые мхи.

- Численность – около 300 видов;
- Представитель: сфагнум – белый мох;
- Отсутствуют ризоиды;
- В местах прикрепления листьев имеются большие мешковидные клетки, за счет которых сфагнум может поглотить воды в 20 раз больше их собственной сухой массы;
- Образует торф.



Лабораторная работа №16

Тема: Изучение внешнего строения моховидных растений.

Цель: Найти признаки более высокой организации мхов по сравнению с водорослями.

Оборудование: Экземпляры кукушкиного льна, сфагнума, стакан с водой, препаровальная игла, лупа.

Ход работы.

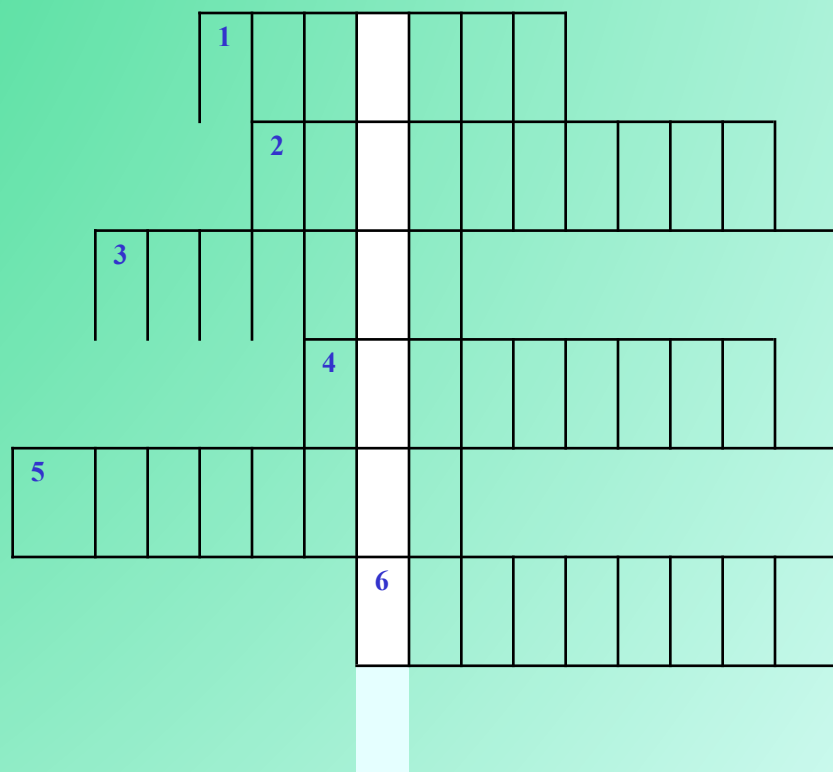
1. Рассмотрите внешнее строение зеленого мха кукушкин лен. Найдите стебель и листья, обратите внимание на их форму, расположение, размер и окраску. Обратите внимание на особенности строения стебля (ветвистый, неветвистый).
2. На нижней части стебля мха найдите тонкие бурые выросты – ризоиды.
3. На верхушке стебля найдите ножку и коробочку со спорами. Раскройте значение спор в жизни мхов.
4. Сравните кукушкин лен с мхом – сфагнумом. Отметьте строение, форму листьев, коробочек, ветвление стебля.
5. На предметное стекло налейте большую каплю воды. Положите на нее сфагнум. Сделайте выводы о том, что произойдет и почему.
6. Заполните сравнительную таблицу по форме.
7. Чем отличаются мхи от водорослей? Почему мхи – это высшие споровые растения? Сделайте вывод.

Домашнее задание:

- 1. § 40, читать, пересказывать, отвечать на вопросы.**
- 2. Составить кроссворд по теме: «Строение и жизнедеятельность мхов», или «Многообразие моховидных».**
- 3. Написать доклад об одном из представителей отдела моховидные.**

Разгадав кроссворд, вы узнаете фамилию ученого, основоположника науки о мхах – бриологии.

1. Мох, образующий торф.
2. Стадия развития мха.
3. Органы прикрепления к субстрату.
4. Мхи по типу питания.
5. Общее название коробочки со спорами.
6. Зеленое растения мха.



1						
С	Ф	А	Г	Н	У	М

2										
	П	Р	Е	Д	Р	О	С	Т	О	К

3										
Р	И	З	О	И	Д	Ы				

4										
А	В	Т	О	Т	Р	О	Ф	Ы		

5										
С	П	О	Р	О	Ф	И	Т			

6										
Г	А	М	Е	Т	О	Ф	И	Т		

--