

Задание. Назовите растение семейства

семейства



1



2



3



4



5



6

Д.з. §49

Класс Двудольные,

Семейство Паслёновые



Ключевые слова и понятия:

отдел покрытосеменные, класс
двудольные,
семейство Паслёновые; правильный
цветок,
формула цветка, способы опыления и
способы распространения семян.

**Корневая
система:**



стержневая

**Корневая система с
большим
количеством
придаточных корней**

Стебель:



**Прямостоячи
й,
травянистый,
деревянисты
й**

Листья

Листья простые, сильно

..



таба



картофе

П

Диаграмма цветка



Плод

коробочка

ягода





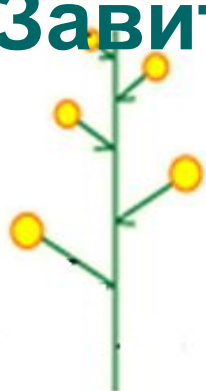
дурма
н



тома
т

Соцвети е

Кисть
Завиток



Видоизменённые клубни и побеги:



Общая характеристика

Корневая система – стержневая

Стебель – прямостоячий

Жилкование – сетчатое

Листорасположение – очерёдное.

Формула цветка – $C(5)L(5)T5P1$

Соцветие – кисть.

Плод – ягода (паслён чёрный, томат), коробочка (табак, петуния гибридная, белена чёрная)

Продолжительность жизни – однолетние, многолетние

Значение – пища, лекарственные, сорняки, декоративные растения.



- Семейство Паслёновые
- Пищевые
- Лекарственные
- Декоративные

Картофель
Томат
Перец
Баклажаны

Белладонна
Белена
Дурман

Петуния
Душистый табак

Культурные растения семейства



Баклажа

Н



**Болгарский
перец**



**Помидор или
томат**



**Картофе
ль**



**Петуни
я**



Табак душистый

Дикорастущие растения семейства



**Красавк
а**



**Белена
чёрная**



**Паслён сладко -
горький**



**Дурман
обыкновенный**

Вставьте пропущенные слова:

**У растений семейства паслёновых
цветок имеет ... околоцветник,
чашечка состоит из ... сросшихся
чашелистиков, венчик состоит из ...
сросшихся лепестков, тычинок ... ,
пестиков**

Двойной, 5, 5, 5,

1

Соотнесите названия растений и их изображения

1. белена
2. картофель
3. дурман
4. паслён чёрный
5. болгарский перец
6. томаты

а



г



б



д



в



е



Ответы

1в, 2е, 3а, 4г, 5д, 6б