

Тема:

Сложение и вычитание
в пределах 100.

Закрепление



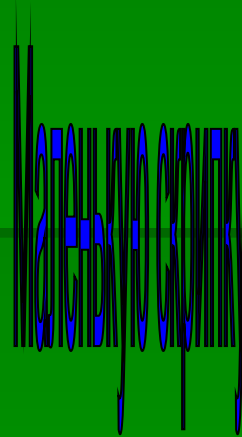
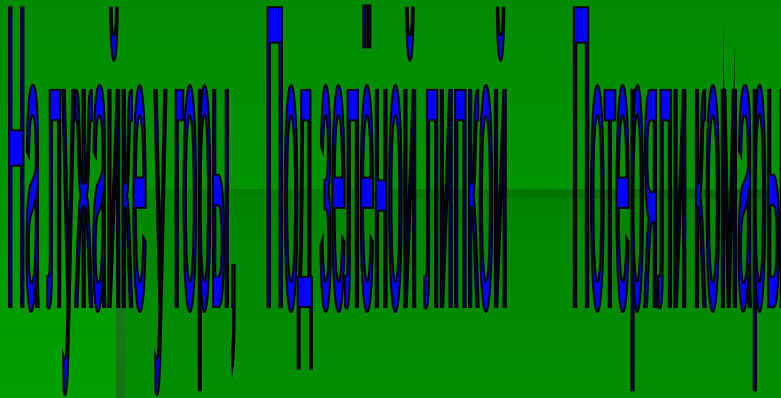
Давайте, ребята, учиться считать

Делить, умножать, прибавлять, вычитать,

Запомните всё, что без точного счёта


Не сдвинется с места любая работа.





1в. Дополнить каждый пример вторым действием, так чтобы получилось 100.

2в. Составь пример с обратным действием.



I вариант

Для изготовления ёлочных украшений купили 25 жёлтых листов цветной бумаги. Из них 10 листов зелёной бумаги, а остальные – жёлтые. 9 листов бумаги истратили. Сколько листов жёлтой бумаги осталось?

II вариант

Для изготовления ёлочных украшений купили 25 листов цветной бумаги. Из них 10 листов зелёные, а остальные – жёлтые. Сколько листов жёлтой бумаги купили?


ЗАДАНИЕ №3





*Перейдя знакомый лог
Лось в густых кустах залёг.
Всё прекрасно шло сначала!
Этот лось не знал пока,
Что рога его торчали
Из куста на пол вершка.*

*Лёг и сразу задремал он
И не слышал, как потом
Три охотника бывалых
Появились под кустом.*



I ВАРИАНТ

Длина прямоугольника равна 8 см,
а ширина на 2 см больше. Вычислите его периметр.

II ВАРИАНТ

Длина прямоугольника равна 8 см,
ширина 4 см. Вычисли его периметр.

ЗАДАНИЕ №5

*Поселился мудрый сом,
Под бревенчатым мостом.
Шла неделя за неделей...
Сом гулял по дну реки –
И не раз его хотели
Взять за жабры рыбаки.*

*Рыбаков брала досада:
«Вот какая кутерьма!»
Нет, пойти на хитрость надо,
Чтобы выловить сома.*



$$34 + 18 * 35 + 18$$

$$63 + 20 * 62 + 20$$


$$17 + 19 * 18 + 8$$

$$13 - 7 * 13 - 8$$

ЗАДАНИЕ №6

1 см 5 мм = ... мм

1 м 7 дм = ... дм



51 см = ... дм ... см

42 дм = ... м ... дм

Рефлексия

ОЦЕНИ СЕБЯ САМ!



Источники

- <http://www.nameofrussia.ru/person>