

Математика

1 сынып

10 саны. Дециметр (дм)



Кім жылдам?



$$7 + 0$$

$$5 + 3$$

$$6 - 4$$

$$2 - 2$$

$$3 + 5$$

$$9 - \blacksquare = 9$$

$$\blacksquare - 2 = 7$$

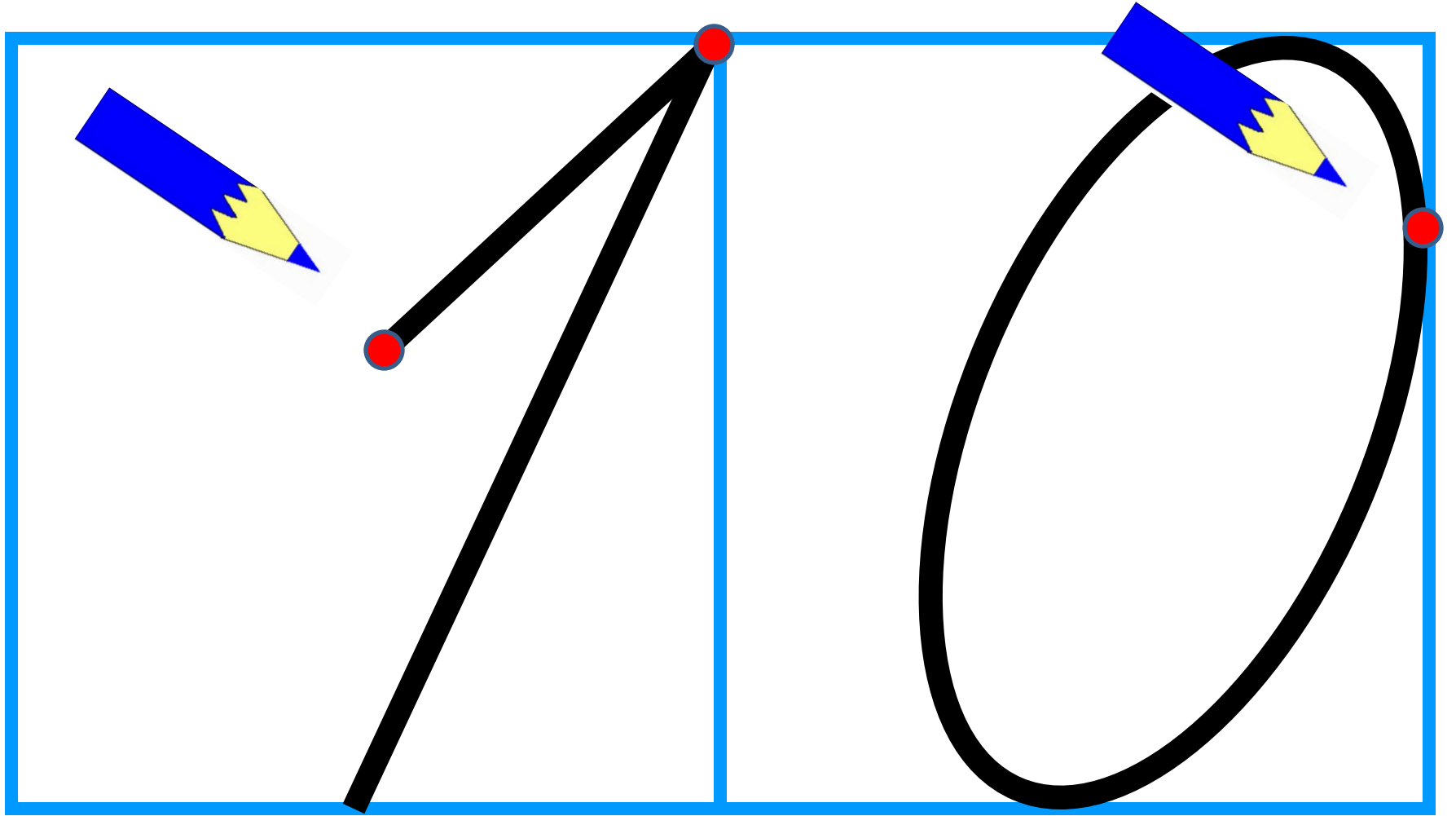
$$\blacksquare + 4 = 7$$

28 - қараша

СЫНЫП ЖҰМЫСЫ

10 10 10 10 10 10 10 10 10 10





28 - қараша

СЫНЫП ЖҰМЫСЫ

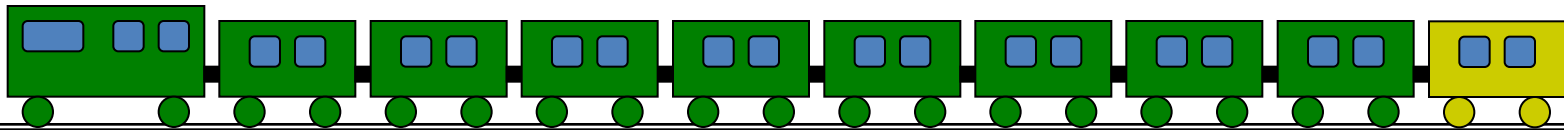
10 10 10 10 10 10 10 10 10 10



Сурет бойынша өрнек құрастыр :

$$9 + \boxed{1}$$


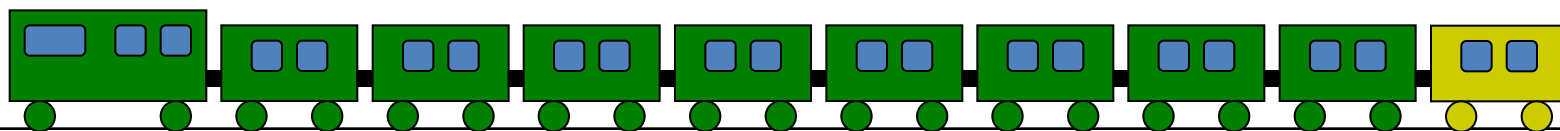
Әр сан нені білдіреді?



Барлығы неше вагон болды?

Ең соңғы вагон нешінші?

Ең соңғы әйнекшеге неше нүкте салу керек?



0 2 4 6 8 9

0 3 5 6 8 10



Балақай, біліп жүр, 10 - екі таңбалы сан.

Бұл қандай фигура ?



$$10 \text{ см} = 1 \text{ дм}$$

7 см 1 дм 1 дм 9 см

< >



Я Н Қ О


Қ О Я Н

т л к ү і

т ү л к і



Сурет бойынша теңдіктер құрастыр



$$\square + \square = 10$$

$$10 - \square = \square$$



Добым, добым, домалақ,

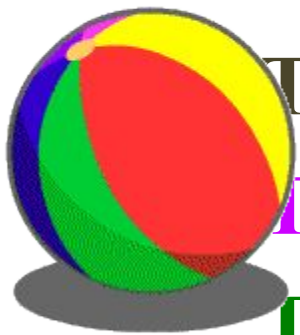
Тоқтамайсың домалап.

Үстел үстін бүлдірдің,

Тәрелкені сындырдың,

Гентек болып кеттің деп,

Гұрмын сені тепкім кеп.

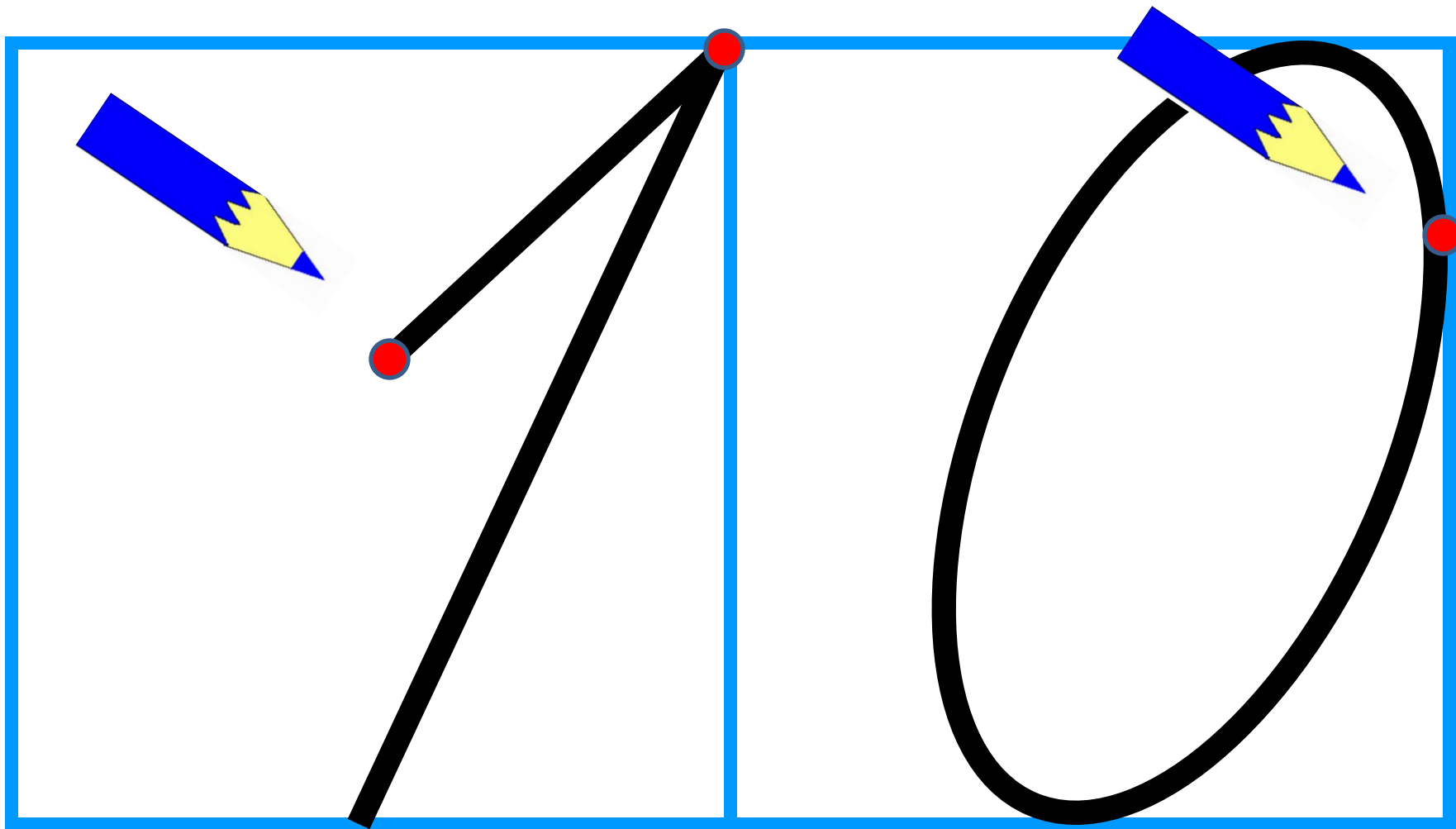




Әдемі жаз, балақай.

10 10 10 10 10 10 10 10 10 10





Сурет бойынша теңсіздіктер

құрастыр



Салыстыр (>, <, =)

$$4 + 3 \boxed{>} 9 + 5$$

$$7 + 1 \boxed{>} 2 - 2$$

$$6 + 2 \boxed{>} 3 + 3$$

$$6 + 3 \boxed{>} 9 - 7$$

$$8 - 6 \boxed{<} 4 + 2$$

$$8 - 5 \boxed{<} 4 + 4$$

$$1 + \text{star} = 10$$

$$\text{star} + 8 = 10$$

$$3 + \text{star} = 10$$

$$4 + \text{star} = 10$$

$$\text{star} + 5 = 10$$

*Менің кім екенімді
білгің келсе, әжұмбақ
сандарды тап*





3

7










8

2

4

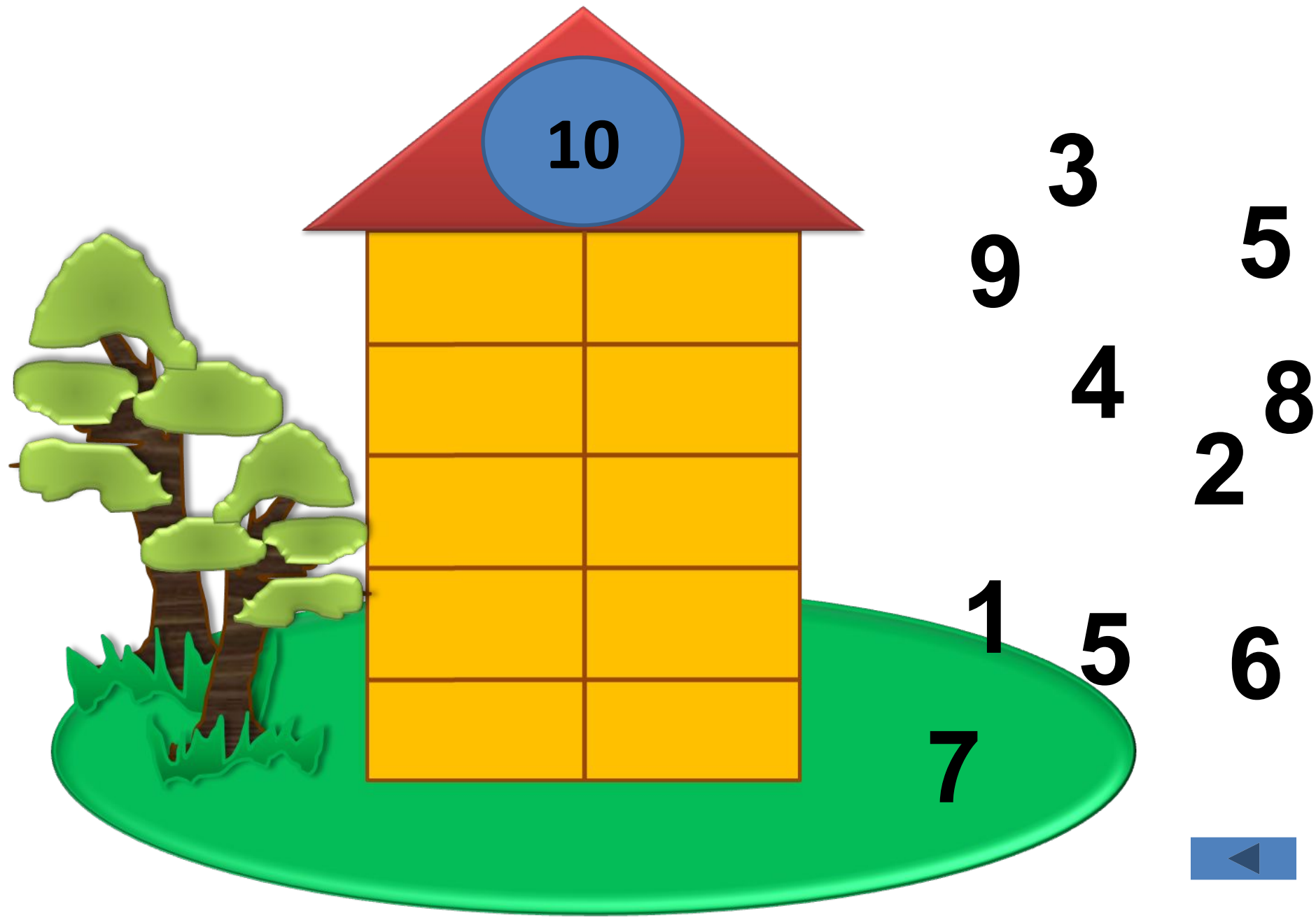
6



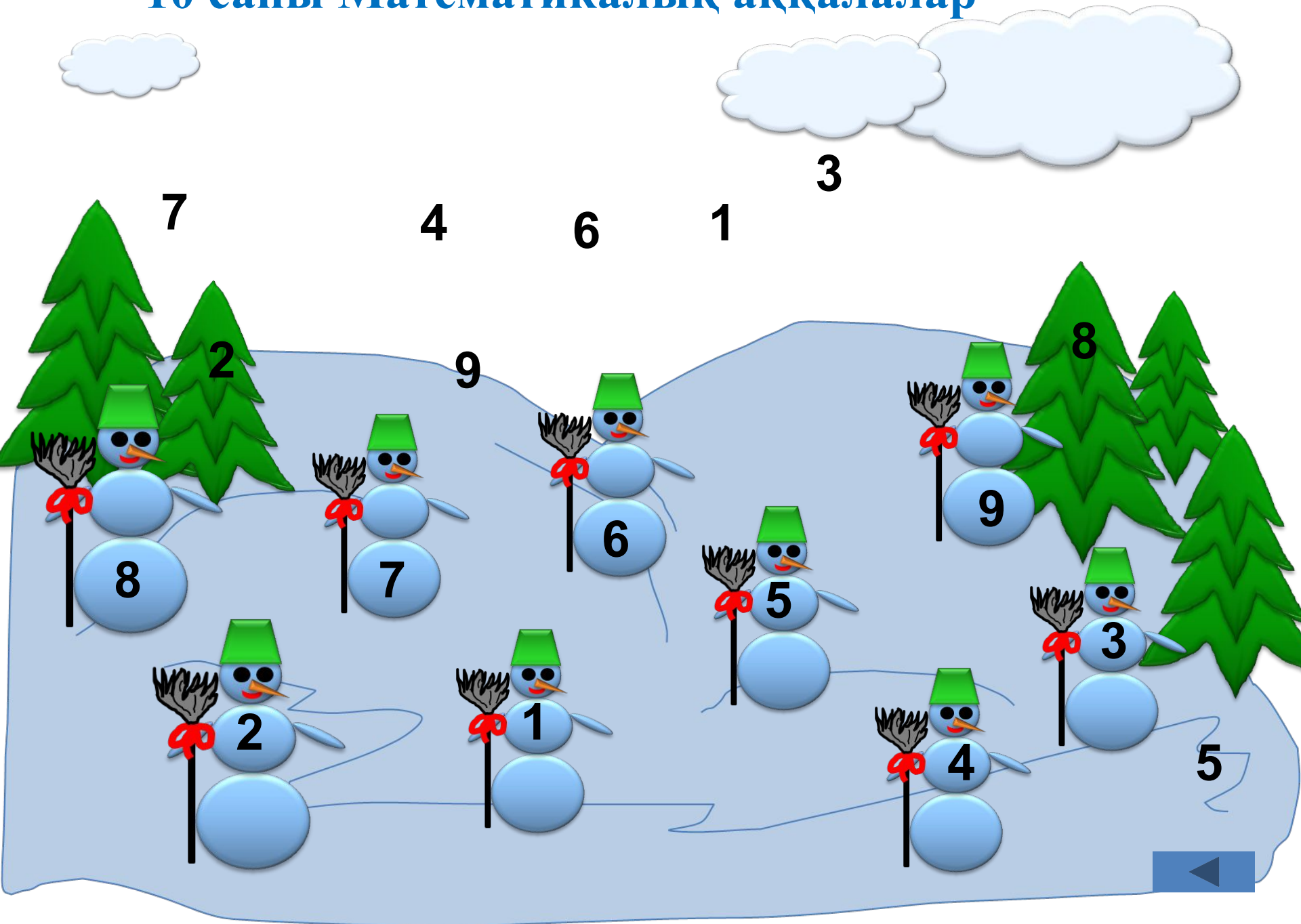


$$3 + 7 = 10$$

10 саны Үйшікті толтыр



10 саны Математикалық аққалалар



Үйге тапсырма

47-сабақ

3, 4 – тапсырма

Сандар құрамын қайталау

Өрнектерді салыстыру

