

# Сказка

Сказка - ложь, да в ней  
намёк - добрым  
молодцам урок.

*А.С.Пушкин*



# Подготовка к работе

Я тетрадь свою открою

И наклонно положу.

Я, друзья, от вас не скрою:

Ручку правильно держу.

Сяду прямо – не согнусь,

За работу я возьмусь.



A spiral notebook binding is visible on the left side of the page, consisting of a metal spring and a brown cover.

**8 мая**

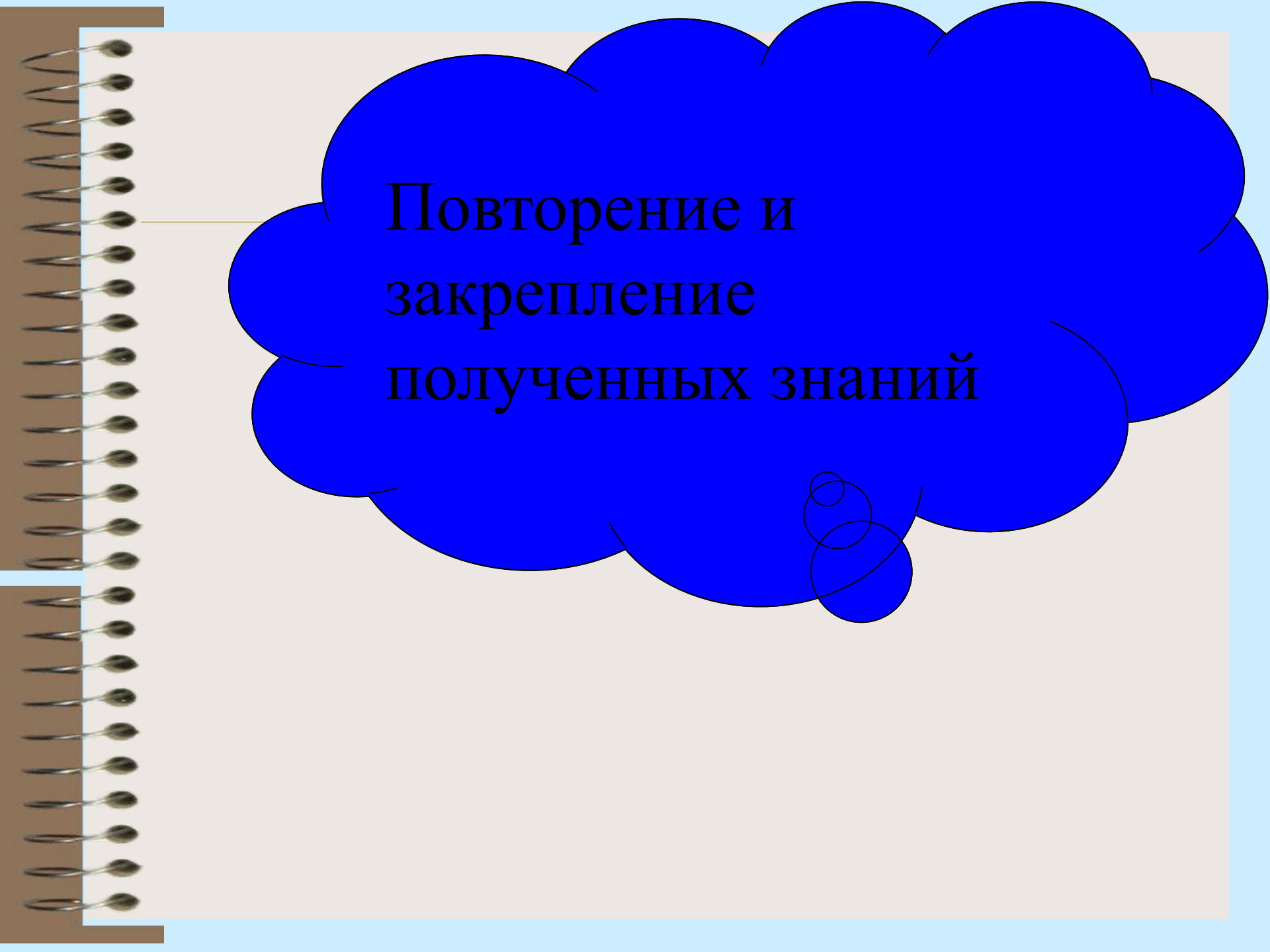
---

**Классная работа**

*Какова же  
тема  
нашего урока?*



Учебник, с.94,

A spiral-bound notebook is shown on the left side of the image, with its silver metal spiral binding visible. The notebook is open to a blank page. A large, blue, cloud-like thought bubble is positioned in the upper right quadrant of the page. Inside the bubble, the text "Повторение и закрепление полученных знаний" is written in a black, serif font. The background of the notebook page is a light beige color, and the overall background of the image is a light blue gradient.

Повторение и  
закрепление  
полученных знаний

# Цель урока

---

- повторить и закрепить  
умение решать примеры и  
задачи

A spiral-bound notebook with a brown cover and a silver metal spiral binding on the left side. The notebook is open to a blank, cream-colored page. The numbers "36, 23, 87, 89, 12" are written in a black serif font at the top of the page. A thin horizontal line is drawn across the page below the numbers.

36, 23, 87, 89, 12

A spiral notebook binding is visible on the left side of the page, consisting of a metal spring and a brown cover.

36, 7, 23, 87, 89, 12

---

77



















# Геометрические фигуры

---





A spiral-bound notebook with a brown cover and silver spiral binding is shown. The notebook is open to a cream-colored page. A blue rectangular box is drawn on the page, containing the text 'P=?CM'. Above the box, the text '4 CM' is written, and to the right of the box, the text '2 CM' is written. A thin horizontal line extends from the left edge of the box across the page.

4 CM

$P = ? \text{ CM}$

2 CM

# Физминутка







КОЛОБОК

# *Работа с учебником*

---

с.94, №7

**САМОСТОЯТЕЛЬНО**


# Проверка

---



1018.3 = 6 (к) **САМОСТОЯТЕЛЬНО**

Ответ: 6 камней в каждой коробке.





# Вставь нужную фигуру.





# Рефлекс ИЯ



Сегодня на уроке у меня получилось...

Мне было трудно...

Мне понравилось...



# Домашнее задание

Повторить таблицу умножения на  
2,3  
и соответствующие случаи  
деления

