

Математический КВН

2 класс



РАЗМИНКА

1

2

3

4

**ВЕСЁЛЫЙ
СЧЁТ**

1

2

3

4

**КОНКУРС
КАПИТАНОВ**

1

2

3

4

**КОНКУРС
СМЕКАЛИСТЫХ**

1

2

3

4

**ОТГАДАЙ
РЕБУС**

1

2

3

4

1. Петух, стоя на одной ноге, весит **5** кг. Сколько он будет весить, если встанет на **2** ноги?

ОТВЕТ

5 кг



СКОЛЬКО УШЕЙ У 5 МЫШЕЙ?

ОТВЕТ

10



© Detki.today



У ТРЕХ БРАТЬЕВ ПО ОДНОЙ СЕСТРЕ.
СКОЛЬКО ВСЕГО ДЕТЕЙ В СЕМЬЕ?



ОТВЕТ

ЧЕТВЕРО



**ЛЕТЕЛИ 3 СТРАУСА.
ОХОТНИК ОДНОГО ПОДСТРЕЛИЛ.
СКОЛЬКО СТРАУСОВ ОСТАЛОСЬ?**



ОТВЕТ

**СТРАУСЫ
НЕ ЛЕТАЮТ**



Крышка стола имеет **4** угла.
Один из них отпилили. Сколько
стало углов?


ОТВЕТ

5



65 груш росло на дубе.
Пришли мальчишки и
сбили 25 груш. Сколько
груш осталось?

ОТВЕТ



— — —



**Верёвку разрезали в 5 местах.
Сколько частей получилось?**



ОТВЕТ

6



Три человека ждали
поезд 3 часа. Сколько
времени ждал каждый ?

ОТВЕТ

3

ЧАСА



Дед, баба, внучка, Жучка, кошка и мышка тянули-тянули репку и, наконец, вытянули. Сколько глаз смотрело на репку?

ОТВЕТ

12 ГЛАЗ



**ТРОЙКА ЛОШАДЕЙ В ЧАС
ПРОБЕЖАЛА 24 КМ
СКОЛЬКО КИЛОМЕТРОВ ПРОБЕЖАЛА
КАЖДАЯ ЛОШАДЬ?**



ОТВЕТ

24 КМ



**В ОДНОЙ СЕМЬИ ДВА ПАПЫ И ДВА СЫНА.
СКОЛЬКО ВСЕГО ЛЮДЕЙ?**



ОТВЕТ

**3 ЧЕЛОВЕКА:
ДЕДУШКА,
ОТЕЦ, СЫН**



Катя, Галя и **Оля**, играя, спрятали по игрушке.
Они играли с медвежонком, зайчиком и слоником.

Известно, что **Катя** не прятала зайчика,
а **Оля** не прятала ни зайчика, ни **медвежонка**.

У кого какая игрушка?

ОТВЕТ

Катя – медвежонк

Галя – зайчика

Оля – слоника



Бабушке и внучке вместе 82 года. Внучке 12 лет. На сколько лет бабушка старше внучки ?

ОТВЕТ

НА 58 ЛЕТ



В КОМНАТЕ 4 УГЛА.

В КАЖДОМ УГЛУ СИДИТ КОШКА.

**НАПРОТИВ КАЖДОЙ КОШКИ СИДЯТ
ПО 3 КОШКИ.**

СКОЛЬКО ВСЕГО КОШЕК В КОМНАТЕ?



ОТВЕТ

4




ЛЕТЕЛА СТАЯ ГУСЕЙ:

ОДИН ГУСЬ ВПЕРЕДИ И ДВА ПОЗАДИ,

ОДИН ПОЗАДИ И ДВА ВПЕРЕДИ,

ОДИН ГУСЬ МЕЖДУ ДВУМЯ И ТРИ В РЯД.

СКОЛЬКО БЫЛО ВСЕГО ГУСЕЙ?



ОТВЕТ

3



**ВО ДВОРЕ БЫЛИ КУРЫ И ОВЦЫ.
У НИХ 3 ГОЛОВЫ И 8 НОГ.
СКОЛЬКО БЫЛО КУР И СКОЛЬКО
Щ?**




ОТВЕГ

**2 КУРИЦЫ И
1 ОВЦА**



С З Ж



ОТВЕТ

СТРИЖ



ВИЗНА



ОТВЕТ

ВИТРИНА



100 ЛЯР

ОТВЕТ

СТОЛЯР



МИ



О = у

ОТВЕТ

МИНУС



Молодцы!

