

Құнанбаев атындағы жалпы білім беретін №6 орта мектеп

Пәні: математика

Сыныбы: 1“В”

Сынып жетекшісі: Балдиқова Ж. М.



Арқалық 2017 жыл




Сабақтың тақырыбы:

«Санды өрнектерді салыстыру»

Мақсаты:

Қосумен берілген өрнек мәндерін салыстыру мен өрнекті құрастыруды үйрету; сандар, шамалар және санды өрнектер арасындағы қатынасты анықтау дағдысын дамыту; салыстыру нәтижесін салыстыру белгілерінің көмегімен жазу, есептеу дағдыларын дамыту, сын тұрғысынан ойлау қабілетін дамыту.

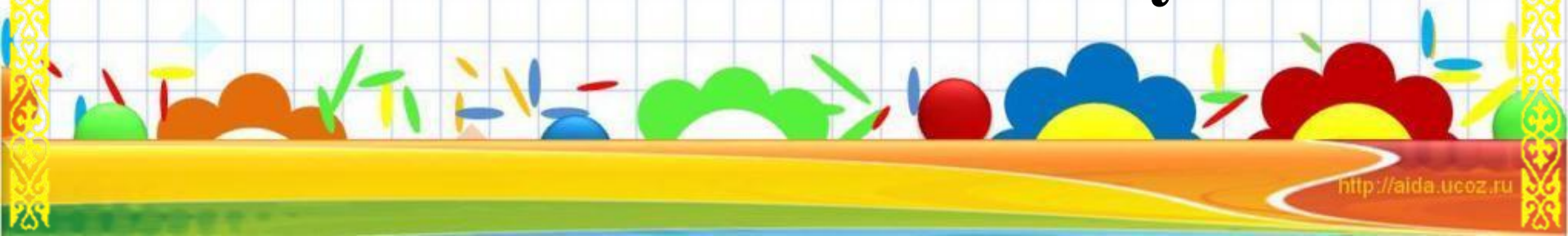


«Мақсатымыз - білім алу,

Міндетіміз – еңбектену.

Еңбек етіп жұмыла,

«5»-ке қолды жеткізу.»



**1 топ
«Сандар»**

**2 топ
«Әріптер»**

**3 топ
«Таңбалар»**

Топ ережелері




Ширату жаттығуы


ОЙЫН: “Теңге
алу”



Мотивациялық бағдарлау кезеңі



Салыстыру





Санды өрнектерді салыстыру үшін олардың мәндерін тауып, сол мәндерді салыстыру керек.

$$\begin{array}{r} 2 + 5 \quad ? \quad 6 + 4 \\ \hline 7 \qquad \qquad 10 \\ 2 + 5 < 6 + 4 \end{array}$$


4 қазан – дүниежүзілік жануарларды қорғау күні



Хайуанаттар дүкенінде


Санды өрнектер құрастыр және оларды салыстыр.

1.




$$3+4 = 2+5$$

2.



$$6+5 > 7+3$$

3.



$$4+4 < 2+8$$



© yayayoyo * www.ClipartOf.com/1066395



Шығарып көр

Санды өрнек мәндерін салыстыр. Қандай санды өрнектердің мәні бірдей? Оларды ата.

$18 + 1 ? 13 + 7$

$5 + 3 ? 4 + 4$

$2 + 0 ? 0 + 5$

$7 + 10 ? 10 + 2$

$16 + 2 ? 14 + 5$

$18 + 1 ? 0 + 19$

$50 + 40 ? 40 + 50$

$30 + 60 ? 70 + 10$

$20 + 80 ? 90 + 10$

36-жұмыс парағы. Салыстыр және таңда

Бағытты таңда.

Санды өрнектердің мәндерін салыстыр.

Теңдікке апаратын жолды тауып, оны боя.



$$12 + 6 \text{ ____ } 17 - 4$$

$$18 + 1 \text{ ____ } 20 - 2$$

$$80 - 40 \text{ ____ } 50 - 20$$

$$15 + 3 \text{ = } 20 - 2$$

$$18 - 8 \text{ ____ } 10 + 8$$

Жұмыс дәптері







Топпен жұмыс





Орындап көр

Шифрларға қара. Бірдей шифрлардағы фигуралар бірдей санды білдіреді. Фигураларды сандармен ауыстыр.





Санды өрнектер құрастыр және оларды салыстыр.

а)  +  ?  + 

ә)  +  ?  + 

б)  +  ?  + 

в)  +  +  ?  +  + 

	=	<input type="text" value="2"/>		=	<input type="text" value="5"/>
	=	<input type="text" value="3"/>		=	<input type="text" value="4"/>

«Мұғалім сыйы»



Чемпионы и Маленькие
Гении crtag.ru

«Төрттік мысал» ойыны



I топ

T+10 ----- **Қ+10+ақ**
Тон **қонақ**

II топ

6+н ----- **3+кір**
алтын **үшкір**

III топ

9+құмалақ ----- **1+қазан**
ТОҒЫЗҚҰМАЛАҚ **бірқазан**

Бағалау



Кері байланыс





Назар аударгандарыңызга

рахмет!

