

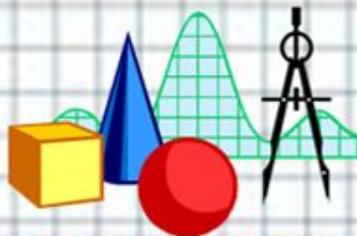


Час весёлой математики

«крестики-нолики»

Сказочные задачи для 3 класса

Выполнила: учитель начальных
классов МАОУ «СОШ «29»
М.Л.Горшкова

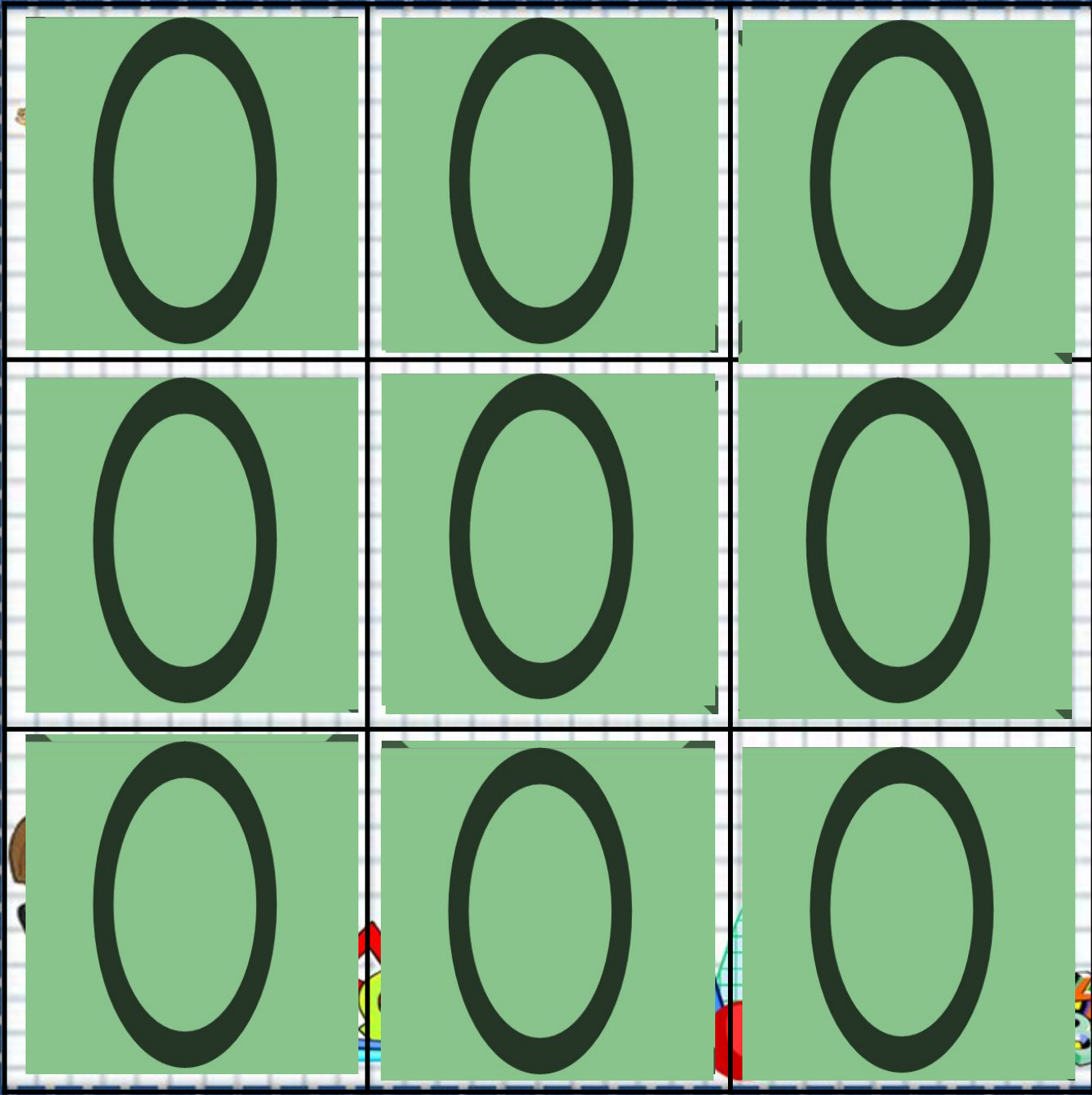


Правила игры

- Выбираем вопрос
- Решаем задачу
- При нажатии на сову появиться проверка
- Нажимаем на зелёную стрелочку–
вернёмся на поле с вопросами
- Нажать на крестик или нолик в
зависимости, кто выиграл




• Игру заканчиваем нажатием на пятёрку



- 1
- 2
- 3
- 4
- 5
- 6
- 7
- 8
- 9

X	O
X	O
X	O
X	O
X	O
X	O
X	O
X	O
X	O



Задача 1



- Царь хранил своё богатство в 353 кованых сундуках, в каждом из которых было 12кг золота, 25кг серебра и 16кг драгоценных камней. Сколько килограммов драгоценностей было у царя?

1) $12+25+16 = 53$ (кг)

2) $53 \times 3 = 159$ (кг)

Ответ: 159 кг драгоценностей было у царя



Задача 2



- Красная Шапочка несла бабушке 10 пирожков с капустой, 14 – с грибами и 16 – с мясом. Половину пирожков ей пришлось отдать Серому Волку, чтобы он не беспокоил бабушку, а $\frac{1}{2}$ от оставшихся она, проголодавшись съела сама. Сколько вкусных пирожков всё же досталось бабушке?

1) $10+14+16=40$ (п)

2) $40:2=20$ (п)

3) $20:2=10$ (п)

4) $40-20-10=10$ (п)

Ответ: 10 пирожков осталось для бабушки



Задача 3



Иван-Царевич скакал на Сером Волке 5 часов со скоростью 15 км/ч, а потом ещё 3 часа со скоростью 12 км/ч. Какое расстояние преодолел он за это время?

- 1) $15 \cdot 5 = 75$ (км)
- 2) $12 \cdot 3 = 32$ (км)
- 3) $75 + 32 = 107$ (км)

Ответ: 107 км проехал Иван-Царевич.



Задача 3



- Снежной королеве должны были доставить 12 коробок мороженого по 70 штук в каждой, но по дороге снежные люди, тоже очень любившие мороженое съели 3 коробки. Сколько порций мороженого получила Снежная королева?

1) $12 \cdot 70 = 840$ (м)

2) $3 \cdot 70 = 210$ (м)

3) $840 - 210 = 630$ (м)

Ответ: 630 мороженого получила Снежная королева.



Задача 4



- Елена Премудрая и Василиса Прекрасная отгадывали загадки. Всего было отгадано 75 загадок, причём $\frac{1}{3}$ из них отгадала Василиса. Сколько загадок удалось разгадать Елене?

1) $75 : 3 = 25$ (з)

2) $75 - 25 = 50$ (з)

Ответ: 50 загадок разгадала Елена Премудрая



Задача 5



Во время строительства очередного дворца Алладина ковёр-самолёт перевёз 21 478 кг груза, из которых 11 546 кг составляли строительные материалы, 673 кг – драгоценности для отделки, а остальные – животные для дворцового зоопарка. Сколько кг живности перевёз ковёр-самолёт?

$$1) 21478 - 11546 - 673 = 9259(\text{кг})$$

Ответ: 9259 кг живности перевёз ковёр-самолёт.



Задача 6



- Площадь шапки-невидимки 58 см^2 . Моль проела в ней 8 дырочек площадью 5 см^2 каждая. Сколько кв см осталось доесть прожорливым насекомым?

$$1) 5 \cdot 8 = 40 \text{ (см}^2\text{)}$$

$$2) 58 - 40 = 18 \text{ (см}^2\text{)}$$

Ответ: 18 см^2 осталось доесть насекомым.



Задача 7



Три гнома должны были переплести за неделю по 36 волшебных книг каждый. Первый сделал половину положенной работы, второй – $\frac{1}{3}$, третий же и вовсе $\frac{1}{6}$ часть, за что все трое превращены разгневанными волшебниками в лягушек. Сколько книг осталось переплести чародеям, которые взялись доделать работу гномов?

1) $36 : 2 = 18$ (кн)

2) $36 : 3 = 12$ (кн)

3) $36 : 6 = 6$ (кн)

4) $18 + 16 + 12 = 46$ (кн)

Ответ: 46 книг.



Задача 8



- Богатырь Микула поклялся ежегодно совершать 29 подвигов. Сколько подвигов совершил богатырь за 30 лет, если 27 лет он не нарушал клятвы, а затем 3 года подряд ему удавалось перевыполнить план на 3 подвига?

1) $29 \cdot 27 = 783$ (п)

2) $29 + 3 = 32$ (п)

3) $32 \cdot 3 = 96$ (п)

$783 + 96 = 879$ (п)

Ответ: 879 подвигов.



Задача 9



- Дуремар ловил пиявок в пруду прямоугольной формы, длина которого 23 метра, а ширина 14 метров. Сколько пиявок может поймать Дуремар, если известно, что на каждом квадратном метре обитает 54 пиявок?

1) $23 \cdot 14 = 322$ (кв.м.)

2) $322 \cdot 54 = 17388$ (п)

Ответ: 17388 пиявок.



Молодцы !!!



До свидания!

До новых встреч!!!



Источники

□ Автор данного шаблона:
Ермолаева Ирина Алексеевна
учитель информатики и математики
МОУ «Павловская сош» с.Павловск
Алтайский край Название сайта: <http://pedsovet.su/>



Для создания шаблона ИСПОЛЬЗОВАЛИСЬ ИСТОЧНИКИ:



http://www.myjulia.ru/data/cache/2009/07/17/152778_2266-0x600.jpg



<http://files.botevcheta.webnode.com/200000016-45175461c2/1stationery15-med.jpg>



<http://www.mathknowledge.com/images/custom/LOGO.GIF>



http://www.ccboe.net/Teachers/Durham_Sharon/images/918F9422010B4BB0B160956D6B9D4E34.JPG



<http://lake.k12.fl.us/cms/cwp/view.asp?A=3&Q=427619>



<http://www.533school.ru/nach.htm>