

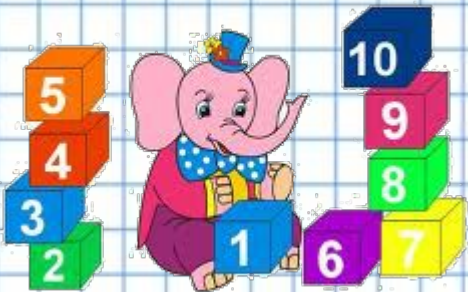


Разные задачи
2 класс, часть 9
УМК любой

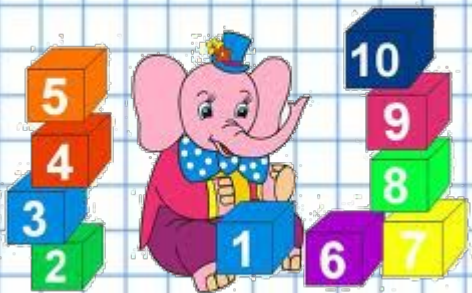


Автор: Донцова Наталья
Владимировна, МБОУ «ООШ № 35»
Киселевского городского округа
2016 год



**В пенале у Оли лежит 18
карандашей. У Вали - на 6
карандашей меньше. Сколько
карандашей лежит в пенале у
Вали?**



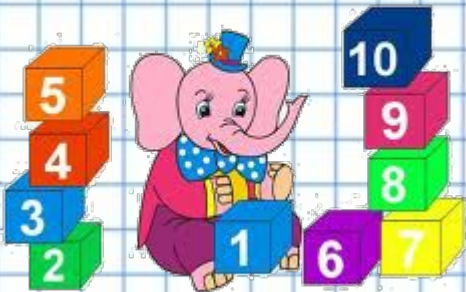
Высота пятиэтажного дома - 15 метров, а высота трехэтажного дома - 11 метров. На сколько метров пятиэтажный дом выше трехэтаж




На шахматном турнире Маша выиграла 8 партий в шахматы, а Таня выиграла 4 партии. На сколько больше партий в шахматы выиграла Маша?




**У Паши было 12 книг. 9 книг он
отнёс в школьную
библиотеку. Сколько книг
осталось у Паши?**



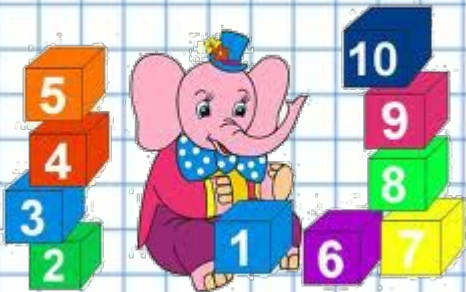
Папа принёс восемь литровых пакетов сока. Два литра выпил он сам, по одному литру выпили Вася и Коля. Сколько пакетов сока осталось?



На контрольной работе Оля решила 15 задач. 7 задач было решено правильно, остальные задачи были решены неправильно. Сколько задач не смогла решить Оля?

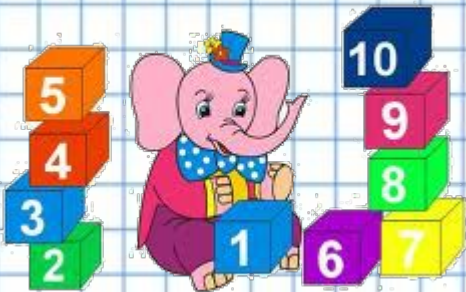


В портфеле у Маши лежит 23 тетради. А у Саши - на 12 тетрадей меньше, чем у Маши. Сколько всего тетрадей у ребят?



**В саду растёт 34 яблони и
несколько абрикосов.**


**Сколько абрикосов растёт в
саду, если известно, что их на
11 деревьев меньше, чем
яблонь?**




В магазин привезли 45 пакетов яблочного сока и несколько пакетов томатного сока. Сколько пакетов томатного сока привезли в магазин, если известно, что пакетов томатного сока привезли на 7 штук больше яблочного?





**Вчера мастер сделал 34
детали, а сегодня он сделал
на 13 деталей меньше.
Сколько деталей сделал
мастер сегодня?**



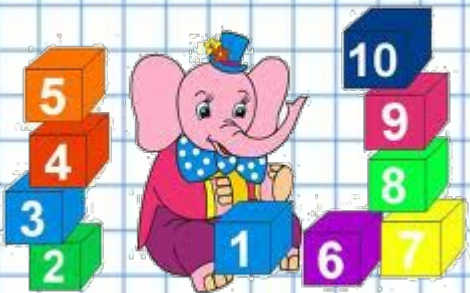
Мороженное "Фруктовый лед" стоит 23 рубля, а мороженное "Эскиммо на палочке" стоит на 15 рублей дороже? Сколько стоит мороженное "Эскиммо на палочке"?



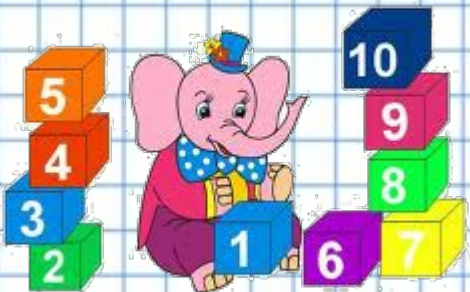
В магазин привезли 18 ящиков с морковью и несколько ящиков со свеклой. Сколько ящиков со свеклой привезли в магазин, если известно, что ящиков со свеклой привезли на 6 штук меньше, чем ящиков с морковью?




**Полина живёт на 15 этаже, а
Марина живёт на 8 этажей
ниже? На каком этаже живет
Марина?**




**В бочку налили 16 литров
воды, а затем из неё вылили 3
литр. Сколько литров воды
осталось в бочке?**



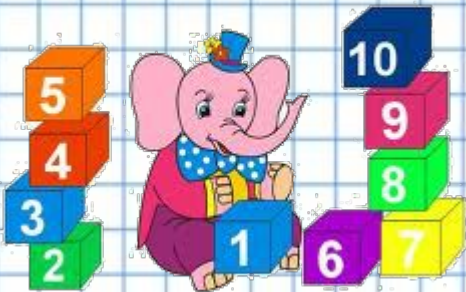
Туристы приехали на двух автобусах. На первом автобусе приехало 35 человек, а на втором - на 12 человек меньше, чем на первом. Сколько всего туристов приехало на двух автобусах?




В первый день в мастерской было сшито 28 костюмов, а во второй день - на 15 костюмов больше, чем в первый день. Сколько всего костюмов было сшито за 2 дня?




Рубашка стоит 100 рублей, а джинсы - на 200 рублей дороже. Сколько стоят все вещи?



На верхней полке стояло 30 книг, на нижней полке – на 15 книг больше, чем на верхней. Сколько всего книг стояло полках?



В ларёк привезли 14 ящиков с виноградом, а с мандаринами – на 5 ящиков меньше. Сколько всего ящиков с мандаринами и виноградом привезли в ларёк?



Используемые источники

Фон <http://player.myshared.ru/283406/data/images/img3.jpg>

Слоники http://dnz10.ucoz.ua/matematika_1.jpeg

Мальчик

http://www.athens.kiev.ua/wordpress/wp-content/uploads/2011/01/20110117_clip_image002.jpg

Дети http://learn-timestables.com/images/cartoon_bg.png