





# Сантиметр





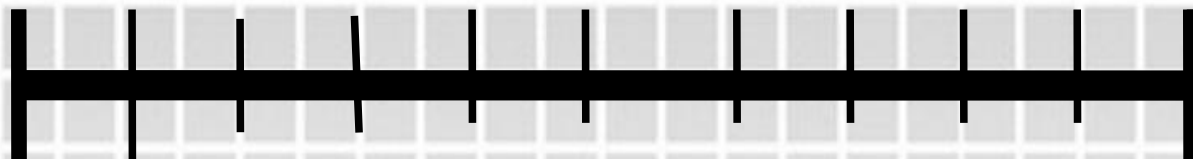
**1 см**




**1 2 3 4**



**1 2 3 4 5 6 7 8 9 10**



**1 см**



**СКОЛЬКО СМ**





**У Коли было**



**и**



**Сколько всего машинок  
у Коли**







$$3 + \square = \square$$

$$5 - \square = \square$$

$$5 - \square = \square$$



**У Оли были такие  
монеты**



**Она истратила 3 руб.  
Сколько рублей  
осталось у Оли?**

# Ребусы

$$6 * 1 > 5$$

$$8 * 1 = 7$$

$$9 * 1 < 10$$

