

Кругосветное путешествие



Урок математики во 2 классе. Закрепление
пройденного по теме:
«Сложение и вычитание в пределах 100»



ОСТРОВ БЕЛОК





$11 - 8 = \square$

$3 + 9 = \square$

$9 + 5 = \square$

$12 - 6 = \square$

$8 + 7 = \square$

$4 + 8 = \square$

$15 - 9 = \square$



СПАСИБО





7,
6, 7, 8, 9;

19

91, 100, 19

19, 9, 95


95

$$1) 9+7=16;$$

$$2) 12+5>16;$$

$$3) 25-20<15;$$

$$4) 14-7=7$$





$$23 * 7 * 5 = 25$$

$$36 * 4 * 10 = 42$$

$$18 * 50 * 8 = 60$$



$$23+7-5=25$$

$$36-4+10=42$$

$$18+50-8=60$$


ОСТРОВ ОБЕЗЬЯН

Реши задачу
выражением



- I. $15 - 5 - 4 = 6(\text{м})$
II. $15 - (5 + 4) = 6(\text{м})$

Благодарю вас
за правильное
решение задачи!



ОСТРОВ ПИРАТОВ

Решить уравнения!!!



№ 1, с. 70

25



18



20



28



30



8






«Здесь ключ»




1

«Здесь сокровище»



2

«Во втором сундуке пусто»



3

Все понял

Испытывал трудности

Скучно

Ничего не понял

Интересно

Однообразно

Запомню надолго

Отлично

Неинтересно


ВОЗВРАЩАЕМСЯ

ДОМОЙ





*Домашнее
задание
№ 4, 6, с. 70.*



**ВСЕМ СПАСИБО
ЗА УРОК**

