




*Математическая  
интерактивная игра  
«Кем быть?»  
Учитель Боровикова Т.Г.*



**Было шесть, теперь мне - семь,  
Я уже большой совсем!  
Но не могу никак решить –  
Кем мне быть?**



Мелом пишет и рисует,  
и с ошибками воюет,  
учит думать, размышлять,  
как его, ребята, звать?





- Назови числа в порядке возрастания
- Вставь пропущенные числа

**В небе синем самолёт,  
управляет им ...**



# Назови «соседей»

4

5

6

6

7

8

9

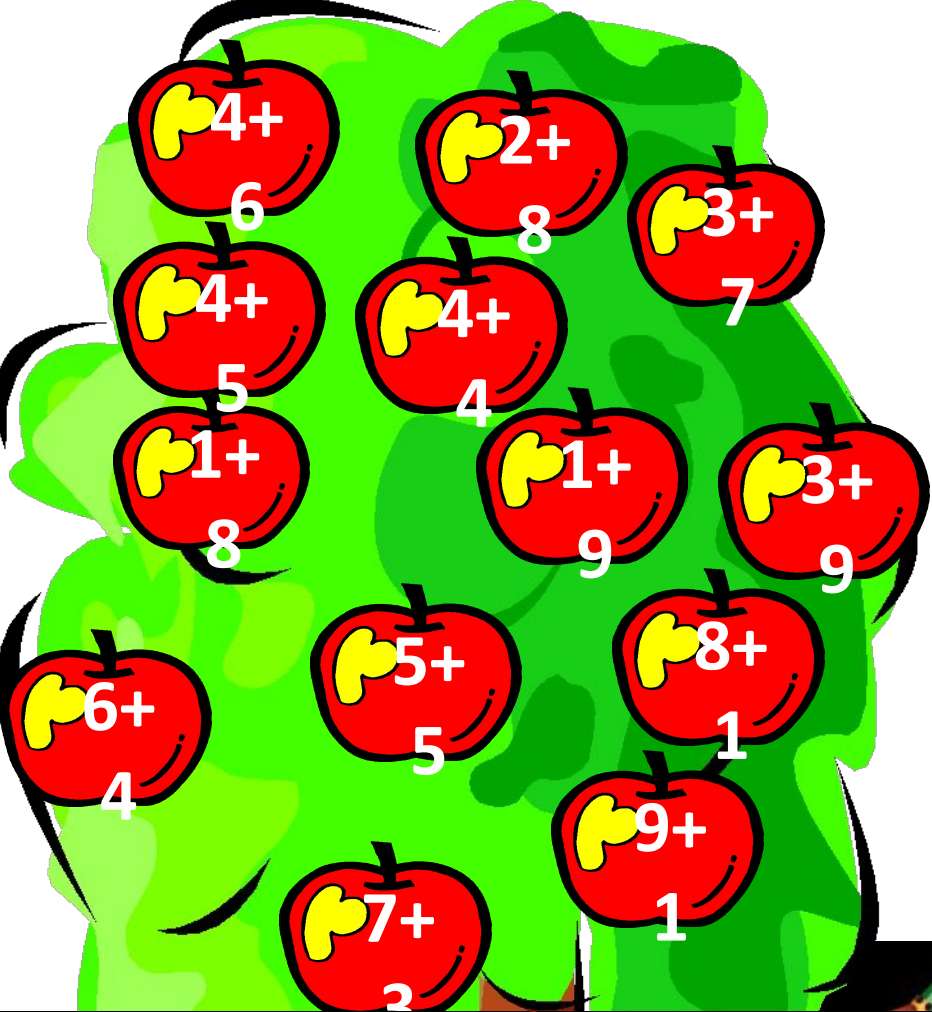
10

11



**Раньше всех она встаёт  
и в коровник свой идёт.  
А корова уже: «Му -у!  
Что так поздно , не пойму!»»**





Соберите яблоки





**Жарит, парит и печёт –  
вот пирог, вот каша...  
И за то ему почёт.  
благодарность наша**




# Вспомни состав чисел «Засели домики»

## Минутка чистописания

Компоненты + -



**Кто в дни болезней всех полезней  
и лечит нас от всех болезней?**



# Реши задачу

4

+

4

=

8

1 день



2 день



Сколько вместе  
пациентов ?

# Все моря и океан покорил наш ...





Было – 4 парусника

Уплыл – 1


Осталось - ?

$$4 - 1 =$$

3




# Мебель, хлеб и огурцы, продают нам ...



Узнай массу тыквы , массу арбуза:  
на ? кг больше

Тыква - **7** кг > Арбуз - **5** кг



У меня одеться рад  
и артист, и депутат.  
Ловко шью своей иглой –  
ведь не даром я ...



Сшила для бабочек 3 синих платья, а жёлтых -? на 1 больше. Сколько жёлтых?

$$\boxed{3} \quad \boxed{+} \quad \boxed{1} \quad \boxed{=} \quad \boxed{4}$$



$$\boxed{3 + 4 = 7}$$



**У этой волшебницы ,этой художницы,  
не кисти и краски, а гребень и ножницы.  
Она обладает таинственной силой:  
к кому прикоснётся, тот станет красивым.**




Julia\_Ljuwa

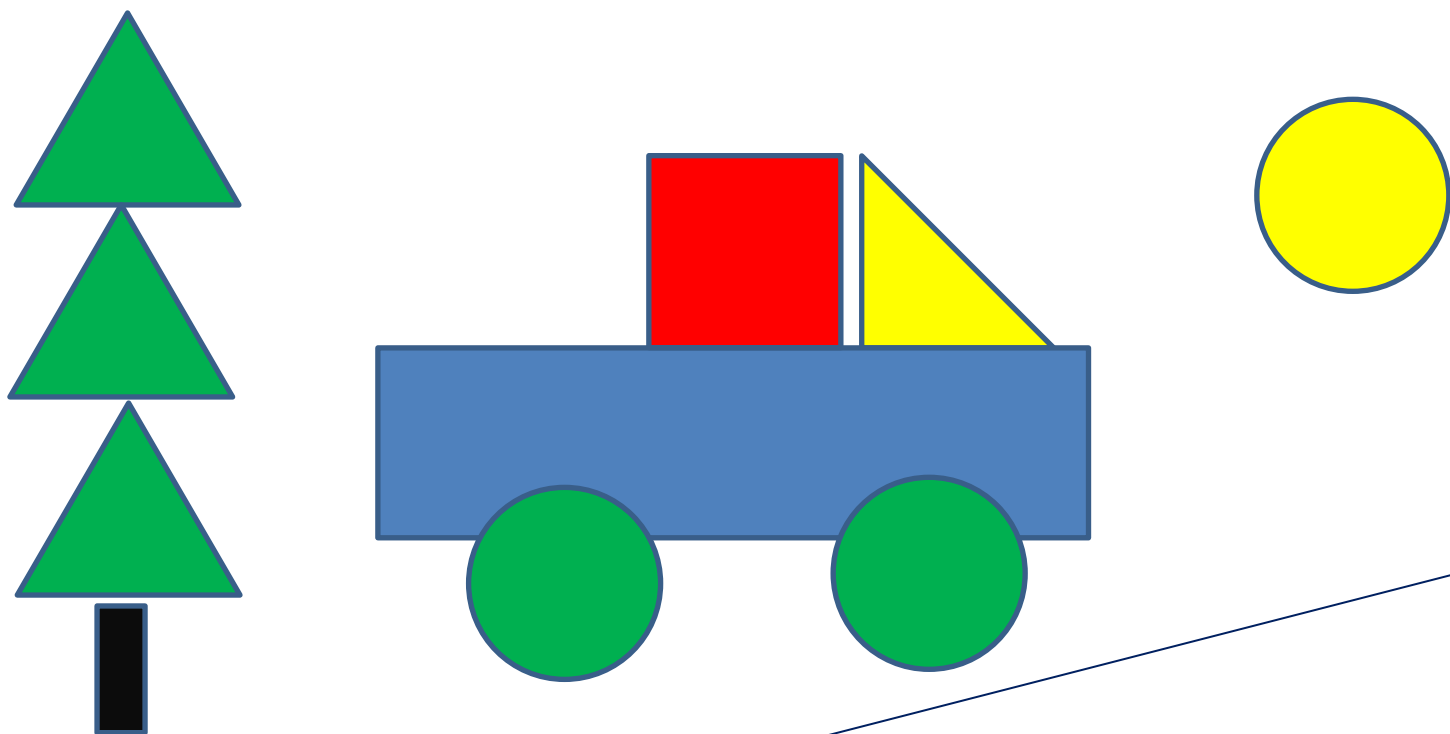

Парикмахер сделал 3 женских  
причёски,  
а мужских - ? на 1 меньше

$$\boxed{3} \quad \boxed{-} \quad \boxed{1} \quad \boxed{=} \quad \boxed{2}$$



**Если вы в беду попали,  
телефон 02 набрали,  
всем поможет, всех спасёт  
к вам ... придёт.**





1

Из каких геометрических фигур составлен  
рисунок? Каких фигур больше?

Есть на свете сладкий дом,  
садом пахнет в доме том.  
А жильцы, жужжат от радости,  
в домик свой приносят сладости,  
угощая нас потом, угадайте, что за дом?





$4+2-0$

&gt;


4



$5+2$

=

$10-3$



9

&lt;





$10+9$



Вычисли и  
сравни  
значения  
выражений



*«Кем быть?»  
Все профессии важны,  
все профессии нужны*



*Самая трудная профессия –  
быть человеком.*

**Будьте справедливы и в решениях мудры.  
К людям будете добры вы –  
люди будут к вам добры.**

