




Все расселись по местам,  
никому не тесно,  
По секрету скажу вам:  
«Будет интересно!»  
Будем мы считать, писать,  
и решать задачи,  
Чтоб сегодня, как всегда,  
в руки шла удача.  
Повторим материал,  
закрепим умения,  
Чтобы каждый мог  
сказать: «Это всё умею  
я!»

# Число и цифра 6





1



Дети на прогулке увидели жука.

«Как у него много ног — больше, чем пальцев на руке», — удивился Миша.

«А ты сосчитай», — предложила Маша.

«Пять и ещё одна», — сказал Миша.

«Запомни, это число называется ШЕСТЬ», — сказала Маша.

Сколько очков выпало на двух кубиках вместе?

# Соотнесите количество предметов с цифрой



1

2

3

4

5

4

5

1

3

2




## Цель урока

1. Работать с числом и цифрой 6
2. Считать предметы и правильно писать цифру 6



2



Посмотри, как выглядит цифра, с помощью которой записывают число ШЕСТЬ. Найди среди знаков цифру 6. Сколько раз тебе встретилась цифра 6?

2

6


690686066



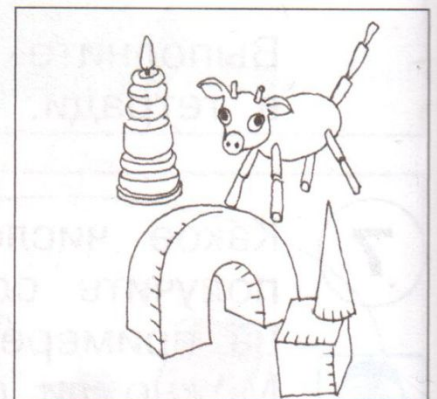

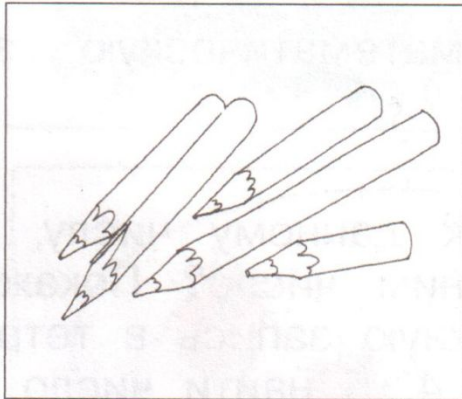
Посмотри, как выглядит цифра, с помощью которой записывают число ШЕСТЬ. Найди среди знаков цифру 6. Сколько раз тебе встретилась цифра 6?



6



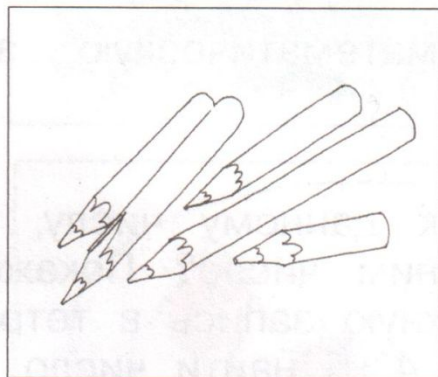


3



Найди тот рисунок, на котором изображено 6 предметов. Поставь на него фишку.


3



Найди тот рисунок, на котором изображено 6 предметов. Поставь на него фишку.



5



Посмотри на рисунок, и ты узнаешь, кто ШЕСТЫМ подошёл к Козлёнку. Сколько всего животных на рисунке? Запиши это число.


## Физкультминутка

*Раз – подняться, потянуться,  
Два – согнуться, разогнуться,  
Три – в ладоши три хлопка,  
Головою три кивка.  
На четыре – руки шире,  
Пять – руками помахать,  
Шесть – тихо сесть.*





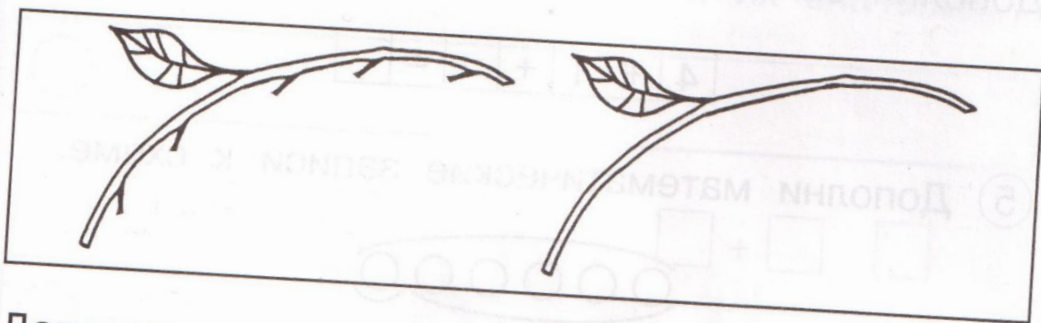
6



Найди ШЕСТУЮ слева доску в заборе и поставь на неё фишку. Отсчитай справа 6 досок и на каждую из них поставь фишку.



③ Дополни рисунок так, чтобы он соответствовал сумме  $5 + 1$ .

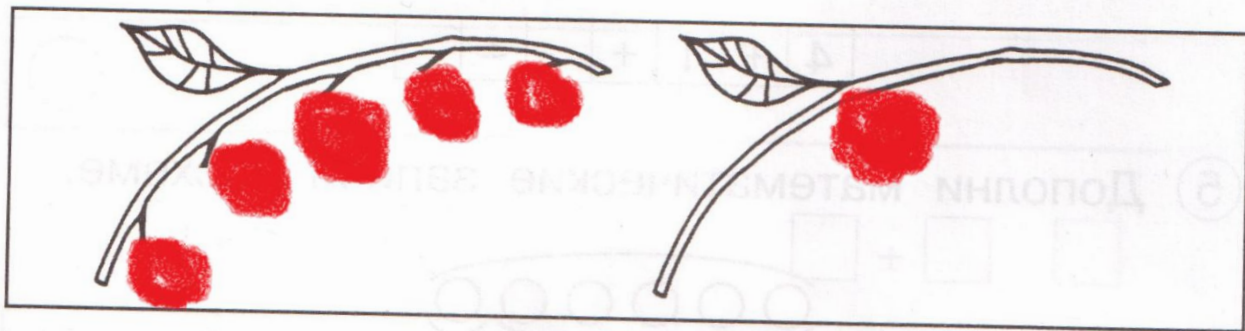


Дополни запись к рисунку.

6 — это  и ещё .

$$\square + \square = 6$$

③ Дополни рисунок так, чтобы он соответствовал сумме  $5 + 1$ .



Дополни запись к рисунку.

6 — это  и ещё .

$$\boxed{5} + \boxed{1} = 6$$

## Рефлексия



*Я удовлетворён уроком, урок был полезен для меня, я хорошо работал и получил отличную оценку.*



*Урок был интересен, я принимал в нём активное участие, мне было на уроке комфортно.*



*Полезности от урока я получил мало, я мало понимал о чём шла речь. Мне было неинтересно.*



МОЛОДЦЫ!

