


* Урок математики

2 класс

Хайриева Г.Г.

учитель начальных классов
МБОУ «Биектауская СОШ»



Устный счёт



9

$\times 6$

54

$- 7$

47

$- 30$

17

$\times 2$

34

$- 9$

25





24

-17

7

*9

54

-54

0

*5

0


+50



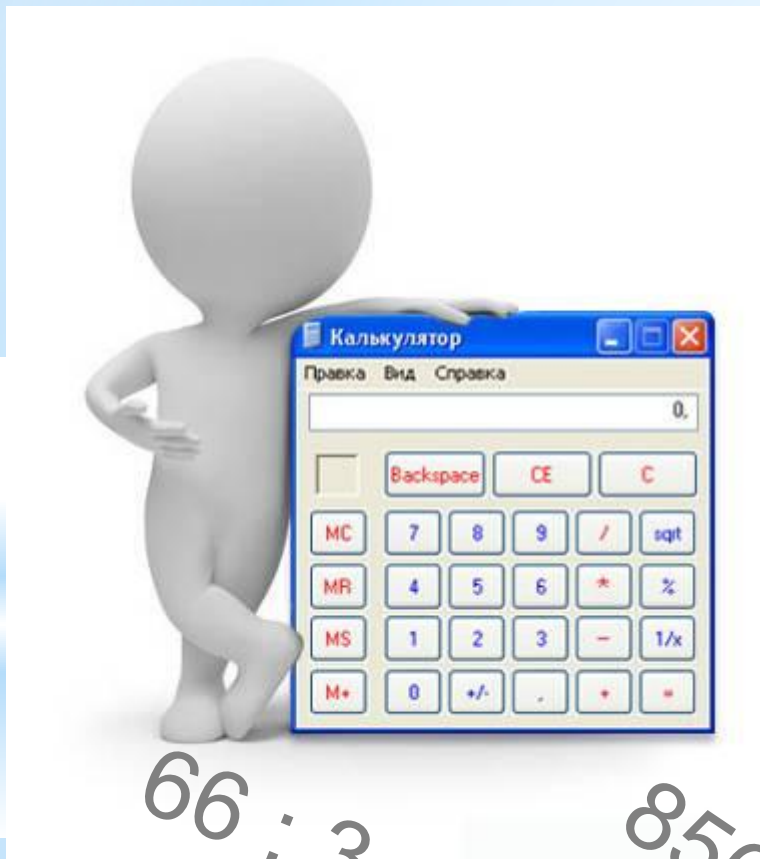
50

Им пользоваться очень просто: нужно по порядку нажимать на те клавиши, на которых написан нужный знак.

Маша, научи меня пользоваться калькулятором.



ТЕМА УРОКА



$$123 - 473 =$$

$$66 : 3 =$$

$$856 + 689 =$$

$$55 \cdot 16 =$$

$$45 + 37 + 21 =$$


СЕГОДНЯ НА УРОКЕ

- узнаем, какие приспособления для вычислений использовались с древних времен;
- познакомимся с калькулятором;
- выполним вычисления с помощью калькулятора



ЭТО ИНТЕРЕСНО

В Древней Греции и Древнем Риме использовали счетную доску - абак



ЭТО ИНТЕРЕСНО


В Древнем Китае выполнять вычисления помогало приспособление *суан-пан*



ЭТО ИНТЕРЕСНО



В 1642 году Блез Паскаль изобрел
суммирующую машину

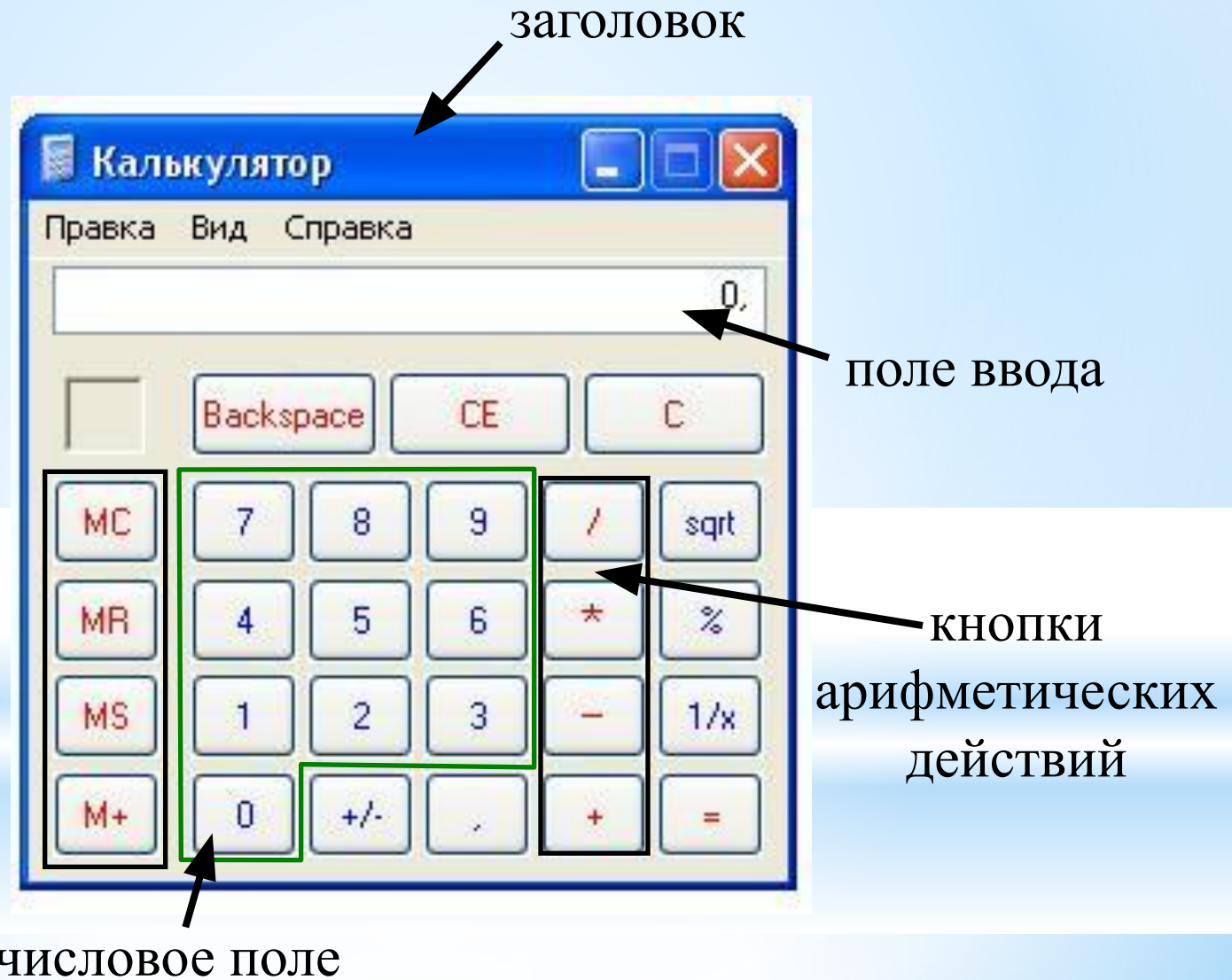


НУЖНО ЗНАТЬ

Современный калькулятор



НУЖНО ЗНАТЬ



НУЖНО ЗНАТЬ

Попробуйте назвать арифметические действия

Знак	Название арифметического действия
+	сложение
-	
*	
/	
=	

НУЖНО ЗНАТЬ

Попробуйте назвать арифметические действия

Знак	Название арифметического действия
+	сложение
-	вычитание
*	умножение
/	деление
=	

ОТ ЗНАНИЯ К УМЕНИЮ

Крош и Ёжик решили построить башню из деталей строительного конструктора. Было использовано 154 кубика и 292 бруска. Сколько всего деталей Крош и Ёжик задействовали для строительства башни?

Вычислить:

$$154+392=$$

Порядок выполнения:

1. набрать число **154**
2. нажать **+**
3. набрать число **292**
4. нажать **=**



Ответ: **446** деталей использовали Крош и Ёжик для строительства башни

* 1. Какое число меньше 36 на 1 ?

1 30

2 37

3 35

***2. Выбери пару выражений, которые имеют одинаковые значения.**

1 $45 - 3$ и $45 + 3$

2 $70 + 2$ и $2 + 70$

3 $66 - 4$ и $66 - 6$

*** 6. Выбери разность,
значение которой равно 16.**


1 $16 + 0$

2 $16 - 16$

3 $16 - 0$

*8. Какой знак пропущен в записи:

$$3 * 2 + 12 \dots 400 + 25?$$



***9. В первом доме 300 жильцов,
а во втором – 600. Сколько жильцов в
двух домах?**

1 900

2 500

3 300

ПОДВОДИМ ИТОГИ

Сегодня я узнал(а)...

Было интересно...

Было трудно...

Я научился(лась)...

У меня получилось ...



МОЛОДЦЫ!