

КВН

ПО

МАТЕМАТИКЕ

3 КЛАСС



**«Математика-
царица наук, арифметика-
царица математики»
К. Гаусс**



**«Математику уже затем
учить надо, что она ум в
порядок приводит» М.В.
Ломоносов**



1 тур

Разминка



1 команда

1. ШЛА ДЕВОЧКА В МОСКВУ И
ПОВСТРЕЧАЛА ТРЁХ МАЛЬЧИКОВ.
КАЖДЫЙ ИЗ НИХ НЁС ПО МЕШКУ,
В КАЖДОМ МЕШКЕ ПО КОТУ.
СКОЛЬКО СУЩЕСТВ НАПРАВЛЯЛОСЬ
В МОСКВУ?


1 девочка.




1 команда

**2. Сколько ушей у
трёх мышат?**

6 ушей



1 команда
3. Сколько
сантиметров
в $\frac{1}{5}$ метра?



20 см

1 команда

4. Самолет летит от Москвы до Санкт-Петербурга один час, а обратно из Санкт-Петербурга 60 минут. Почему такая разница?
1 час = 60 мин



1 команда
5. Что тяжелее:
1 кг пуха или 1 кг
железа?
Вес равный



2 команда

1. ПЯТЬ ЛАМПОЧЕК ТУСКЛО ГОРЕЛИ В ЛЮСТРЕ. ХЛОПНУЛИ ДВЕРИ, ДВЕ ПЕРЕГОРЕЛИ. СДЕЛАТЬ НУЖНО ВАМ МАЛОСТЬ – СКАЗАТЬ, СКОЛЬКО ЛАМП ОСТАЛОСЬ?

5 ламп.



2 команда

**2.Сколько лап у 2-х
медвежат?**

8 лап



2 команда

3. Сколько часов в $1/4$ суток?

6 часов



2 команда

4.

6 картофелин сварились
за 30 минут в кастрюле. За
сколько минут сварилась
каждая картошина?

30 мин



2 команда

**5. На одной ноге петух весит 3
кг.**

**А сколько он весит на двух
ногах?**

3 кг



2 тур

Домашнее задание





3 «А»
класс



**3 «Б»
класс**

Кроссворд

			1	м	е	т	р		
2	п	и	ф	а	г	о	р		
			3	с	т	о			
			4	с	е	м	ь		
5	с	у	м	м	а				
		6	к	в	а	д	р	а	т
7	д	е	л	и	т	е	л	ь	
		8	п	р	и	м	е	р	
			9	с	к	о	б	к	а
			10	з	а	д	а	ч	а

3 тур

Решение задач.



1. Чебурашка пока путешествовал в ящике с апельсинами, съедал **по одному** апельсину на завтрак и обед и два – на ужин. Сколько апельсинов он съел за **неделю** путешествия?

28 апельсинов





**2. Незнайка написал Гусле письмо *из 14 слов* и в каждом допустил *по 3 ошибки*.
Сколько ошибок в Незнайкином письме?**

42 ошибки



3. Змей Горыныч вызвал на бой **трех богатырей**. Сколько голов должен отсечь каждый богатырь, если **у змея их 12**, а богатыри поделили его головы поровну?



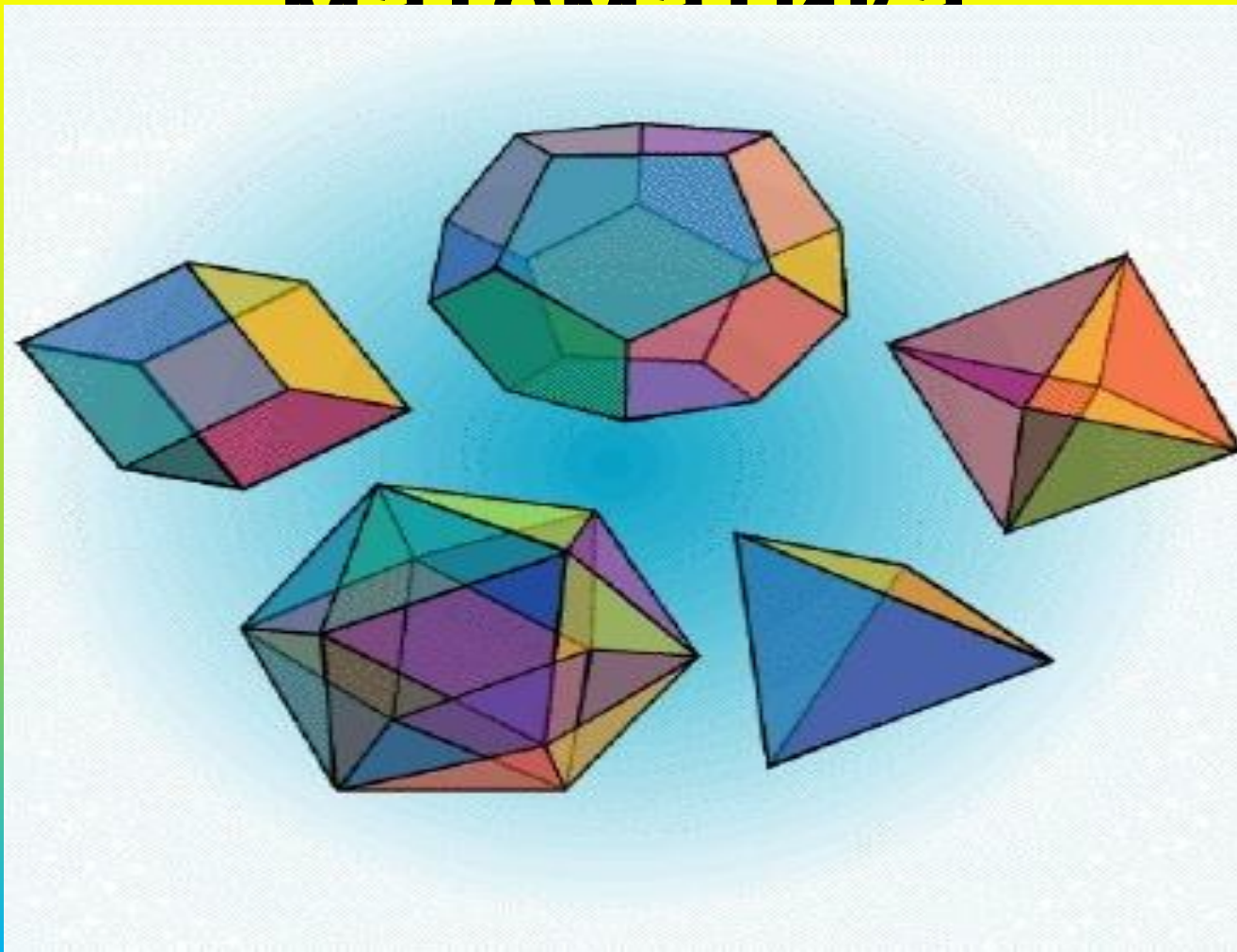
4 ГОЛОВЫ

Математические частушки



4 тур.

Занимательная математика



1. Определи время по зеркальным часам

1 команда



10 ч. 30 мин.

2 команда



2 ч. 30 мин.

2. Ребусы



1 команда

ПРЕ 100 Л

Престол

АК 3 СА

Актриса

2 команда


100 ЛИЦА

Столица

ПА 3 ОТ

Патриот

3. Логорифмы



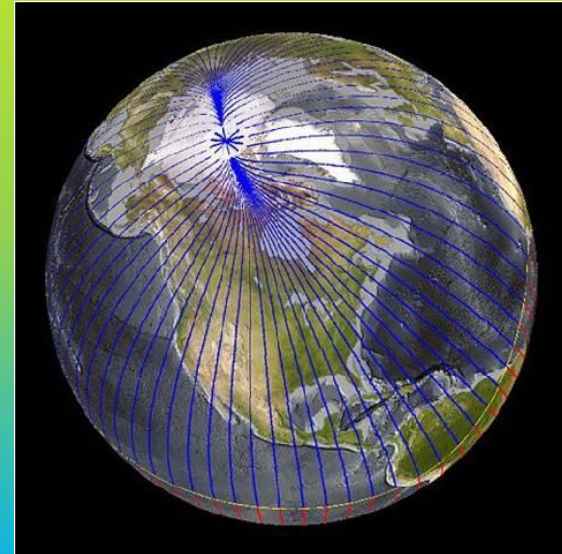
Я нелюбимая оценка в дневнике,
Из-за меня у школьников мрачнеет вся природа,
Но если внутрь меня поставить "Е",
То среди женского я рода.

Два - **дева**



Арифметический я знак,
В задачнике найдешь меня
ВО МНОГИХ
строчках,
Лишь "О" ты вставишь, зная как,
И я – географическая точка.

плюс - **ПОЛЮС**



4. Числа в пословицах и

поговорках
... В ПОЛЕ НЕ ВОИН

ОДИН В ПОЛЕ НЕ ВОИН.


... ОДНОГО НЕ ЖДУТ

СЕМЕРО ОДНОГО НЕ ЖДУТ.

У ... НЯНЕК ДИТЯ БЕЗ ГЛАЗУ

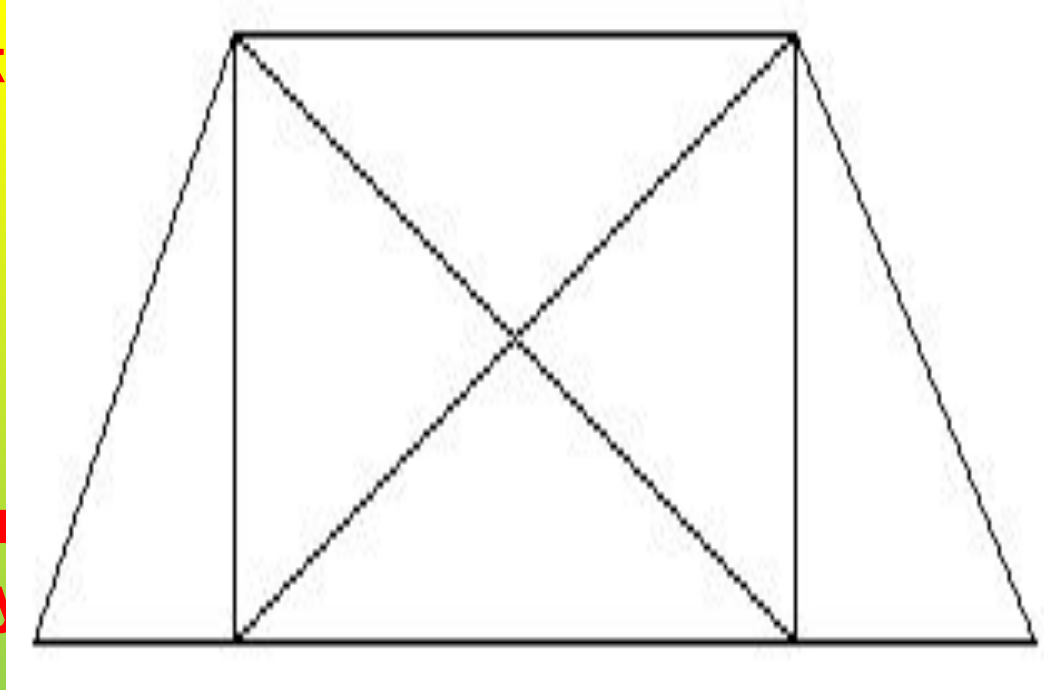
У **СЕМИ** НЯНЕК ДИТЯ БЕЗ
ГЛАЗУ.

5. Геометрический конкурс.



СКОЛЬКО ЗДЕСЬ ТРЕУГОЛЬНИКОВ?


Знает даже и дошкольник
Что такое треугольник.
Но совсем другое дело -
Быстро, точно и умело
Треугольники считать.
Например, в фигуре этой
Сколько разных? Рассмотри
Всё внимательно исследуй
И по краю, и внутри!



12

5 тур.

Конкурс капитанов



Угадай сказку

$Я \quad 5 * 7$

$В \quad 9 * 7$

$Л \quad 4 * 4$

$Р \quad 8 * 7$

$О \quad 8 * 9$

$Е \quad 45 : 5$

$Ж \quad 32 : 4$

$С \quad 7 * 3$

$А \quad 7 * 6$

$К \quad 6 * 6$

$Н \quad 24 : 4$

21	6	9	8	6	42	35

36	72	56	72	16	9	63	42

в гур.

Эрудиты,
вперёд!



1 команда

$$8 \ ? \ 5 \ ? \ 2 \ ? \ 5 \ ? = 25$$

$$8 * 5 : 2 + 5 = 25$$

2 команда

$$8 \ ? \ 5 \ ? \ 2 \ ? \ 5 = 75$$

$$8 * 5 * 2 - 5 = 75$$



21	6	9	8	6	42	35	
с	н	е	ж	н	а	я	
36	72	56	72	16	9	63	42
к	о	р	о	л	е	в	а

Молодцы!

