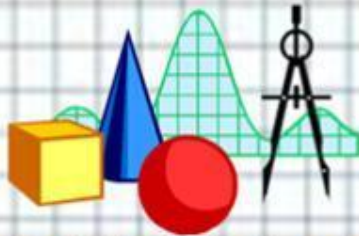




# Единицы площади. Квадратный миллиметр и квадратный сантиметр


МБОУ «Кутлу-Букашская  
СОШ», 3б класс  
Учитель: Фатхутдинова Р.М.



# Что такое **площадь**?

---

**Площадь**



-ЭТО МЕСТО,  
которое  
занимает  
фигура на  
ПЛОСКОСТИ





## Цели урока:

Познакомиться с  
новой единицей  
измерения площади  
– кв.мм

Установить  
соотношения между  
кв.см и кв.мм



# Единицы площади

*Игра « Найди лишнее».*

<b>миллиметр</b>	<b>секунда</b>	<b>грамм</b>
<b>час</b>	<b>неделя</b>	<b>тонна</b>
<b>метр</b>	<b>метр</b>	<b>центнер</b>
<b>дециметр</b>	<b>год</b>	<b>килограмм</b>
<b>сантиметр</b>	<b>век</b>	<b>минута</b>





# Единицы площади

Игра « Найди лишнее».

миллиметр	секунда	грамм
<b>час</b>	неделя	тонна
метр	метр	центнер
дециметр	год	килограмм
сантиметр	век	минута



# Единицы площади

Игра « Найди лишнее».

миллиметр	секунда	грамм
<b>час</b>	неделя	тонна
метр	<b>метр</b>	центнер
дециметр	год	килограмм
сантиметр	век	минута





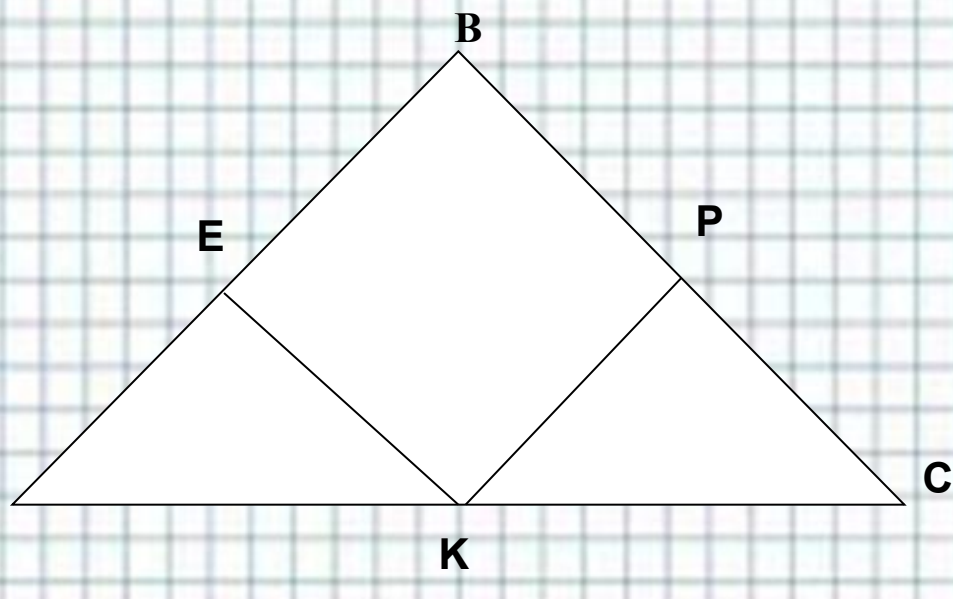
# Единицы площади

Игра « Найди лишнее».

миллиметр	секунда	грамм
<b>час</b>	неделя	тонна
метр	<b>метр</b>	центнер
дециметр	год	килограмм
сантиметр	век	<b>минута</b>

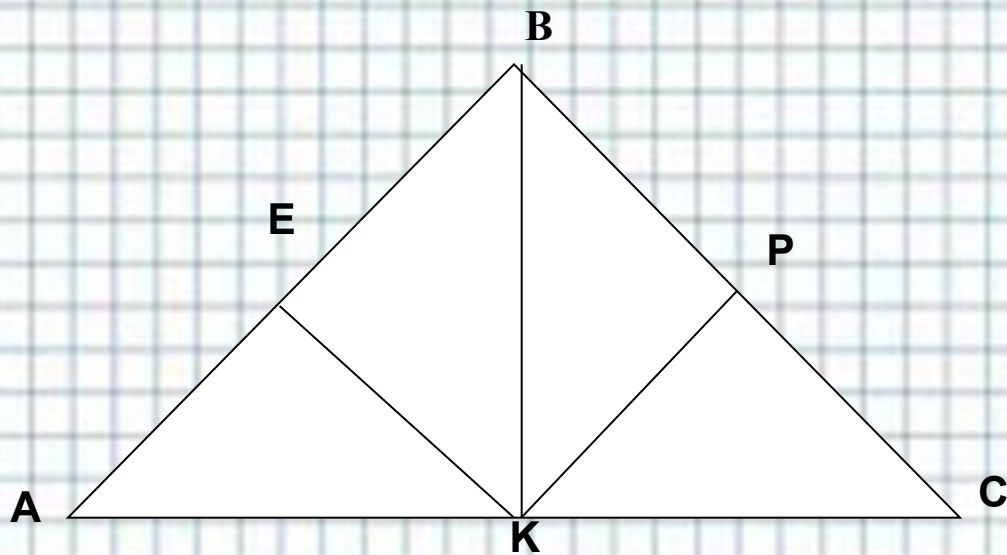


# Единицы площади





# Единицы площади



# ТЕСТ

Выбери единицу измерения **площади**

1)

$\text{CM}^2$

2)

CM

3)

$\text{KG}^2$





# Выбери верный ответ

**Площадь фигуры – это величина,  
которая показывает, ...**

1)... чему равна  
сумма длин всех  
сторон фигуры.

2)... сколько  
места занимает  
фигура на  
плоскости.

3)... чему равна  
масса фигуры.



# Выбери верное высказывание.

---

Чтобы найти **площадь** прямоугольника, надо:

1)

Длину и ширину  
умножить на 2 и  
результаты сложить

2)

К длине прибавить  
ширину

3)

Длину умножить на  
ширину





Длина прямоугольника – 5 см, ширина –  
4 см. **Чему равна его площадь?**

1)

9 см<sup>2</sup>

2)

18 см<sup>2</sup>

3)

20 см<sup>2</sup>



---

*1 кв. км = ... кв. м*

**1) 100 кв. м**

**2) 1000000 кв. м.**

**3) 1000 кв. м.**





---

**1 кв. см = ... кв. мм**

**1) 100 кв. мм**

**2) 1000 кв. мм.**

**3) 10 кв. мм.**



# Проверяем ответы

---

1)

2)

3)

3)

2)

1)





## Реши задачу

	Длина	Ширина	Площадь
Прямоугольник	8 см	? В 4 раза меньше	Одинаковая
Квадрат	<u>? см</u>		

6 см

4 см

8 см



---

Автор данного шаблона:  
Ермолаева Ирина Алексеевна  
учитель информатики и математики  
МОУ «Павловская сош»  
с.Павловск  
Алтайский край  
Название сайта: <http://pedsovet.su/>

Автор презентации:  
Фатхутдинова Рафида Магсумовна,  
учитель начальных классов  
МБОУ «Кутлу-Букашская СОШ»  
Рыбно-Слободского района  
Республики Татарстан

