

ГУО «Гимназия № 1 г. Жодино»


Математика

3 «В» класс

Тема:

Закрепление приёмов сложения и вычитания трёхзначных чисел

Поможем пернатым друзьям

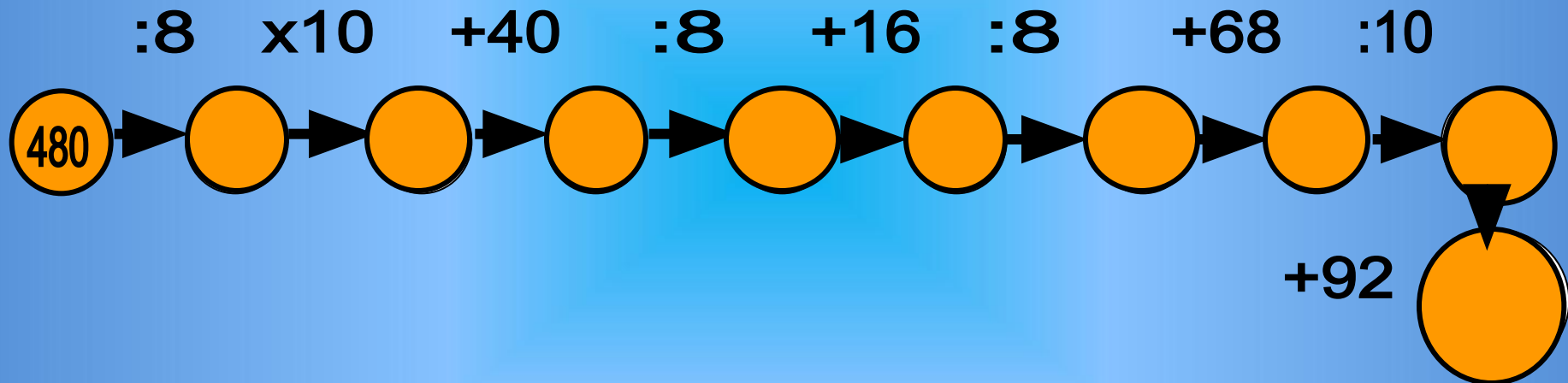


Учитель Н. И. Карпович



УСТНЫЙ СЧЁТ

Решите цепочку примеров:



математический клубок

$$\boxed{800} : 4 = \text{200}$$

$$\text{90} \times 6 = \triangle 540$$

$$\triangle 540 + 260 = \boxed{800}$$


$$\boxed{720} : 8 = \text{90}$$

$$\boxed{720} : 6 = 120$$



Новости из леса



№	ЗАДАЧИ	ОТВЕТЫ		
	Чтобы поужинать, волку достаточно 2 кг мяса, но если он голодал, то может съесть в 5 раз больше. Сколько кг мяса может съесть голодный волк?	7	12	10
	Маленькая мышка, живущая под корнями деревьев, делает запасы на зиму. В норке одной мышки было найдено 5 кг семян. Сколько кг семян перетащат в свои норки 6 мышей?	30	35	28
	Сурок спит 6 месяцев в году, это в 2 раза больше времени сна ёжика. Сколько месяцев спит ёжик?	4	3	12
	Масса яйца сороки 9 граммов, это в 3 раза меньше массы яйца фазана.	3	30	27

Решите примеры:

$$\begin{array}{r} 438 \\ + 276 \\ \hline 714 \end{array}$$

$$\begin{array}{r} 714 \\ - 276 \\ \hline 438 \end{array}$$

$$\begin{array}{r} 700 \\ - 354 \\ \hline 346 \end{array}$$

$$\begin{array}{r} 346 \\ + 354 \\ \hline 700 \end{array}$$

Самостоятельная работа

№ 1, стр. 56


- 1 вариант – 1 столбик
- 2 вариант – 3 столбик

1 вариант

Проверьте

2 вариант

907	548	803	367	408	530	562	900
⁻ <u>359</u>	⁺ <u>359</u>	⁻ <u>436</u>	⁺ <u>436</u>	⁺ <u>122</u>	⁻ <u>122</u>	⁺ <u>338</u>	⁻ <u>338</u>
548	907	367	803	530	408	900	562



получилось 4 части

35см



20см

Стор. кв. =

20 см

Р пр. = 110см



Р кв. = 80см



физкультминутка



м а р т

Пасмурных дней – 16 Солнечных дней – 18 Всего дней – 31



? дн.

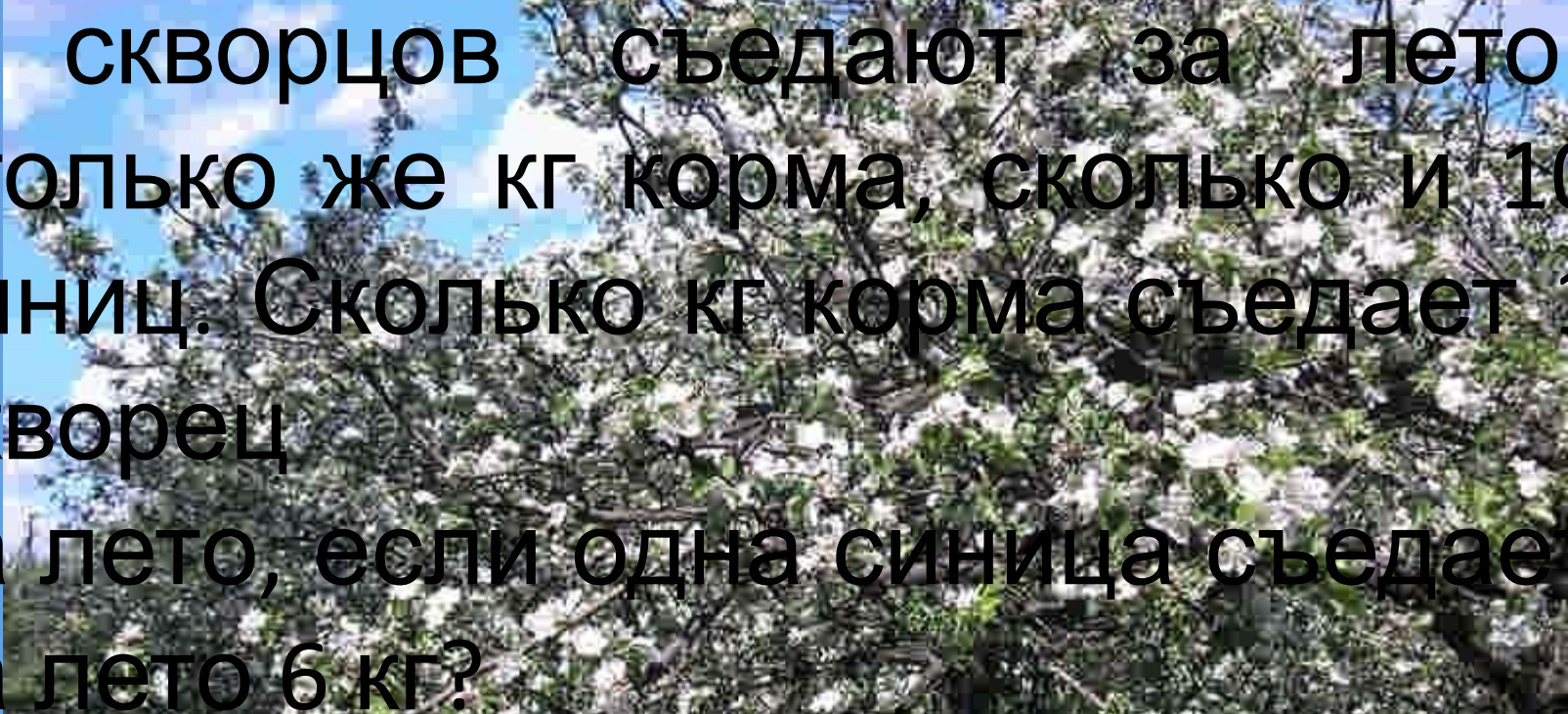
31 день

Решение:

1) $16 + 18 = 34$ (дня) – было всего пасмурных и солнечных

2) $34 - 31 = 3$ (дня)

Ответ: 3 дня светило солнце и было пасмурно.




6 скворцов съедают за лето
столько же кг корма, сколько и 10
синиц. Сколько кг корма съедает 1
скворец
за лето, если одна синица съедает
за лето 6 кг?




? кг



? кг



6 кг



? кг

РЕШЕНИЕ:

**1) $6 \times 10 = 60(\text{кг})$ – съедают 10 синиц
или 6 скворцов**


2) $60 : 6 = 10(\text{кг})$

**Отвѣт: 1 скворецъ съѣдаѣт за лѣто 10
кг корма .**

Работа в группах


Задание А

Сколько прямоугольников на рисунке?




Задание Б




Сколько квадратов на рисунке?




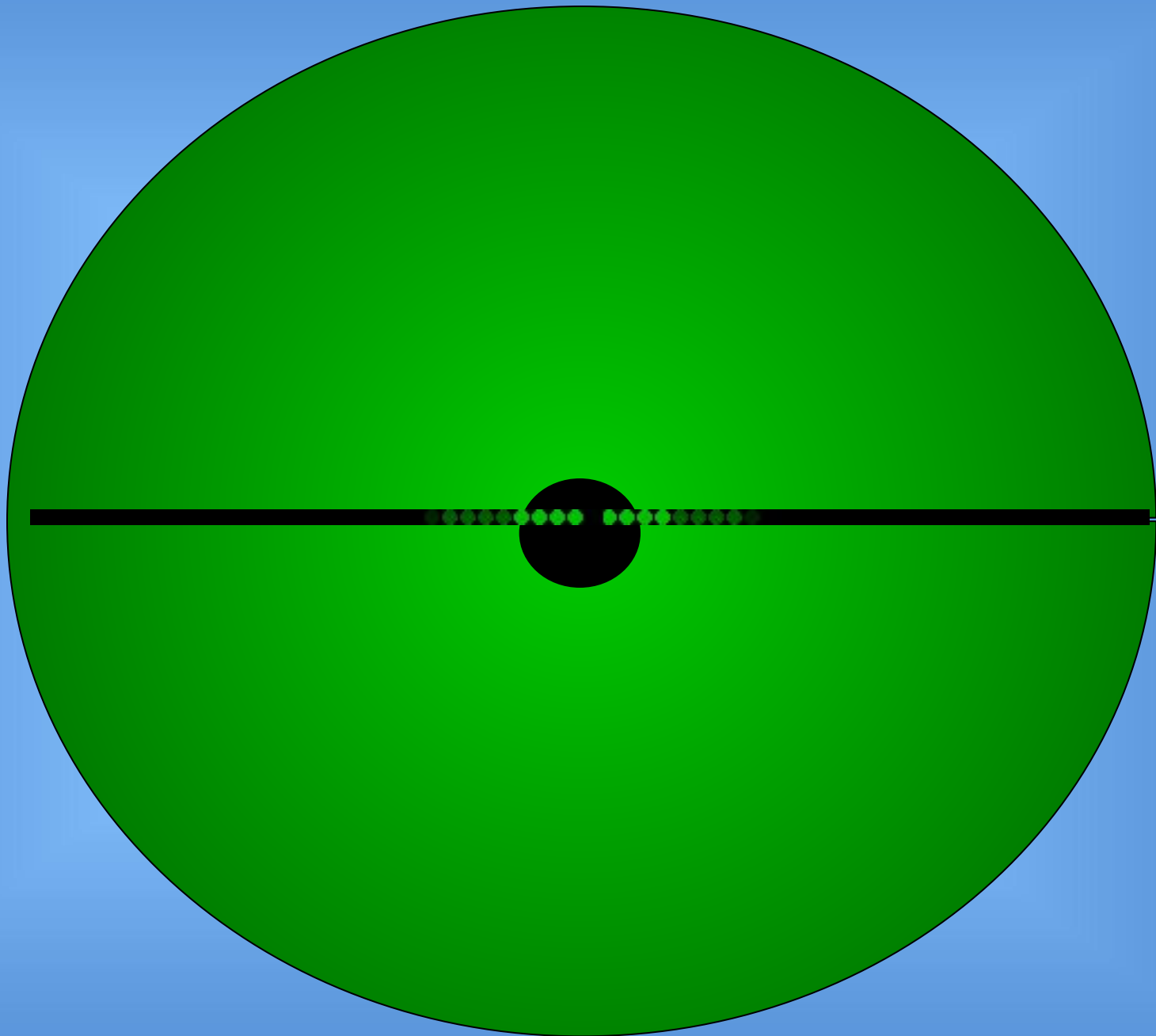
Задание В


Сколько треугольников на рисунке?

















**Будьте
здоровы!**



В прошлом году в наш город прилетело 340 грачей, скворцов на 130 меньше, а жаворонков в 3 раза меньше, чем скворцов. Сколько всего птиц прилетело в город?



130

3 =

210

620



СКВ

вор

(т.)

илет



360

70

180

20

90

290

30



240

540

480

3

560

260

420

550

40

360

70

180

20

90

290

30

$360 - 70$

290

540

480

3

560

240

260

430

80

40



360

70

180

20

90

30

$$60 \cdot 9$$

290

540

540

480

3

56

260

430

550

40

240



360

70

180

20

90

30

$$480 + 70$$



290

540

550

480

3

560

240

260

430

550

40

360

70

180

20

90

30

600-170

430

290

540

550

480

3

560

260

430

40

240



360

70

180

20

90

30

$$180 : 6$$

30

430

550

290

540

430

480

3

560

260

40

240



360

70

180

20

90

340-80

260

30

430

290

540

550

480

3

560

260

40

240



360

70

180

2

90

Спасибо!

260

30

420

80

60

540

240

480

3

560


40






спасибо
!!!


Рефлексия



Вы считаете, что урок прошёл для вас плодотворно, с пользой. Вы научились и можете помочь другим.



Вы считаете, что научились решать примеры и задачи, но вам ещё нужна помощь.



Вы считаете, что было трудно на уроке.

Домашнее задание

№ 9, 10, стр. 57