

# *Математика 1 класс*

Тема: Сложение и  
вычитание чисел в  
пределах 20.

## Открытый урок по математике


---

- Учителя начальных классов
- МБОУ лицея № 51 им. Б.В.Капустина
- Дрыковой О.В.

*Устный счёт.*

**«КОСМОС»**

$16 - 8$



$10 - 8$



7

6

1  
3


8

1  
7

1  
5

2

9



$4 + 9$



$20 - 3$



7

6

1

3

8

1

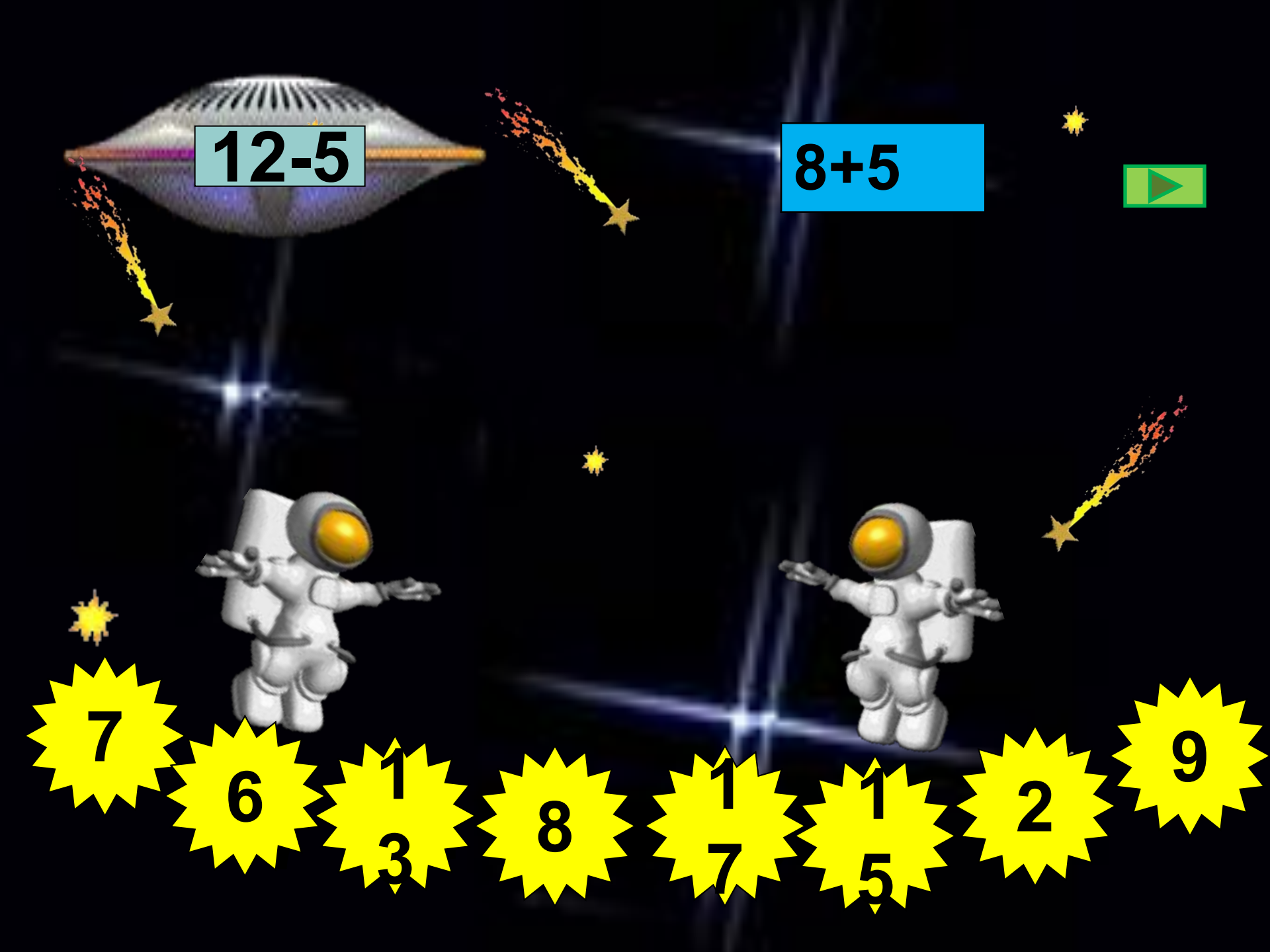
7

1

5

2

9



$12-5$

$8+5$



7

6

1

3

8

1

7

1

5

2

9



$6+7$



7

6

1

3

8

1

7

1

5

2

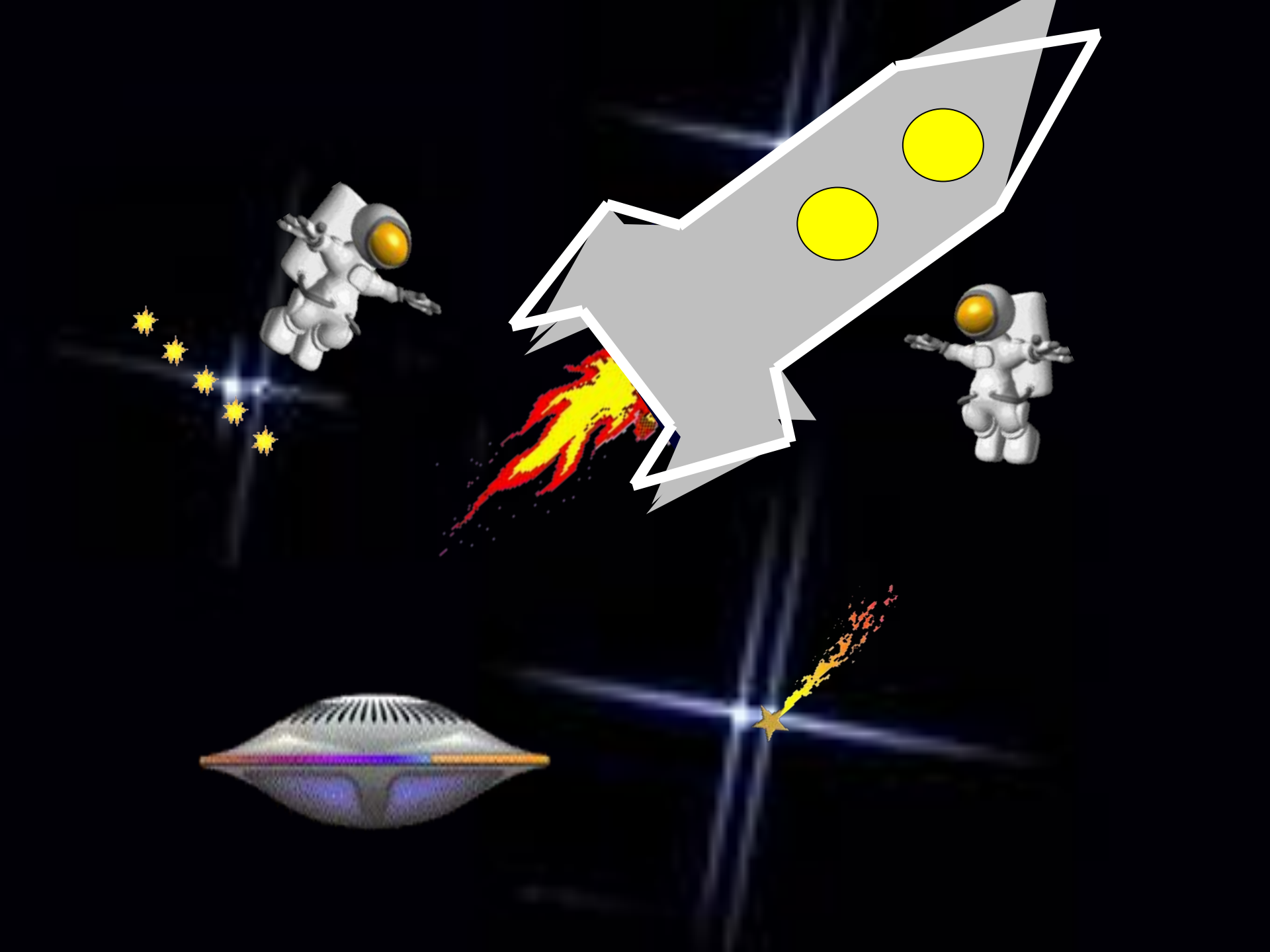
9

16-7

11-5







*Домашняя заготовка:*  
**«Ты – мне, я – тебе»**  
*Работа в парах.*



4 и 9

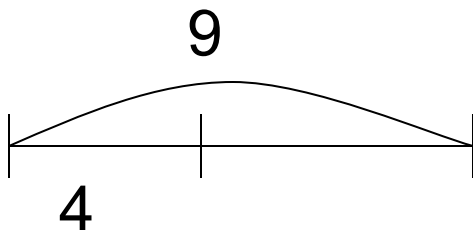


# 4 и 9

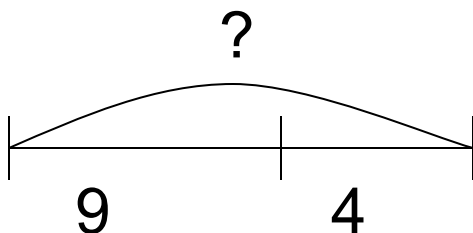
## Составляем задачи.

---

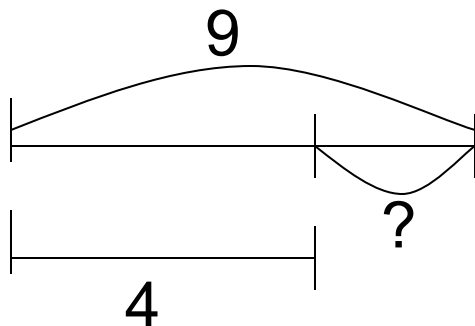
**А.**



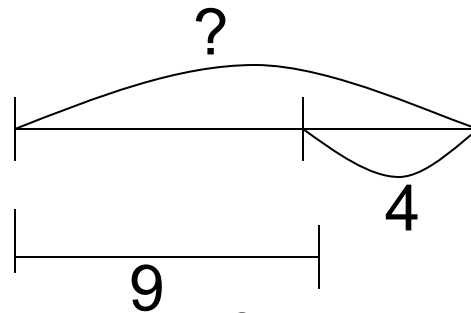
**Б.**



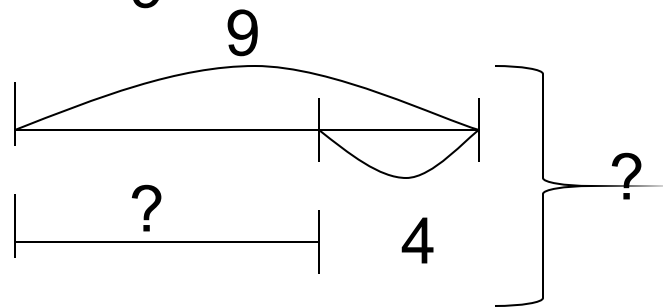
**В.**



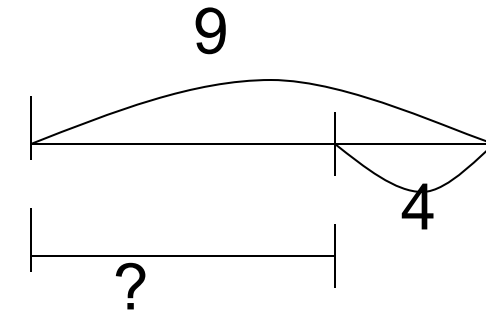
**Г.**



**Д.**



**Е.**



## Физминутка.

---

- Столько раз ногою топнем **4-2**
- Столько раз в ладоши хлопнем **5+1**
- Мы присядем столько раз **9-6**
- Мы наклонимся сейчас **4+3**
- Мы подпрыгнем ровно столько **10-6**
- Ай да счёт! Игра и только!

# Блиц-турнир.

---

- Учебник страница 51 № 6.

# Блиц-турнир.

---

- а)  $2+2=4$
- б)  $10-4=6$
- в)  $13-8=5$
- г)  $15-7 =8$
- д)  $9+4=13$
- е) 1)  $9-7=2$   
2)  $9+2 =11$

# Самостоятельная работа.

## Самостоятельная работа.

- 1.  $16-8=$              $9+5=$
- $12-7=$              $8+7=$
- 2.  $11$    $14$
- $19$    $16$
- $6+7$    $9+4$
- 3. В букете 7 ромашек и 5 васильков. Сколько всего цветов в букете?
- 

## Самостоятельная работа.

- 1.  $11-6+8=$              $9-5+7=$
- $7+8-9=$
- 2.  $1$  дм       $10$  см
- $1$  дм  $2$  см   $2$  дм
- $5$  см       $5$  дм
- 3. На поляне росло 5 незабудок и 6 васильков. 3 цветка сорвали. Сколько цветов осталось на полянке?



## Самостоятельная работа.

1.  $16-8=8$        $9+5=14$

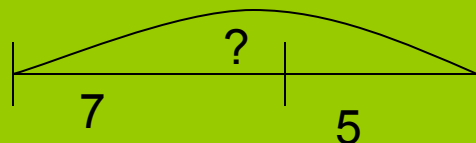
$12-7=5$        $8+7=15$

• 2.  $11 < 14$

•  $19 > 16$

•  $6+7 = 9+4$

• 3.



$7+5=12$  (ц.)

Ответ: 12 ц.

• 1.  $11-6+8=13$

•  $9-5+7=11$

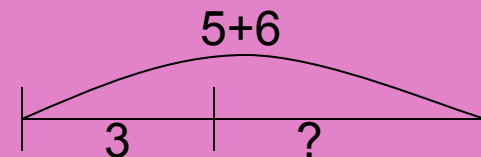
•  $7+8-9=6$

• 2.  $1 \text{ дм} = 10 \text{ см}$

•  $1 \text{ дм } 2 \text{ см} < 2 \text{ дм}$

•  $5 \text{ см} < 5 \text{ дм}$

• 3.



1)  $5+6=11$  (ц.) всего

2)  $11-3=8$  (ц.) осталось

Ответ: 8 ц.




# Групповая работа.

---



Нарисуйте прямоугольник.

---



*Подведение итогов.*

**МОЛОДЦЫ**