



!!!

Тақырыбы:
**«Уақытты өлшеу.
Секунд»**





ҚАЗАҚСТАН

23 маусым
дүйсенбі 08:47 ҚЫЗЫЛОРДА +41

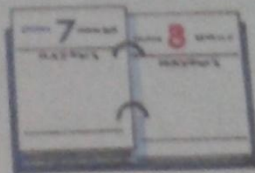
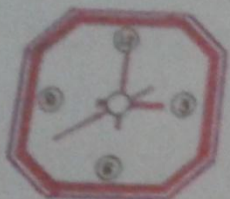
ТАҢШОЛПАН

Бүгін Қазақстан полициясы қызметкерлерінің күні

WWW.KAZTR

УАҚЫТТЫ ӨЛШЕУ. СЕКУНД

1.

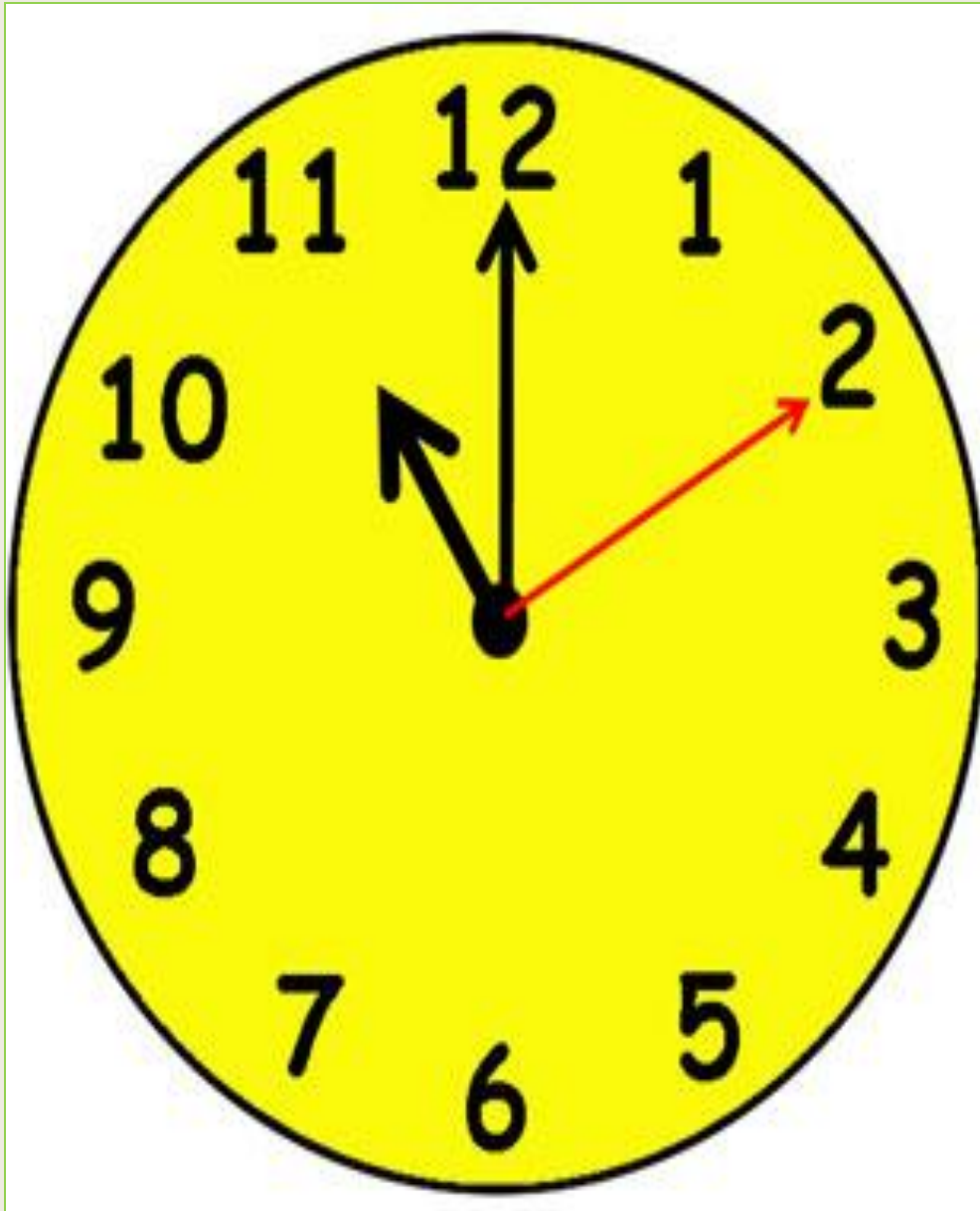


Есіңе сақта!
 $60 \text{ с} = 1 \text{ мин}$
 $60 \text{ мин} = 1 \text{ сағ}$
 $24 \text{ сағ} = 1 \text{ тәул.}$
 $100 \text{ жыл} = 1 \text{ ғасыр}$



Кестедегі көрсетілген уақыт бірліктерін қолдануға мысалдар келтір





Сағаттарда минут, сағат және секунд тілдері болады.

Бір минутта секунд тілі сағатты толық айналып шығады.

Яғни, 1 минутта 60 секунд бар.

1 минут = 60 секунд

Секунд – уақыттың ең кіші өлшем бірлігі.

Ал, минут тілі сағатты толық айналып шыққанда 1 сағатқа тең болады.

Бір тәулікте 24 сағат бар. Ал 12 сағат дегеніміз жарты тәулік.
аптада 7 күн бар, яғни 7 тәулік бар.
Уақыттың ең үлкен өлшем бірлігі – ғасыр.

Есіңе сақта!

- $60 \text{ с} = 1 \text{ мин}$
- $60 \text{ мин} = 1 \text{ сағ}$
- $24 \text{ сағ} = 1 \text{ тәул.}$
- $100 \text{ жыл} = 1 \text{ ғасыр}$



№2. «Аяқталмаған сөйлемдер» әдісі

Нүктелердің орнына сәйкес уақыт бірлігін қойып сөйлемдерді оқиды.

1-топ:

Біз – 21 ... өмір сүрудеміз.

Пойыз – 48 ... жолда болды.

2-топ:

Ұшақ – 3 ... ұшты.

Сабақтың ұзақтығы – 45

3-топ

Оқушы 60 м қашықтықты жүріп өтуге 38 ... уақыт жұмсады.

Көзді ашып-жұмғанша 1 кетеді.

№3. «Күннің көзін ашайық» ойыны
бойынша әр топтан екі оқушы шығып
орындалады.

- 1.Еліміздің Ата заңы күні қашан атап өтіледі?
- 2.Жеңіс күні ше?
- 3.Наурыз мейрамы ше?
- 4.Халықаралық әйелдер күні қашан?
- 5.Жаңа жыл қай айдан басталады?
- 6.Көктем, жаз, күз, қыс айларын ата.

- 1-топ

Жайлауда бірнеше жылқы жайылып жүр. Олардың аяқтарының саны 24 . Жайлауда неше жылқы жайылып жүр?

- 2-топ

Көктем келіп, бақта құстар сайрап жатыр. Ағашта 23 торғай отыр. Барлық торғайлардың аяқтарының саны нешеу?

- 3-топ

Тауық бір аяғымен тұрса, 3 кг тартады, екі аяғымен тұрса неше кг тартады?

№4 есеп

“Кім жүйрік?”

Топтық жұмыс


- 1 топ: 8 сәбіз - 2 қоян
- 2 топ: 6 машина – 3 бала
- 3 топ: 10 конфет – 2 ыдыс

“Сағат сатып алу” ойыны



Үйге тапсырма:

№5 189 бет



- **10 орындықты үш-үштен бөлменің әр қабырғасына орналастыр?**





**НАЗАРЛАРЫҢЫЗГА
РАХМЕТ!**