

# Решение задач



4-д класс

Составила учитель 4-д класса МБОУ  
Одинцовской  
начальной школы №2 Гераскина Надежда  
Даниловна.



# Задача

Соловей-красношейка и соловей-свистун вместе делают 60 колен при пении. Сколько колен делает соловей-свистун, если он делает их в 2 раза больше, чем соловей-красношейка?



# Задача

Две травяные лягушки за лето съели 2460 насекомых. Сколько насекомых съела


каждая лягушка, если вторая съела на 60 насекомых больше, чем первая?





# Задача

- Заяц пробежал 1 км 500 м за 1 минуту 40 секунд. С какой скоростью бежал заяц?



# Задача

Заяц убежал от лисы со скоростью 60 км/ч заметив, что лиса отстала, он уменьшил скорость втрое и оставшееся до своего дома расстояние пробежал за четверть часа. Сколько километров пробежал заяц до дома после того, как лиса отстала?



# Задача

Три бурундука собрали 79 шишек.  
Сколько шишек собрал каждый, если  
второй собрал на 5 шишек больше, чем  
первый,  
а третий- на 6 шишек больше, чем второй?



# Задача

- Дно бассейна имеет прямоугольную форму. Его выложили квадратными плитками со сторонами 2 дм. Всего потребовалось 31250 плиток. Найти длину бассейна, если его ширина 25 метров?

