



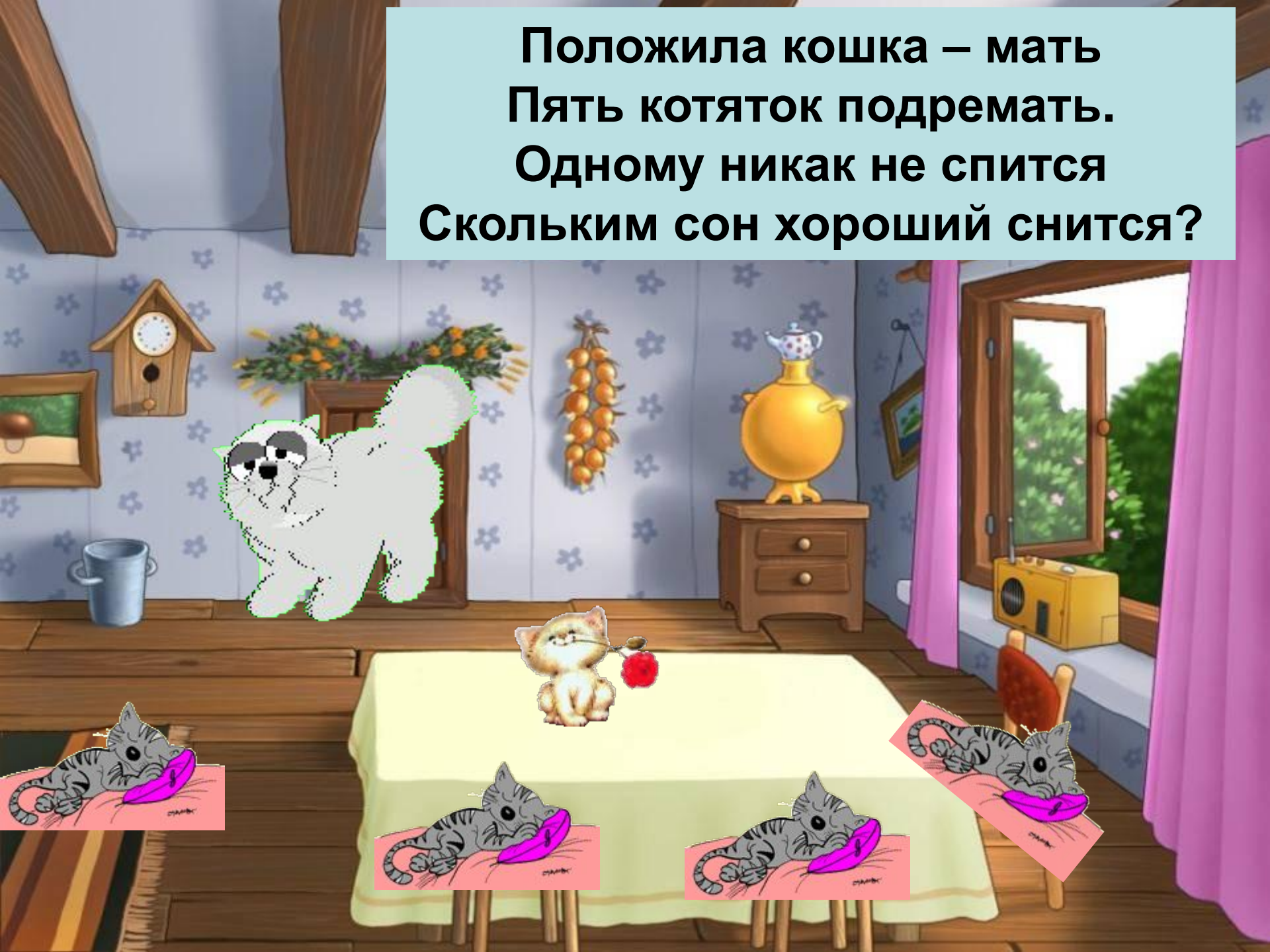
Задачи на нахождение остатка

1 класс



ОВ

Положила кошка – мать
Пять котяток подремать.
Одному никак не спится
Сколько сон хороший снится?



Под ёлочкой выросло 6 грибов.
Белочка сорвала 2 гриба.
Сколько грибов осталось под
ёлочкой?





**На дворе было 9 голубей.
Трое испугались кошку и улетели.
Сколько голубей осталось?**

**Волчонок привёз для
полива огорода 8 бочек с
водой.**

**2 бочки перевернулись, и
вода разлилась.**

**Сколько полных бочек
воды осталось?**



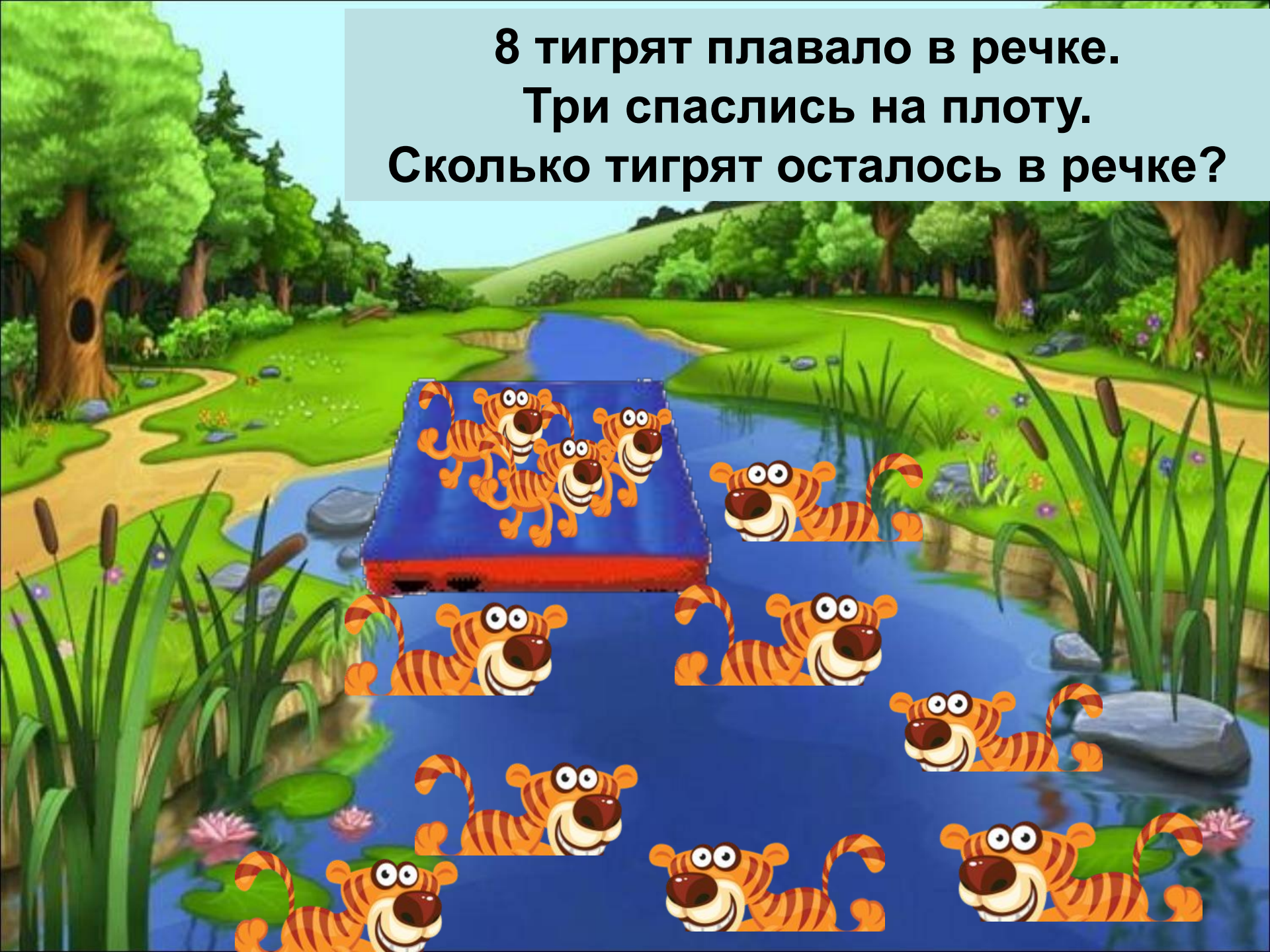
**Три веселых котёнка
играли на травке.
Вдруг один спрятался.
Сколько котят осталось?**






На поляне росло 10 земляничек.
4 землянички девочка собрала.
Сколько земляничек осталось?



8 тигрят плавало в речке.
Три спаслись на плоту.
Сколько тигрят осталось в речке?



На клумбе было 8 пчёлок.
3 пчёлки улетели в улей.
Сколько пчёлок осталось на
клумбе?





**7 гусей летело на юг,
Двое сели отдыхать.
Сколько их в небе видишь,
друг?**

**На пальме росло 9 бананов.
Мартышка сорвала 3 банана.
Сколько бананов осталось на
пальме?**



По пустыне бежало 8 зебр.
2 зебры отстали от всех.
Сколько зебр продолжали бег?



**По пустыне шло 7 верблюдов.
2 верблюда остались на отдых.
Сколько верблюдов пошло дальше?**



**В озере плавало 9 утят.
Прибежала лисичка и перепугала 3
утят.
Сколько утят осталось на озере?**



Девочка посадила 8 цветов.
2 цветка она подарила маме.
Сколько цветков осталось на
клумбе?



На поляне летало 9 бабочек.
Четыре полетели в лес.
Сколько бабочек осталось на
поляне?





Над нивой летало 10 стрекоз.
Прилетела ворона и съела 4
стрекозы.
Сколько стрекоз осталось?

На озере плавало 9 утят.
4 утёнка испугались лисичку.
Сколько утят осталось на озере?



На поляне сидело 10
божьих коровок.
4 насекомых улетело.
Сколько божьих коровок
осталось на поляне?



В лесу отдыхало 9 ёжиков.
3 ёжика пошли домой.
Сколько ёжиков осталось в
лесу?







**Во дворе играли 7 котят.
2 упало на землю.
Сколько котят осталось висеть?**

У корзине у хозяйки было
10 яиц.

Из трёх яиц вылупились
цыплята.

Сколько цыплят еще не
вылупилось?



У кошику у господарки було 7 яєць.
3 чотирьох яєць вилупились
курчата.
Скільки курчат ще не вилупились?




У кошику у господарки було 12
яєць.

Чотири яйця забрало курчатко.
Скільки яєць залишилось?



На столе лежало 10 яиц.
5 упало на пол.
Сколько их осталось на столе?



Пташка мала пташенят,
6 веселеньких малят.
Раптом трапилась біда –
Випало одне з гнізда.
Скільки пташенят тоді
залишилось у гнізді?



На галявині паслися
12 козликів.
4 пішло пити водичку
до річки.
Скільки козликів
залишилося пастися?



На доріжці бавилось 10
цуценят.
2 собачки втекли.
Скільки цуценят
залишилось?



По доріжці повзло 8 равликів.
3 равлики перелякались півника .
Скільки равликів залишилось?



Над квітами літало 9 бджіл.
4 комахи полетіло в ліс.
Скільки бджілок залишилось
на квітах?



На сонечку грілось 7 жабеняток.
4 пострибало до озера.
Скільки жабеняток залишилось
на сонечку?



На луки прилетіло 8 ос.
4 осі полетіло у свої
домівки.
Скільки ос залишилось на
луках?



У річці плавало 9 рибок.
Кіт упіймав 3 рибки.
Скільки рибок залишилось
у річці?



На обід прийшло 5 свиней.
3 пішло на ставок.
Скільки свиней залишилось у
дворі?



Над квітами літало 10 бджіл.
4 комахи полетіло в ліс.
Скільки бджілок залишилось
на квітах?



На галявині відпочивало 8 мурашок.
3 пішло у мурашник.
Скільки мурашок залишилось на
галявині?






**У діброві було 6 білочок.
3 тваринки побігли за їжею.
Скільки білочок залишилось?**



На дворі гуляло 7
качок
3 пташки полетіло.
Скільки пташок
залишилось?



**10 їжачків пішли
до лісу за грибами
5 заблукало в лісі.
Скільки їжачків
дійшло додому?**



У лісі було 8 зайченят
3 побігли додому.
Скільки зайченят
залишилось?



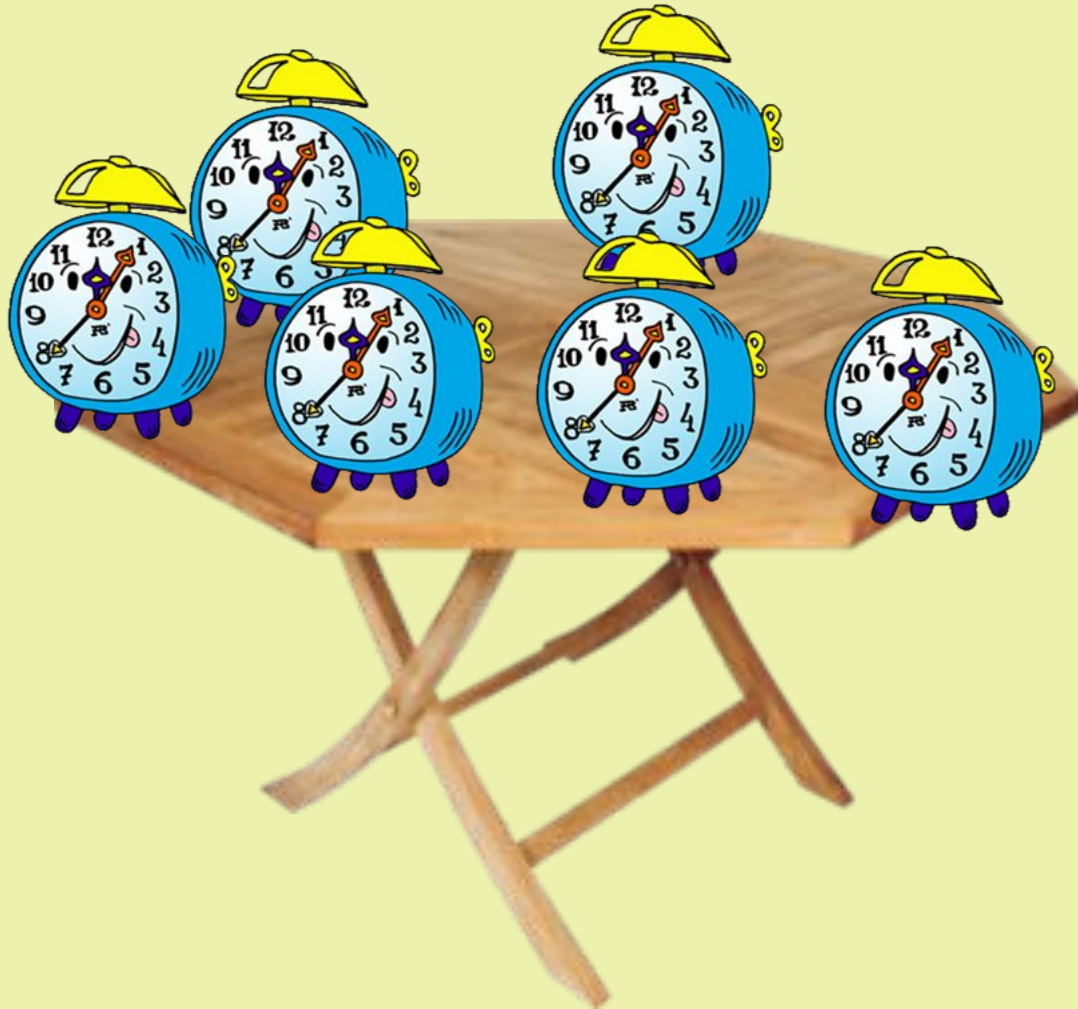
На вулиці гуляли 9 кіз.
Три кізочки пішли до
річки.
Скільки кізочок
залишилось на вулиці?



У Мишенятка було 8 яблук.
4 яблука він подарував зайченяті.
Скільки яблук залишилось у
Мишенятка?



У лева було 6 годинників.
2 він подарував зайчику.
Скільки годинників
залишилось у лева?



У черепахи було 6 ламп.
3 лампи вона подарувала
мишенятку.
Скільки ламп залишилось
у черепахи?



- Використані ресурси інтернету