




Надо дружно нам трудиться,
И стараться не лениться,
А весёлый Новый год,
Нам подарки принесёт!





Игра «Восстанови порядок»





Найдите значения выражений


$4 + 1 =$ 


$10 - 1 =$ 

$8 - 3 =$ 

$6 + 3 =$ 

$3 + 2 =$ 

$4 + 5 =$ 




Чем похожи и чем отличаются
равенства?

$$9 - 1$$

$$9 - 2$$

$$9 - 3$$

$$9 - 4$$




Найдите значение выражений

$$9 - 3 = \star$$

$$7 - 5 = \star$$


$$8 - 5 = \star$$

$$3 + 4 = \star$$



Игра «День - ночь»

$$9 - 1 - 5 + 2 - 4 + 7 - 6 = 2$$





Подогрела чайка чайник ,
Пригласила восемь чаек.
Приходите все на чай.
Сколько чаек, отвечай!

$$8 + 1 = 9$$

чаек

Тема. Число 9. Цифра 9. Состав числа 9



Составь числовые равенства по
рисунку

9




$$\underline{8} + \underline{1} = \textcircled{9}$$

$$\underline{1} + \underline{8} = \textcircled{9}$$


$$\textcircled{9} - \underline{8} = \underline{1}$$

$$\textcircled{9} - \underline{1} = \underline{8}$$



Составь числовые равенства по
рисунку

9




$$\underline{7} + \underline{2} = \textcircled{9}$$


$$\underline{2} + \underline{7} = \textcircled{9}$$

$$\textcircled{9} - \underline{7} = \underline{2}$$

$$\textcircled{9} - \underline{2} = \underline{7}$$



9





$$1+8-5=4$$

$$8-1-2=5$$

$$2+7-6=3$$

$$9-5+3=7$$

$$4+2+2+1=9$$

$$8-4+5-7=2$$

