



ДЕЦИМЕТР

мен

САНТИМЕТРДІҢ

арақатынасы



САБАҚТЫҢ МАҚСАТЫ:

Білімділігі :


Ұзындық өлшем бірлігі сантиметр мен дециметр жайында түсінік беру. Олардың ара қатынасы туралы түсіндіру. Ұзындық бірліктерінің әрекетін пайдалана отырып есептеудің жолдарын меңгерту.

Дамытушылығы:

Сабақ барысында ойлау қабілетін, есте сақтау қабілетін, логикалық ой-өрісін дамыту

Тәрбиелігі:

Ұзындық өлшем бірліктерін дұрыс қолдана білуге машықтандыру. Өз ойын ашық, еркін жеткізуге тәрбиелеу.



Сабақтың көрнекілігі :

интерактивті тақта, слайдтар

Сабақ әдісі: баяндау, түсіндіру,

*сұрақ – жауап, дамыта оқыту,
сәйкестендіру.*

Сабақ түрі : аралас сабақ

Пән аралық байланыс : дүниетану



Сабақ барысы :

I. Ұйымдастыру кезеңі.

- 1. Оқу құралдарын түгелден алудыру.*
- 2. Оқушының назарын сабаққа аудару.*

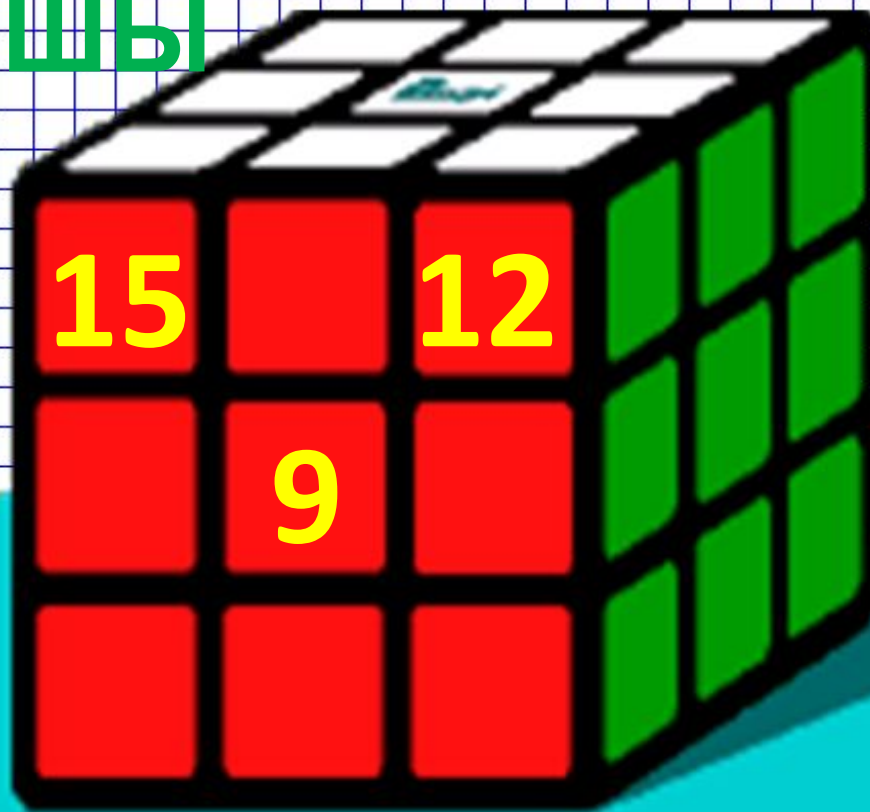

Қызығушылығын ояту.

II. Үй тапсырмасын сұрау.

- 1. Екеу ара жұмыс.*
- 2. Ауызша есептеу*



ҚЫЗЫҚТ
Ы
ШАРШЫ




28

санын
шығар

3. *Өткен сабақты еске түсіру. Кері есеп.*

Айжан - 10 жаста




Гүлжан - ?



6 жас кіші

Айжан - 10 жаста



**Неше жас
кіші ?**

Кері есеп



Гүлжан – 4 жаста

ТЕҢДЕУДІ ҚҰР ЖӘНЕ ШЕШ

$$x+10=70$$

$$x+20=50$$

$$a-6=70$$



1 шартты
белгіміз
неге тең?

10 см қаншаға
тең?

1дм, 1 см
қайысы ұзын?

1

1 дм

1 дм



*Математика-ғылым бұл,
Сондықтан да, балақай,
Сол ғылымның тілін біл!*


Жаңа сабақ

Оқулықпен жұмыс.

$$10 \text{ см} = 1 \text{ дм}$$



$$20 \text{ см} = 2 \text{ дм}$$



$$30 \text{ см} = 3 \text{ дм}$$



$$40 \text{ см} = 4 \text{ дм}$$



$$50 \text{ см} = 5 \text{ дм}$$



Өзіндік жұмыс

Бос орынға тиісті санды қой.

$$5 \text{ дм} = \boxed{} \text{ см}$$

$$70 \text{ см} = \boxed{} \text{ дм}$$

$$4 \text{ дм} = \boxed{} \text{ см}$$

$$6 \text{ дм} = \boxed{} \text{ см}$$

$$80 \text{ см} = \boxed{} \text{ дм}$$

$$10 \text{ дм} = \boxed{} \text{ см}$$

Амалдарды орында

$$90 + 10 =$$

$$90 \text{ см} + 10 \text{ см} =$$



Денгейлік тапсырма

Есептерді шығар

1- деңгей


Салтанат 20 жаста. Серік 10 жаста. Салтанат неше жас үлкен?

2- деңгей

Салтанат 20 жаста. Серік одан 10 жас кіші. Серік нешеде?

3- деңгей

Серік 10 жаста. Салтанат одан 10 жас үлкен. Салтанат нешеде?



Жылдам жүретіндерді ретімен

қой



3



6



5




1



9



2



4



8



7

Логикалық есептер



1) =4кг



=?

4 кг

2) Тормен су әкелуге бола
ма? *Ия, мұз күйінде*

3) Үлкейген сайын

жеңіл

Шар

Шығармашылық тапсырма

1. Мына өлшем бірліктерінің ішінен артығын алып таста.

мм, кг, см, метр, дм, м

2. Осы ұзындық өлшем бірліктерін кішкентайынан үлкеніне қарай атап шық.

мм, дм, м, см →

3. Сәйкесте



Қорытындылау

Не
өттік?

Не
білдік?



Ұзындық өлшем бірліктерін ата





**Балалар бар байлыққа
білімнің негізінде қол жеткіземіз.**

Сондықтанда білімді болуға тырысайық.

Үй тапсырмасы: 1946 5- мысал

Үлкендерден халық
арасындағы айтылып жүрген
қазақша өлшем бірліктері
туралы мәлімет жинау



Бағалау:





*Назарларыңызға
рахмет!*