

# МАТЕМАТИКА 3 КЛАСС

Тема: «Площадь  
прямоугольника».

Подготовила

Учитель начальных классов


Муниципального общеобразовательного учреждения

«Школа № 106 города Донецка»

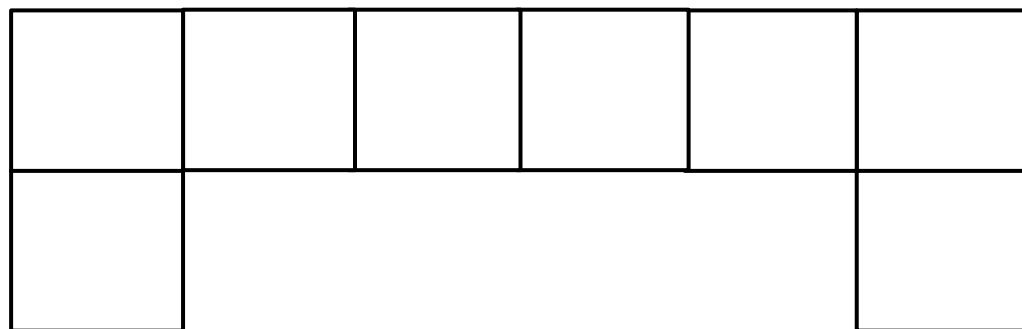
Алексеенко Виктория Петровна

# Организационный момент






Фигура 1



Фигура 2


# Прямоугольник



Длина 5см  
Ширина 4см



$$7 * 2 = 14 \text{ cm}^2$$



$$2 * 3 = 6 \text{ cm}^2$$

*Чтобы вычислить площадь прямоугольника, нужно найти его длину и ширину (в одинаковых единицах), а потом вычислить произведение полученных чисел.*

$$S = a * B$$

# Физкультминутка





Спасибо  
за хорошую работу  
на уроке!