

Урок математики. 2 класс.

Решаем задачи.

УМК «Планета знаний»



Подготовила
Шапкина Ю.В.

Устный счёт
Решаем ребусы.

Р1А

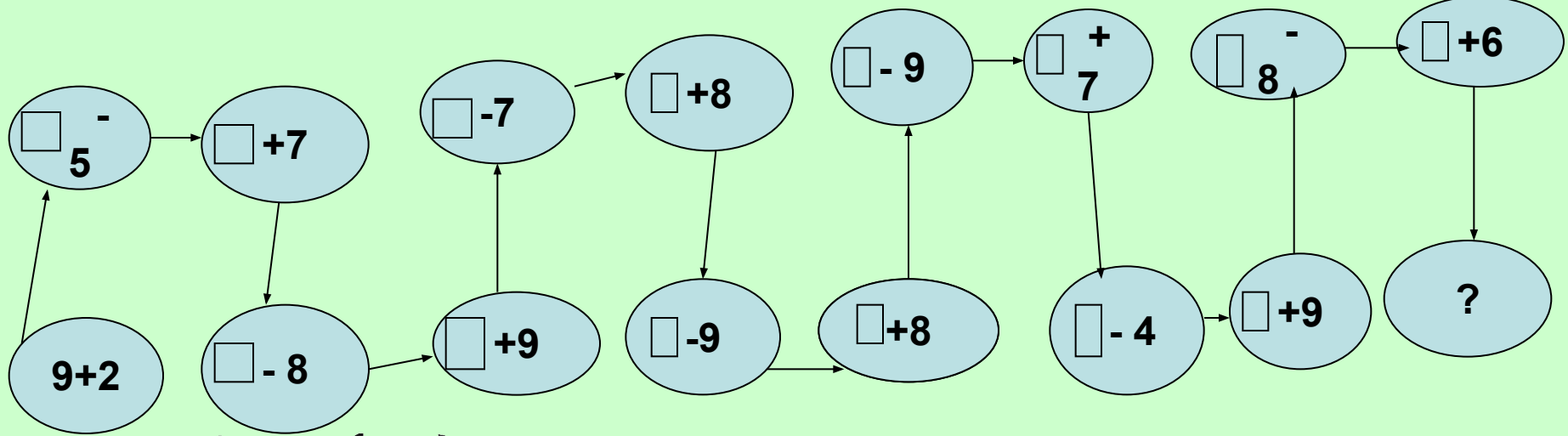
СЕСЗЦА

ПО2Л

*6*OK*

100 ЛИЦА

7Я



Проверка

11, 6, 13, 5, 14, 7, 15, 6, 14, 5, 12, 8, 17, 9, 15

На полянке три поганки,
Восемь белых у дубов,
На опушке три волнушки.
Сколько же всего грибов?



Тема урока: «Решаем задачи.
Составление краткой записи
условия задачи»

Краткая запись:

П.- 3

Б.- 8

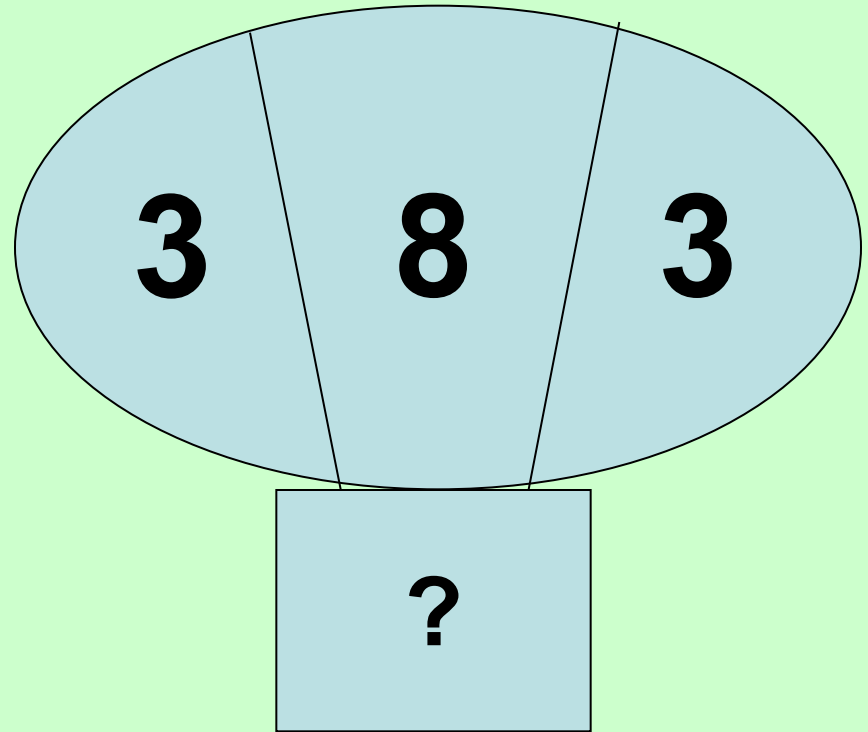
В.- 3

Всего - ?

$$3+8+3=14(\text{г.})$$

Ответ: 14 грибов.

Схема:



В вазе стояли 4 красные розы и 7 белых.
Вечером 5 роз завяли и их выбросили.
Сколько цветов осталось в вазе?



Краткая запись:

Кр.- 4 р.

Бел.- 7р.

Выбр.- 5р.

Ост.- ?

Решение:

$$4+7=11(\text{р.})$$

$$11-5=6(\text{р.})$$

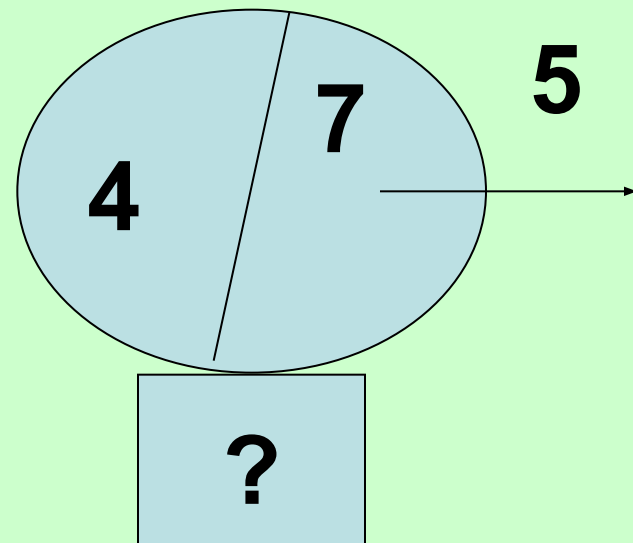
Ответ: 6 роз.

Или так:

Было: $4+7$

Выбр.- 5р.

Ост.: ?



Физкультминутка



В пруду плавали 14 птиц – лебеди и утки.
Потом 3 утки и 2 лебедя улетели.
Сколько птиц осталось в пруду?



Лебеди-

Утки-

Осталось-?

Плавали-

Улетели-

Осталось-?

Решение задачи:

1-й способ:

$$14 - 3 = 11 (\text{пт.})$$

$$11 - 2 = 9 (\text{пт.})$$

2-й способ:

$$3 + 2 = 5 (\text{пт.})$$

$$14 - 5 = 9 (\text{пт.})$$

Ответ: 9 птиц осталось.



*Получил
удовольствие*



Ничего не понял

Удивился

*Узнал что-то
новое*

Научился

Расстроился

Домашнее задание

Стр. 62 №3