










Урок математики

Канева В.Т.,



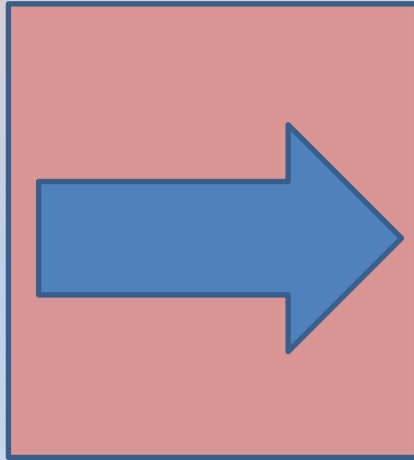

учитель начальных классов

МБОУ «СОШ пст. Абезь»

Устный счёт.
Сравни.



Угадайте, что должно быть
нарисовано в пустой клетке?



Блицтурнир

- 2 яблока
- 9 шариков
- 5 пирожков
- 2 шарика
- 9 горшочков

Как называются числа при сложении?



- Найдите сумму чисел 4 и 5


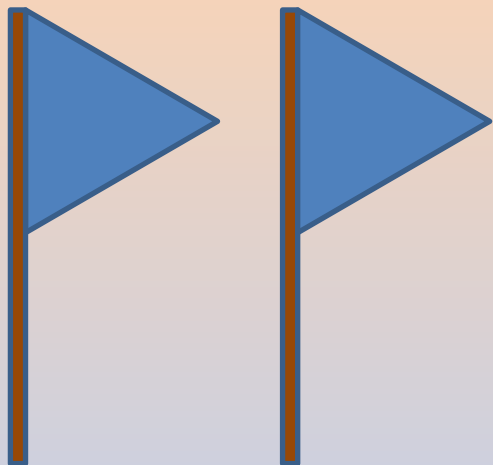
- $4 + 5 = 9$

- Первое слагаемое 7, второе слагаемое 3. Найдите сумму.

- $7 + 3 = 10$



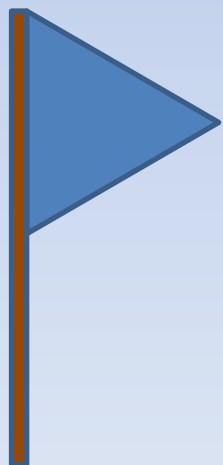
- Слагаемые 2 и 6. Найдите сумму.

- $2 + 6 = 8$

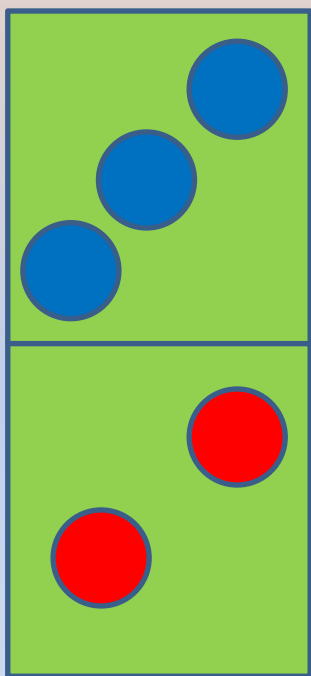


$$2 + 1 = 3$$

$$1 + 2 = 3$$



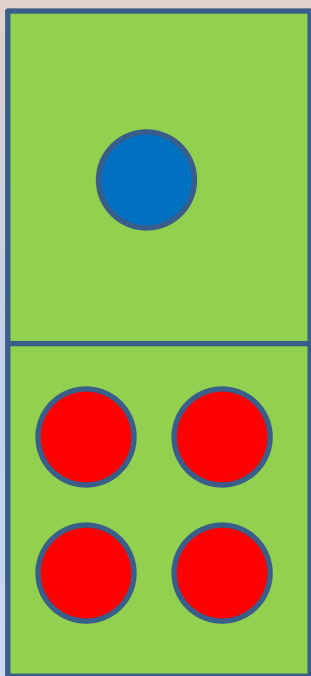
№ 1



$$3 + 2 = 5$$

$$2 + 3 = 5$$

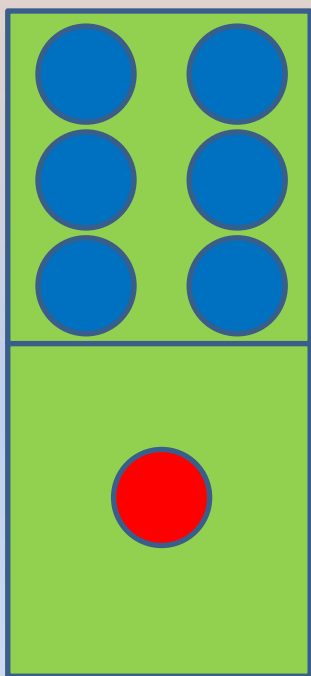
№ 1



$$1 + 4 = 5$$

$$4 + 1 = 5$$

№ 1



$$6 + 1 = 7$$

$$1 + 6 = 7$$

**Сформулируйте тему
урока.**

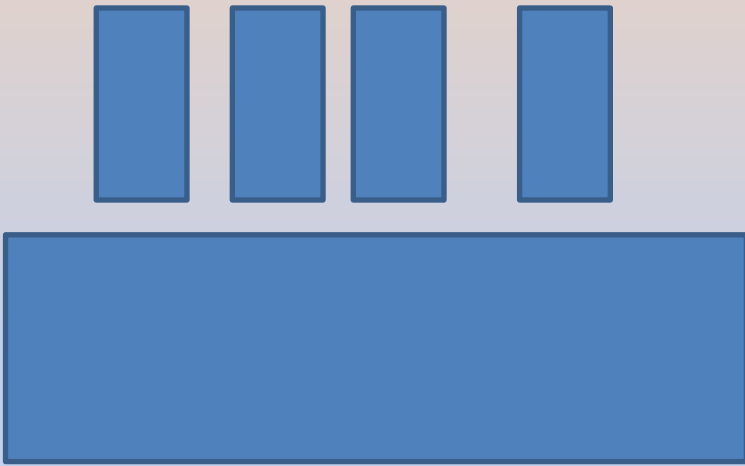
От перестановки
слагаемых
сумма
не изменяется.

• $5 + 4 = \text{●} + 5$

• $8 + 2 = 2 + \text{●}$

• $6 + \text{●} = 3 + 6$

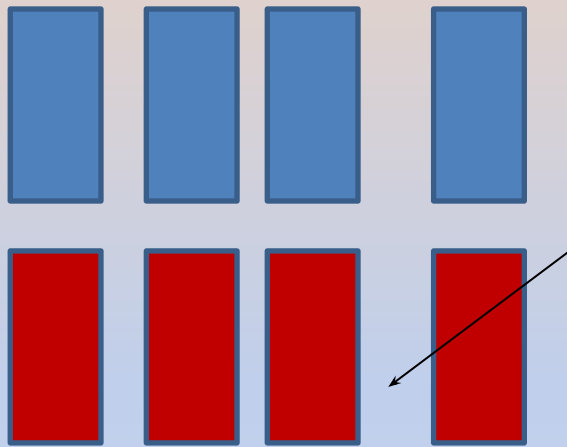
№2 (1)



$$4 - 1 = 3 \text{ (с.)}$$

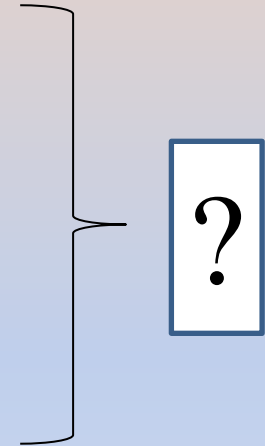
Ответ: 3 с.

№2 (2)



- 4 стр.

- стр.



$$4 + 3 = 7 \text{ (с.)}$$

Ответ: 7 с.

Спасибо!