




Игра

**«Смекай и
быстро
считай»**



1. Прочитай числа в порядке возрастания

111, 63250, 4362, 552671, 67823000, 503, 1678,32

2. Определи количество цифр в частном

$$940 : 4$$

$$3240 : 30$$

$$56350 : 35$$

$$576 : 18$$

$$7239 : 9$$

$$8172 : 224$$

3. Преобразуйте


$$2355 \text{ кг} = 2 \text{ т} 355 \text{ кг}$$

$$2 \text{ ч} 45 \text{ мин} = 165 \text{ мин}$$

4. Расставь скобки так, чтобы запись была верной

$$(780 - 600) : 20 + 400 = 409$$

5. Из чисел , 4, 5 назовите
только те,
которые можно вставить в окошко,
чтобы запись была верной

6. Каждое из чисел **3900** : ... **1300**  данного ряда
увеличьте в 100 раз

3, 30, 35, 350, 3050
300 3000 3500 35000 305000

5. Из чисел , 4, 5 назовите
только те,
которые можно вставить в окошко,
чтобы запись была верной

6. Каждое из чисел **3900** : ... **1300**  данного ряда
увеличьте в 100 раз

3, 30, 35, 350, 3050
300 3000 3500 35000 305000

7. Реши задачу

**Внук, родившийся в 1997 году,
на 59 лет моложе деда.**


В каком году родился дед?

$$1997 - 59 =$$
$$38(\text{л.})$$


8. Считаем быстро

$$36 \times 57 + 36 \times 43 - 60 \times (4 + 6)$$


9. Назовите из данных уравнений то, которое решается умножением




$$X : 6 = 42$$



**Сказка ложь, да в
ней намёк добрым
молодцам урок.**



**Путешествие
к сказочным
героям**



Много серебра и злата

В сундуках своих он прятал.

В мрачном он дворце живёт

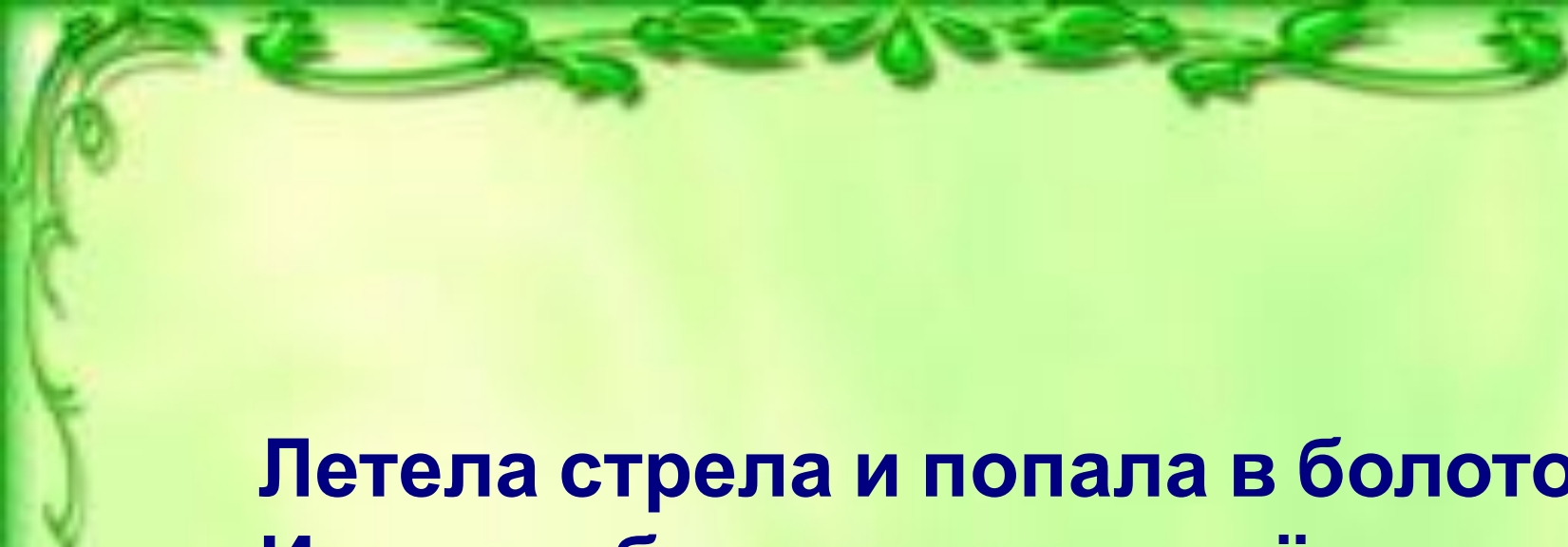
И чужих невест крадёт.

**Используя цифры 6, 8, 10, и
12**


**(цифры не должны
повторяться)**

**Найдите все возможные
решения верного
равенства**





**Летела стрела и попала в болото,
И в этом болоте поднял её кто-то.
Кто, распроставшись с зелёною
кожей,
Сделался мигом красивой,
пригожей?**



1) $9 \times X = 1677 -$

3

2)* $(8 X - 4 X) : 36 = 114$





**Долго ли, коротко ли, добегают
они до высокой крепости.**

Серый волк и говорит:


**— Слушай меня, Иван Царевич,
запоминай: полезай через стену, не
бойся — час удачный, все сторожа
спят. Увидишь в тереме окошко, на
окошке стоит золотая клетка, а в
клетке сидит Жар-птица.**

Реши

Расстояние в 2040 км от царства царя Агапа до тридевятого государства, где жила Елена Прекрасная, серый волк с Иван – царевичем пробежал за 10 часов. Возвращаясь, волк увеличил скорость на 51 км/ч .



Сколько времени он потратил на обратный путь?



**В глухом лесу в своей избушке
Совсем одна живет старушка.
Метлой она не пол метет,
Метла - старушкин самолет!**

Баба – Яга решила узнать площадь
своего
участка без дома. Рассмотрите план
участка 240 м

и помогите ей вычислить
площадь.

на 90 м
меньше

5

м




Рассчитайте, какой
длины
должен быть забор

$$20070 - 17696 : 28 \quad \times 3 =$$

$$970 \times 205 + 589 \times 100 =$$





**Спасибо за
внимание**