

# МАТЕМАТИКА

1 класс





# Золушка



$4+3 =$



$9-4 =$



$6+2 =$



$5-5 =$



$5-3 =$



$10-1 =$



0 2 5 7 8 9



Для платья купили

2 красные ленты и 1 белую.

Сколько всего лент купили?



Для платья купили

2 красные ленты и 1 белую.

Ленты красивые.



ЗАДАЧА

Для платья купили  
2 красные ленты  
и 1 белую.

**1.**

**Условие**

Сколько всего  
лент купили?

**2 . Вопрос**

**3. Решение**

**4. Ответ**

$$2 + 1 = 3(\text{л.})$$

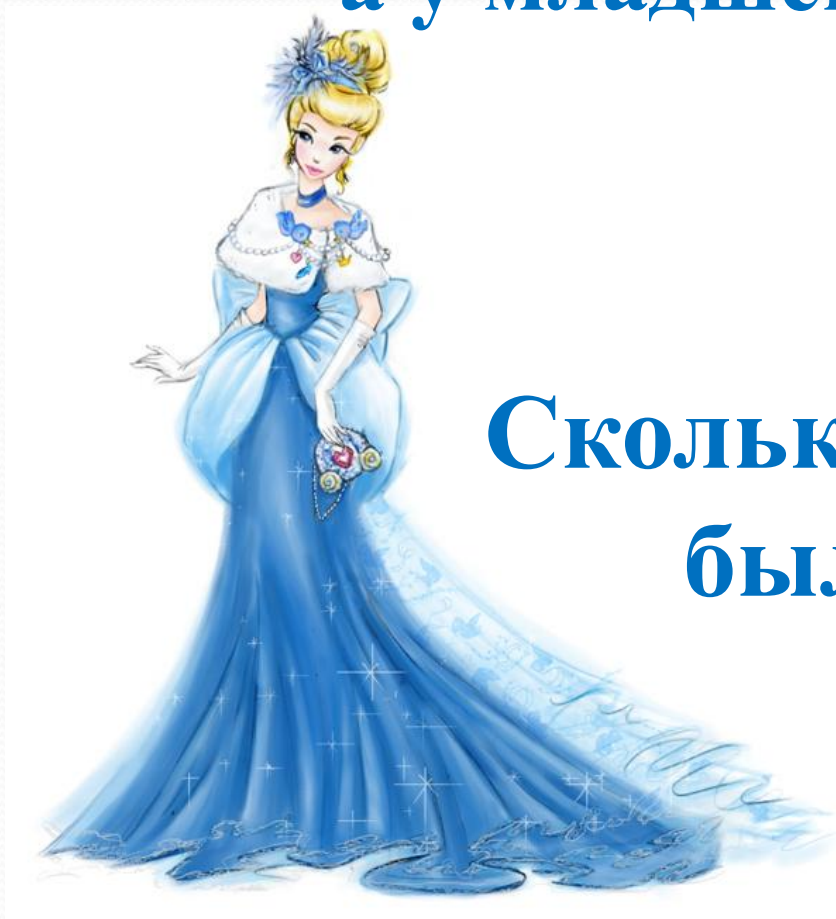
Всего купили  
3 ленты.







**У старшей сестры было 5 новых платьев,  
а у младшей 2 платья.**



**Сколько всего платьев  
было у сестер?**



Решение:  $5 + 2 = 7$  (пл.)

Ответ: **7 платьев.**

## Найдите задачу:

1. У старшей сестры 4 бус. Сколько бус у старшей сестры?
2. Сколько бус у сестер?
3. У старшей сестры 4 бус, а у младшей 2 бус. Сколько всего бус у сестер?
4. У старшей сестры 4 бус, а у младшей 2 бус.
5. Красивые ли бусы у сестер?







# Соедини стрелками:

В карете ехала 1 Золушка.  
На остановке вошли  
еще 2 человека.

Ответ: 3 человека.

Сколько человек стало  
в карете?



$$1 + 2 = 3 \text{ (чел.)}$$

**ОТВЕТ**


**УСЛОВИЕ**

**РЕШЕНИЕ**

**ВОПРОС**







**МОЛОДЦЫ!**