

# Сайыс

---

## «Жүзден жүйрік»

2-сыныптар

Ойынды бастау

Сайыс

# «Жүзден жүйрік»



10	20	30	40	50
60	70	80	90	100
110	120	130	140	150



Жауабыңыз дұрыс !



ұпай

Сіздікі

Ура!





Жауабыңыз дұрыс !



ұпай

Сіздікі

Ура!





**Жауабыңыз дұрыс !**



**ұпай**

**Сіздікі**

**Ура!**





Жауабыңыз дұрыс !



ұпай

Сіздікі

Ура!





Жауабыңыз дұрыс !



ұпай

Сіздікі

Ура!





**Жауабыңыз дұрыс !**



**ұпай**

**Сіздікі**

**Ура!**







**Жауабыңыз дұрыс !**



**ұпай**

**Сіздікі**

**Ура!**





**Жауабыңыз дұрыс !**



**ұпай**

**Сіздікі**

**Ура!**





Жауабыңыз дұрыс !



ұпай

Сіздікі

Ура!





Жауабыңыз дұрыс !



ұпай

Сіздікі

Ура!





Жауабыңыз дұрыс !



ұпай

Сіздікі

Ура!





**Жауабыңыз дұрыс !**



**ұпай**

**Сіздікі**

**Ура!**





**Жауабыңыз дұрыс !**



**ұпай**

**Сіздікі**

**Ура!**





Жауабыңыз дұрыс !



ұпай

Сіздікі

Ура!







Жауабыңыз дұрыс !



ұпай

Сіздікі

Ура!





**Қателестіңіз!**



**ұпай  
жоғалттыңыз**

**!**





**Қателестіңіз!**



**ұпай  
жоғалттыңыз**

**!**





**Қателестіңіз!**



**ұпай  
жоғалттыңыз**

**!**





**Қателестіңіз!**



**ұпай  
жоғалттыңыз**

**!**





**Қателестіңіз!**



**ұпай  
жоғалттыңыз**

**!**





**Қателестіңіз!**



**ұпай  
жоғалттыңыз**

**!**






**...-табиғаттың бір бөлігі.**

**а) Киім**

**ә) Адам**

**б) Мақта**





Адамның өмір сүруі  
үшін не қажет?

а) вагон

ә) машина, үй

б) Ауа, су, азық,  
жарық, жылу

Ойынды  
жалғастыру





**Маңайдағы көз жететін  
кеңістік не деп аталады?**

**а) күн**

**ә) көкжиек**

**б) жұлдыз**

Ойынды  
жалғастыру



...жәртілікті жерде  
көкжиек тұстарын  
анықтайтын құрал.

а) Егеу

ә) Қайшы

б)  
Құбыланама


Ойынды  
жалғастыру

**Бір заттың қағазға не басқа бір нәрсеге (фотоға) түсірілген нақты бейнесін не дейміз?**

**а) сұлба**

**ә) кітап**

**б) сурет**



Заттың үстінен  
қарағандағы  
көрінісінің сызбасы не  
деп аталады?

А) сұлба

Ә) телефон

Б) жоспар



атапды?

Жер бетіндегі ауаның  
қозғалысы не деп

а) құйын

ә) жел

б) қар



# Заттың үш күйі

а) Сұйық, газ,  
қатты

ә) Су, газ, мұз

б) Бу, газ, қатты



**Ауанын қасиеттері**

**а) иісі бар, мөлдір**

**ә) түссіз,  
мөлдір,  
пішіні жоқ,  
иіссіз**

**б) от жақсы  
жанады**





Біздің Ғаламшарымыздағы  
маньызы зор сүйіктік

а) құм

б) ауа

б) су

Ойынды  
жалғастыру



Мүз бен қар ненің қатты  
күлі?

а) судың

ә) желдің

б) қыраудың



**Судын касиеттері**

**а) жұмсақ, мөлдір**

**ә) түрлі-түсті**

**б) түссіз, мөлдір,  
дәмі  
болмайды, иісі жоқ**



Жердің беткі  
күнарты қабаты

а) жапырақ

б) қар

б) топырақ



Топырақтың ең басты қасиеті

**а)**  
**құнарлылы**  
**қ**

**ә) сезгіштік**

**б) борпылдақтық**



Әр адам топырақты ...  
көрек?

а) зиян  
келтіру

ә) оқу

б) қорғау

Жалғастыру

Күшті нөсер жауған кезде  
су топырақты шайып, ағызып  
ақты салдарынан пайда  
болатын не?

а) шұңқыр

ә) жыра

б) тау

... тірі организм.

а) доп

ә) өсімдік

б) батпақ

Жалғастыру





# Өсімдік өсу үшін не қажет?

**а) жарық,  
жылу,  
ауа, су,  
топырақ**

**ә) қар,  
найзағай**

**б) жарық, жылу,  
ауа,  
шай, сүт**

Кандай организмдер  
өсөш, дамшы, өлөш?

а) Тірі  
организмдер

ә) Өлі  
организмдер

б) әлсіз  
организмдер

Тіршіліктің өзіне ұқсас  
ағзалар шығаруын не  
дейміз?

А) көбею

Ә) балапандау

Б) уылдырық шашу

тырады?

Tipi organizmder nelerdn

а) сабақтардан

б) гүлдерден

ә) жасушалардан

Жасушаларды  
нәмен көрүге  
боллады?

а)  
микроскоппен

ә)  
сызғышпен

б)  
телефонмен

Топырақтағы бөлігі  
Өсімдіктің

а) күлте

ә) сабақ

б) тамыр

Тамырдың атқаратын  
қызметі

а) боранда  
құлатпайды

б) жарық  
береді

ә) өсімдікті  
қоректен-  
діреді, топыраққа  
бе-  
кітіп тұрады

*feel the power of the Ether  
works good with XP*

Жапырақ қайда  
орналасқан?

*feel the power of the Ether  
works good with XP*

**а) гүлдің  
күлтесінде**

**ә) сабақ пен  
бұтақта**

**б) тамырда**