

Урок математики.

**Вот книжки на столе,
А вот тетрадки.
Не хочется играть
Сейчас нам в прятки.
Сегодня у ребят
Урок уж больно важный!!!**

**Автор: Тлегенова Г.Б.
Учитель начальных классов
ОСШ. им. М.В. Ломоносова**



$$29 \overset{35}{\pm} 6$$

E

$$100 \overset{25}{-} 75$$

O

$$14 \overset{5}{\bar{}} 9$$

П

$$8 \overset{15}{\pm} 7$$

B

$$90 \overset{40}{-} 50$$

H

$$36 \overset{50}{\pm} 14$$

E

$$66 \overset{10}{\bar{}} 56$$

O

$$52 \overset{45}{\bar{}} 7$$

И

$$17 \overset{30}{+} 13$$

P


$$43 \overset{20}{\bar{}} 23$$

T

Повторение -
мать учения!




Помоги девочке собрать яблоки


$50 + 30 - 6 =$ 


$44 - 10 + 6 = 40$





$35 - 30 + 60 =$ 

$11 + 44 - 55 = 0$



$50 + 50 - 8 =$ 

$66 - 6 - 30 =$ 

$29 + 1 + 70 =$ 





***Выпишите только уравнения
и решите их.***

$$X + 32 = 85$$

$$11 - 7 > 5$$

$$X - 24 = 46$$

$$a + 7$$

$$50 - X = 25$$



Физкультминутка

От зеленого причала

оттолкнулся пароход (встать)

Он шагнул назад сначала,

(шаг назад)

А потом шагнул вперед

(шаг вперед)

И поплыл, поплыл по речке

(движения рук)

Набирая полный ход

(ходьба на месте)




ЗАДАЧА №1 стр. 166

В столовую привезли 15 кг масла, а мяса на 7 кг больше. Сколько килограммов продуктов привезли в столовую?

КВАДРАТ

5 дм

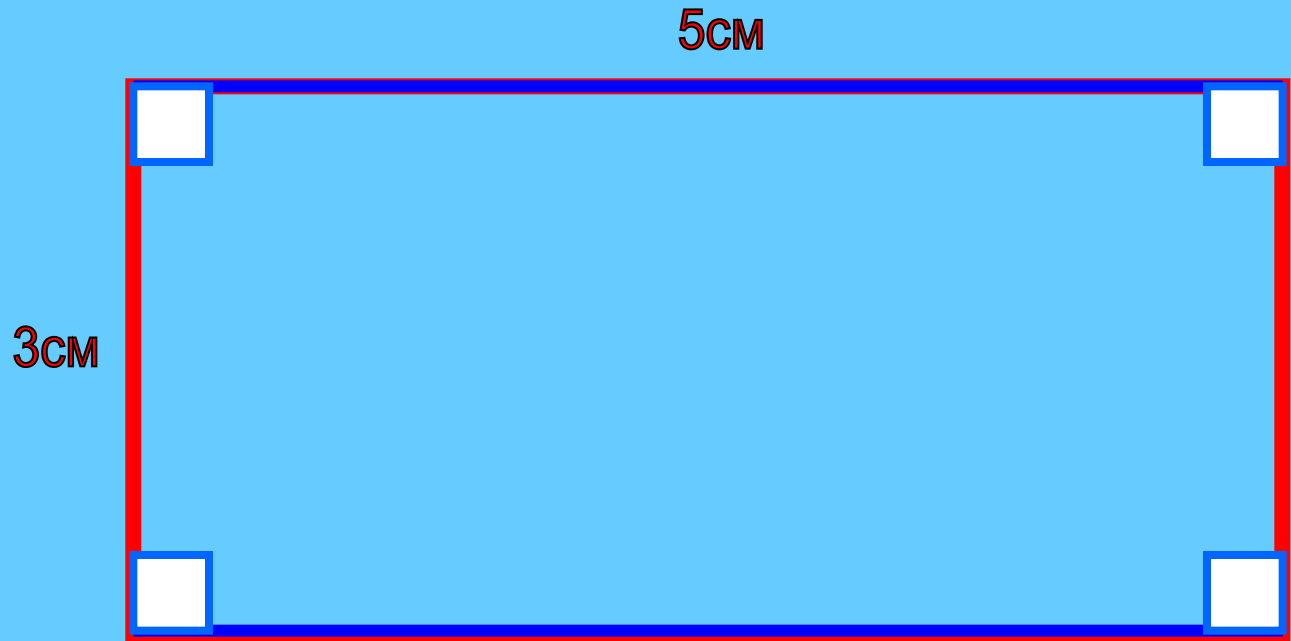
Найти периметр
квадрата



Это квадрат или прямоугольный четырехугольник, все стороны равны, а все четыре угла - прямые.

ПРЯМОУГОЛЬНИК

Найти периметр прямоугольника



А это прямоугольник. У прямоугольника тоже четыре прямых угла, но не все стороны равны, а только противоположные – верхняя и нижняя, правая и левая

Переведите

$1 \text{ ч } 20 \text{ мин} = \boxed{} \text{ мин}$

$1 \text{ ч } 25 \text{ мин} = \boxed{} \text{ мин}$

$80 \text{ мин} = \boxed{} \text{ ч } \boxed{} \text{ мин}$

$1 \text{ неделя} = \boxed{} \text{ дней}$

$1 \text{ век} = \boxed{} \text{ лет}$

$1 \text{ месяц} = \boxed{} \text{ дней}$

$1 \text{ сутки} = \boxed{} \text{ ч}$

$1 \text{ ч } 5 \text{ мин} = \boxed{} \text{ мин}$



***Спасибо за
урок!!!***

