

МАТЕМАТИЧЕСКИЕ ГОЛОВОЛОМКИ

Презентация подготовлена
Учитель начальных классов
Баранова Ирина Геннадьевна





МАТЕМАТИЧЕСКИЙ РЕБУС



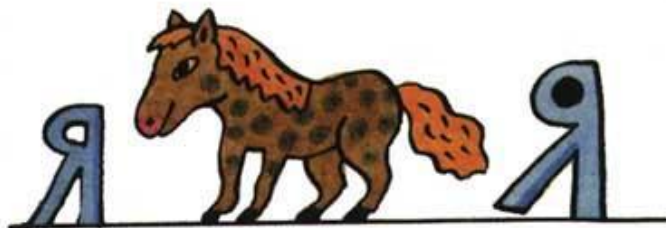
’ +



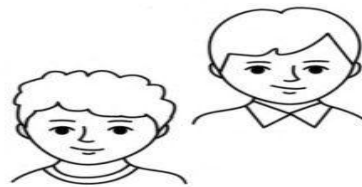

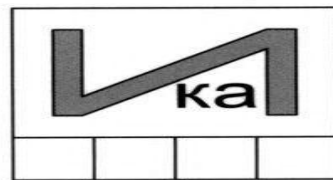

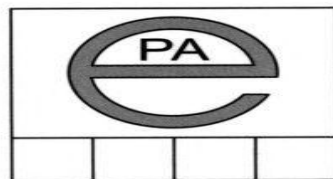
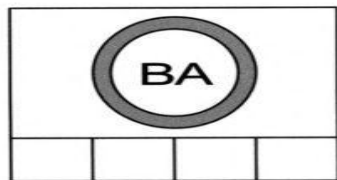
+ТЬ

0=A

IgraZa.ru



Расшифруй и напиши имена детей.



$$\begin{array}{rcccc} + & * & * & 4 & 5 \\ + & 5 & 9 & 2 & 7 \\ \hline * & 7 & 8 & * & 3 \\ * & 8 & 2 & 1 & * \end{array}$$

matmir.ru

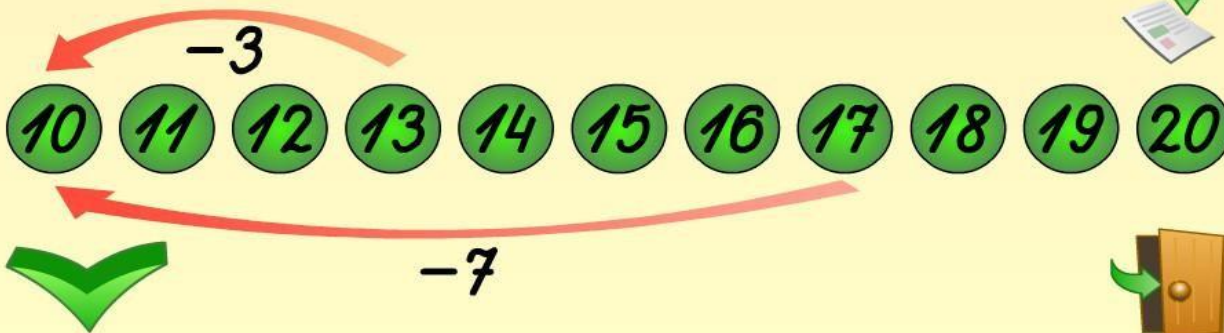
?

Дополни равенства

На числовом ряду стрелками показано вычитание чисел.
Дополни равенства числами.

$$\square - 3 = \square$$

$$\square - 7 = \square$$



zone33.ru

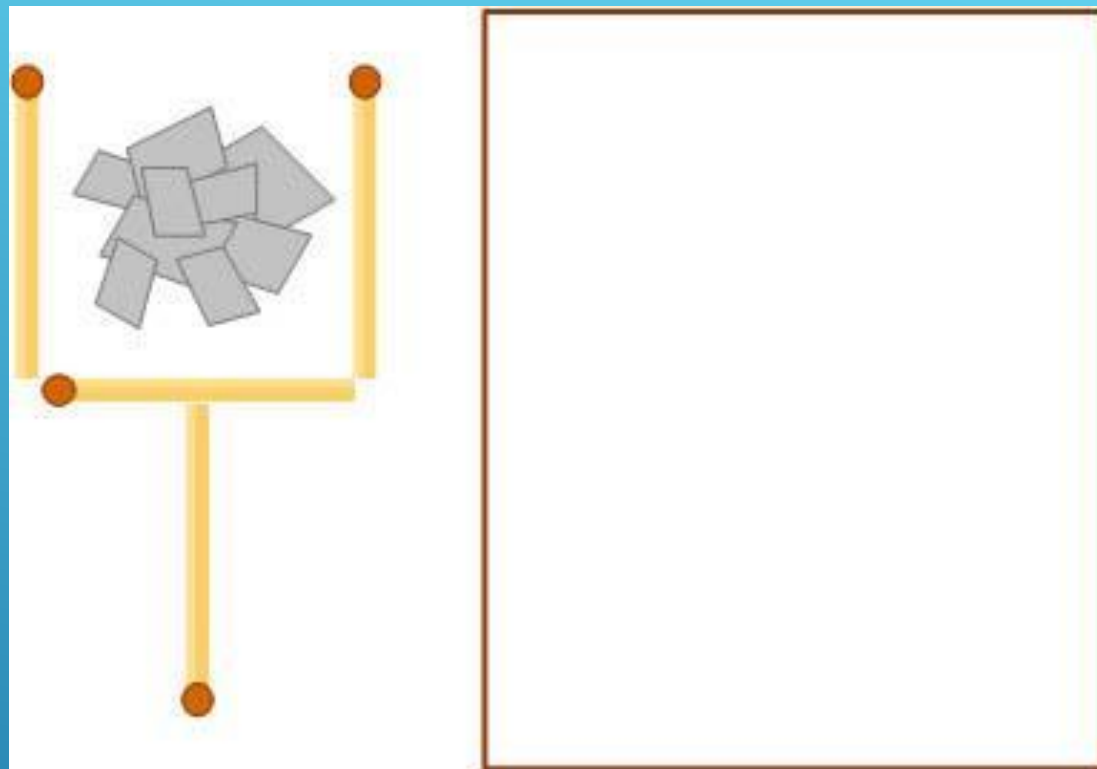
TRACKER

ДОПОЛНИ РАВЕНСТВА


Национално образователно учреждение
«Средна общинска гимназия „Иван Вазов“
Пловдив, ул. „Битолска“ 21, Пловдив, Р.Б.

Задачи со спичками





ПЕРЕЛОЖИ СПИЧКИ ТАК ЧТОБЫ В
БОКАЛЕ НЕ БЫЛО КВАДРАТИКОВ



ПЕРЕЛОЖИ 3 СПИЧКИ ТАК ЧТОБЫ РЫБА
ПЛЫЛА В ОБРАТНУЮ СТОРОНУ



Как выучить таблицу умножения на 9

#2



$9 \times 1 = 09$
$9 \times 2 = 18$
$9 \times 3 = 27$
$9 \times 4 = 36$
$9 \times 5 = 45$
$9 \times 6 = 54$
$9 \times 7 = 63$
$9 \times 8 = 72$
$9 \times 9 = 81$
$9 \times 10 = 90$

ADME

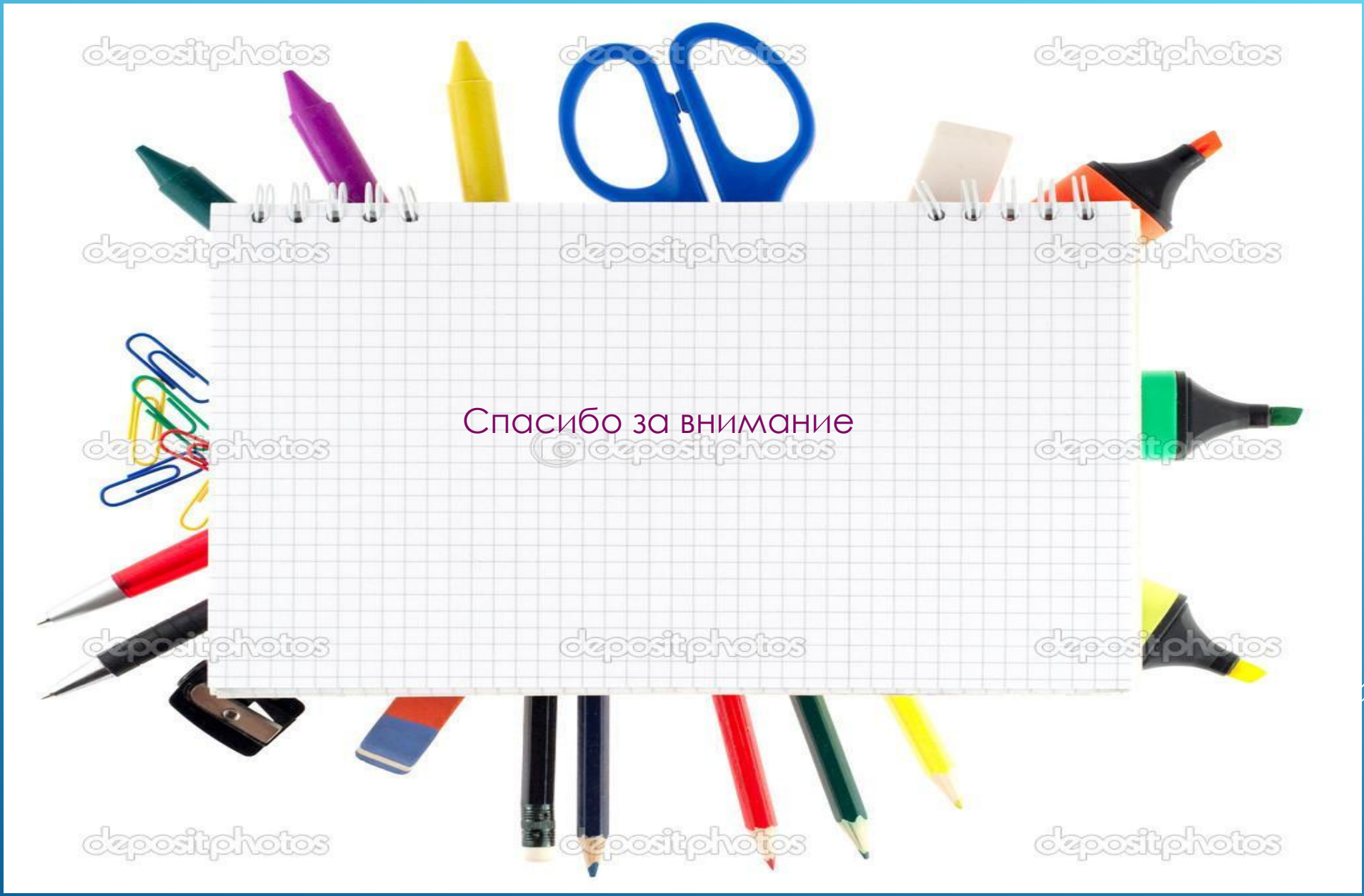
МАТЕМАТИЧЕСКИЕ ФОКУСЫ

8	11	14	1
13	2	7	12
3	16	9	6
10	5	4	15

= 34

	1	
	5	
4		

МАТЕМАТИЧЕСКИЙ КВАДРАТ



Спасибо за внимание

© depositphotos

depositphotos

depositphotos

depositphotos

depositphotos

depositphotos

depositphotos

depositphotos

depositphotos

depositphotos

depositphotos

depositphotos

depositphotos

depositphotos

depositphotos

