

1 класс Моро

Тема урока
Составление задач на
сложение и вычитание
по одному рисунку



Шуркина 3.3


Составить задачу по картинке
и решить её

$$5 + 2 = 7$$

$$5 - 2 = 3$$




Составить задачу по картинке и решить её



$$4 + 2 = 6$$


$$4 - 2 = 2$$



$$6 + 2 = 8$$


$$6 - 2 = 4$$

Составить задачу по картинке
и решить её



$$6 + 2 = 8$$

$$6 - 2 = 4$$

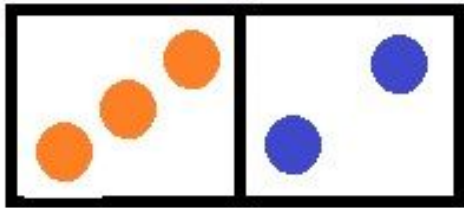


$$2 + 3 = 5$$

$$3 - 2 = 1$$

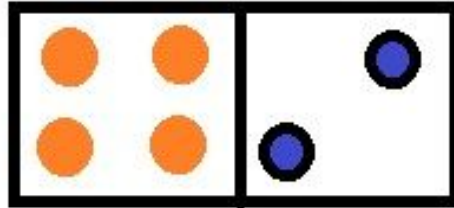


Выполнить сложение и вычитание



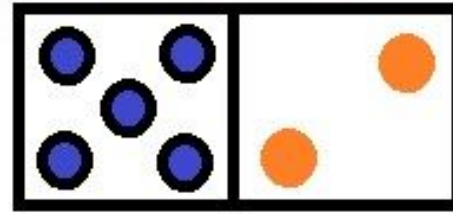
$$3+2=5$$

$$5-2=3$$



$$4+2=6$$

$$6-2=4$$



$$5+2=7$$


$$7-2=5$$

Прибавляйте по 2



$$2 + 2 + 2 = 6$$

Вычитайте по 2



$$10-2-2=6$$

Составьте по бусам примеры на прибавление числа 1 и числа 2, запишите и решите



У Милы было 4 шарика. 1 шарик у Васи лопнул. Сколько шариков у Милы?

У Вики  Сколько всего.....?



Как сделать, чтобы у всех кроликов
были одинаковые порции?



***Использованы материалы учебника
Математики М.И. Моро
Авторское оформление слайдов***

