

Математика

2 класс

И.В.
Минабутдинова



Я учусь думать,
Я учусь рассуждать,
Что полезно для
работы.
То и буду выполнять



Решите примеры:

• $6 * 3 =$

$20 : 4 =$

• $40 : 4 =$

$12 : 6 =$

• $2 * 2 =$

$5 * 3 =$

• $2 * 10 =$



Расставьте числа в порядке
увеличения

Щ – 10

А – 15

Л – 4

О – 5

Ь – 20

П – 2

Д – 18




- Площадь –
- Площадь фигур
-





Сегодня мы узнаем, что такое площадь фигур.
Будем учиться сравнивать и измерять площади разных фигур.
Узнаем в каких единицах измеряется площадь.




Назовите фигуры.
Сравните фигуры.





Назовите фигуры.
Сравните фигуры.


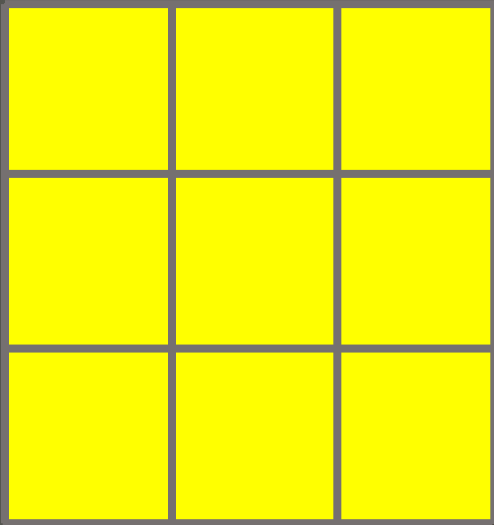




Рассмотрите фигуры.



Сравните фигуры.



Единицы измерения площади


см^2

дм^2

м^2




5 cm^2




1 cm^2




3 cm^2



4 cm^2



Найдите
площадь
фигур.



Начертите прямоугольник
со сторонами 2 и 7 см.

2 см



7 см

14
(см²)



Как можно сравнить и измерить площади разных фигур?

Давайте вспомним, что мы называем площадью фигуры?

В каких единицах измеряется площадь?



Лестница успеха



уверен в своих знаниях

нужно ещё повторить

нуждаюсь в помощи



Спасибо за
урок!

