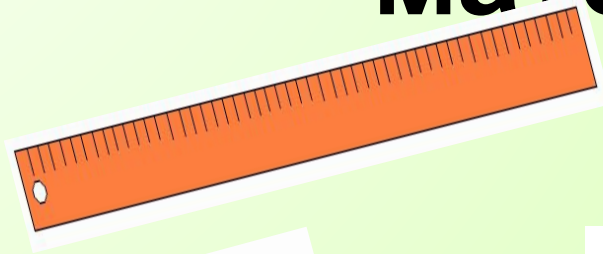





Викторина «По страницам математики»




9

8

14 - 6



6



7

Подготовили: учителя начальных классов Сараева С.А
и Халитова Л.



Речевая минутка.

Что будем делать?

Будем считать.

Будем решать примеры.

Будем играть.




Первый конкурс.

Сколько ножек у двух кошек?



Отвѣт. 8 (вóсемь).

СКОЛЬКО ХВОСТОВ у
ВОСЬМИ КОТОВ?



Отвѣт. 8 (вóсемь).


Скóлькó шей у п'яти журавлѐй?





ОТВЕТ. 5 (ПЯТЬ).

Скóлькó ўшeк у двух
мьшeк?



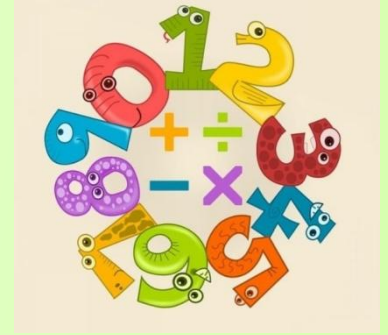
Отвѣт. 4 (четыре).

Пять щенят в футбол
играли, одного
домой позвали



Отвѣт. 4 (четыре).

Второй конкурс. «Лента цифр».



Допишите пропущенные
числа.

40, 41, 42, 43, 44, 45, 46, 47, 48, 49, 50.

50, 51, 52, 53, 54, 55, 56, 57, 58, 59, 60.

Трѣтій конкурс.

Увеличьте на 1:

$$25 \rightarrow \underline{26}; \quad 39 \rightarrow \underline{40}; \quad 57 \rightarrow \underline{58};$$

$$12 \rightarrow \underline{13}; \quad 17 \rightarrow \underline{18}.$$

Уменьшите на 1:

$$22 \rightarrow \underline{21}; \quad 45 \rightarrow \underline{44}; \quad 67 \rightarrow \underline{66};$$

$$39 \rightarrow \underline{38}; \quad 18 \rightarrow \underline{17}.$$

Четвёртый конкурс.

Подбери нужное число к каждому рисунку.



**П'я́тий ко́нкурс.
Сло́жи́ фігу́ру из па́ло́чек.
Треуго́льник , квадра́т,
прямо́уго́льник , до́м , ёлочку.**



Шесто́й ко́нкурс.

Сравни́ чи́сла.



По́ставь знак $>$, $<$, $=$;

Ко́манда «Плюс»

$$32 \underline{\quad} < 47 ;$$

$$69 \underline{\quad} > 15 ;$$

$$28 \underline{\quad} < 57 ;$$

$$33 \underline{\quad} = 33 ;$$

$$55 \underline{\quad} < 100 ;$$

Ко́манда «Минус»

$$56 \underline{\quad} > 42 ;$$

$$31 \underline{\quad} < 64 ;$$

$$74 \underline{\quad} > 12 ;$$

$$44 \underline{\quad} = 44 ;$$

$$29 \underline{\quad} < 90 ;$$

Физкультминутка.

А теперь ребята встали!

Быстро руки вверх подняли,

В стороны, вперед, назад,

Повернулись вправо, влево,

Тихо сели – вновь за дело.



Седьмой конкурс. Решите задачу



Отвѣт.

Кōманда «Плюс».

Аня-5т.

Миша-4т.

Скōлькō всегō-?

Решение.

$5+4=9$ т.

Отвѣт: всего 9 тарелок.



Отвѣт.

Команда «Минус».

Было -9 в.

Улетели-5в.

Осталось-?

Решение.

$9-5=4$ в.

Ответ: осталось 4 вороны.



Восьмой конкурс.

Решите примеры.

Команда «плюс»

$$15 + 32 = \underline{47}$$

$$46 + 13 = \underline{59}$$

$$2 + 4 = \underline{6}$$

$$19 - 1 = \underline{18}$$

$$27 - 7 = \underline{20}$$

Команда «минус»

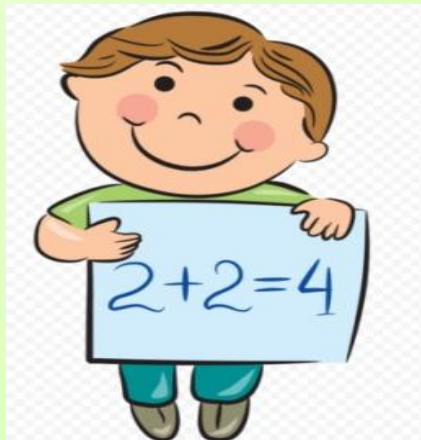
$$14 + 34 = \underline{48}$$

$$52 + 12 = \underline{64}$$

$$3 + 4 = \underline{7}$$

$$18 - 1 = \underline{17}$$

$$39 - 9 = \underline{30}$$



Девятый конкурс. Постройте дом из геометрических фигур.





Деся́тый ко́нкурс. По́чини о́деяло.



Итог.
Что мы делали ?
Считали .
Решали примеры.
Играли.



МОЛОДЦЫ!!!

