



- 8×6

$15:3$

$24:6$

- $30:6$

9×9

6×8

- 7×7

$16:4$

8×2

- $40:8$

0×6

4×9

- 6×7



$20:5$

$32:8$

- 4×4

4×5

3×9





• 48-Д

4-И

• 5-О

0-Л

• 49-Р

20-Т

• 42-Г

36-Щ

• 16-У

27-Й

• 81-С





• Дорогу осилит идущий.





6 , 0 , 7 , 3





научиться измерять и
вычислять длины






Задачи:

- * измерять и записывать длину отрезка
- * преобразовывать единицы длины
- * чертить отрезки заданной длины
- * вычислять периметр четырёхугольника





- $1\text{km} = 1000\text{m}$
- $1\text{m} = 100\text{cm} = 10\text{dm} = 1000\text{mm}$
- $1\text{dm} = 100\text{mm} = 10\text{cm}$
- $1\text{cm} = 10\text{mm}$





• Км м дм см мм
мм см дм м км





- Умение чертить отрезок по заданной длине,

- Умение аккуратно чертить отрезки.





Д.з. №379,на с.109

