




Начинается урок,
Он пойдёт ребятам впрок!
Постарайтесь всё понять,
Учитесь тайны открывать,
Ответы полные давать,
Чтоб за работу получать
Только лишь отметку 5.



Обобщающий урок по теме «Величины»

4 класс



Распознайте единицы измерения

миллиметр

дециметр

километр

квадратный метр

км

метр

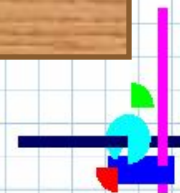
сантиметр

м

дм

см

мм



Какие названия единиц длины, массы, времени пропущены?

$$1 \dots = 10 \dots$$

$$1 \dots = 100 \dots$$

$$1 \dots = 1000 \dots$$

$$1 \dots = 60 \dots$$

$$1 \text{ т} = 10 \text{ ц}$$

$$1 \text{ ц} = 100 \text{ кг}$$

$$1 \text{ т} = 1000 \text{ кг}$$

$$1 \text{ кг} = 1000 \text{ г}$$

$$1 \text{ в.} = 100 \text{ г.}$$

$$1 \text{ ч} = 60 \text{ мин}$$

$$1 \text{ мин} = 60 \text{ с}$$

$$1 \text{ м} = 10 \text{ дм}$$

$$1 \text{ дм} = 10 \text{ см}$$

$$1 \text{ см} = 10 \text{ мм}$$

$$1 \text{ м} = 100 \text{ см}$$

$$1 \text{ дм} = 100 \text{ мм}$$

$$1 \text{ км} = 1000 \text{ м}$$

Незнайка сочинял стихи о своих друзьях 5 минут и 17 секунд. Сколько секунд он занимался этой трудной работой?

317 секунд



ОТВЕТ

далее


Кот Леопольд терпел обидные
выходки мышей 1 месяц
сентябрь, 2 недели и 3 дня.
Через сколько дней терпение
кота лопнуло?

Через 47 дней

ОТВЕТ



далее




Девочка Элли, храбрый Лев, железный Дровосек и пёсик Тотошка летели на воздушном шаре **1 сутки и ещё 15 часов.** Сколько времени они затратили на полёт?

ОТВЕТ

39 часов

далее



Винни–Пух был приглашён в гости к ослику к 4 часам дня. Он вышел из дома в **3 часа** , прихватив с собой горшочек мёда. До домика Пятачка он добирался **15 минут**, **$\frac{1}{6}$ часа** уплетал вкуснейший обед, **10 минут** рассматривал пустой горшочек, ещё **12 минут** советовался с мудрой Совой и **10 минут** брёл с друзьями к жилищу Ослика. Не опоздали ли герои на праздничный обед ?

Проверьте себя!


Длина лопаты 1 м 15 см.

Выразите её длину:

в сантиметрах;

в дециметрах и сантиметрах;

в миллиметрах.



115 см; 11 дм 5 см; 1 150 мм



Вырази:

в метрах:

в граммах:

в квадратных
сантиметрах:

2 030 м

2 050 г

80 000 см²

6 000 м

700 000 г

4 000 см²

6 005 м

705000 г

48 000 см²

далее

Расположите единицы измерения по возрастанию



Расшифруйте пословицы и поговорки

100 лет живи, 100 лет учись.

Век живи, век учись.

Обещанного 36 месяцев ждут.

Обещанного три года ждут.

Делу время, а потехе 60 минут.

Делу время, а потехе час.

7 дней 12 месяцев кормит.

Неделя год кормит.

Подумай, реши!

12 мая мама сказала, что поезд, на котором приедет папа, прибудет в Москву через сутки и 3 ч. Петя посмотрел на часы – было 17 ч. Когда и в котором часу прибывает этот поезд?

ответ

13 мая в 20 ч








Высота надводной части айсберга 30 м, это восьмая часть всей его высоты. На какую глубину айсберг уходит под воду?

ответ

$$1) 30 * 8 = 240 (м)$$

$$2) 240 - 30 = 210 (м)$$

далее



Подумай и реши!



В выходной день Дима 35 минут играл в компьютерные игры, а играл на улице в 4 раза больше. Сколько всего времени Дима играл в выходной день?



$$1) \quad 35 \cdot 4 = 140 \text{ (мин)}$$

$$2) \quad 140 + 35 = 175 \text{ (мин)}$$

$$175 \text{ мин} = 2 \text{ ч } 55 \text{ мин}$$

Работа по учебнику: стр. 11, № 14

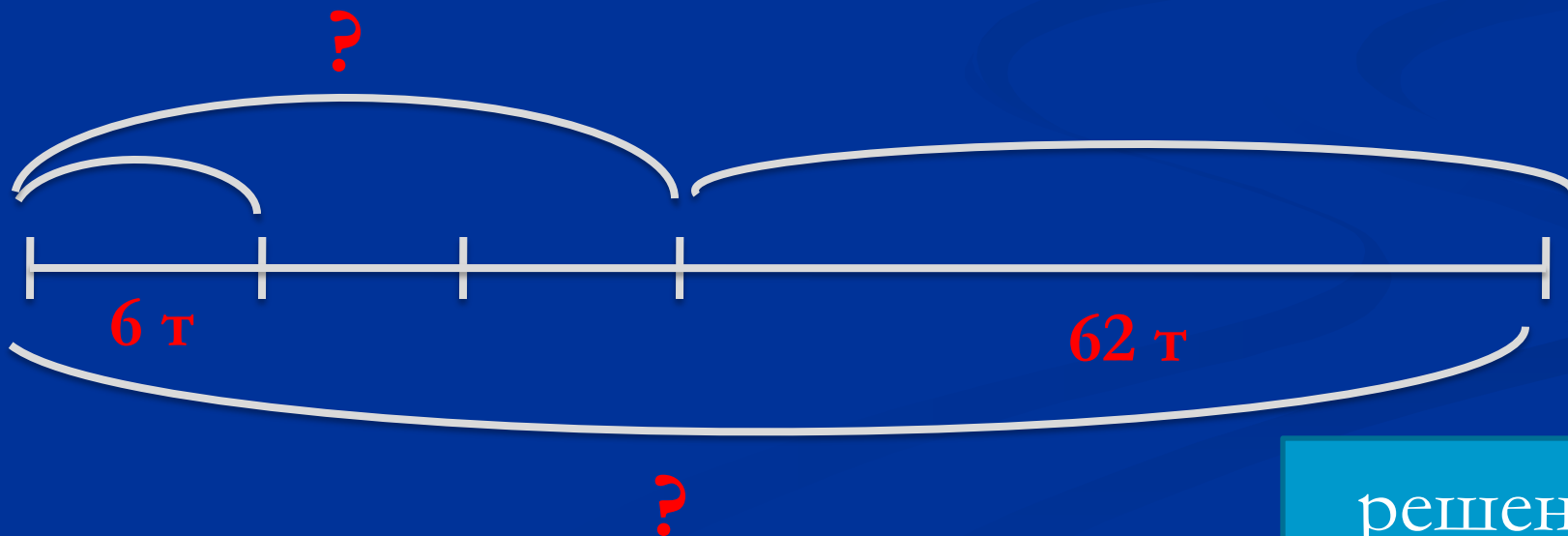
1 в – 1 строчка

2 в – 2 строчка

Реши задачу:

Из самолета выгрузили часть груза и увезли на 3 машинах, по 6 т на каждой. После этого в самолете осталось еще 62 т груза. Сколько тонн груза доставил самолет?

схема



решение

1) $6 * 3 = 18$ (т) – увезли

2) $62 + 18 = 80$ (т) –

ДОСТАВИЛ САМОЛЕТ

Ответ: 80 т

Домашнее задание

- Стр. 11, № 13, 24