

**Қош
келдіңіздер !**

**Тақырыбы:
“Білім-
байлықтың
кені”**



Күн шуағы

Қайырлы күн, достар!

Бүгінгі күн, міне,

Сәттілікке толсын!

Біздің алар бағамыз

Кілең бестіктер болсын!!!





Мақсаты:

1. Білімділік: оқушылардың сабақта алған білімдерін жүйелеу, пысықтау. Өзін-өзі бақылауға, өз бетімен жұмыс істеуге дағдыландыру.

2. Дамытушылық: оқушылардың ой-өрісін, өзіндік іс-әрекетін, танымын дамыту. Өздігінен қорытынды шығаруға машықтандыру, пәнге деген қызығушылығын және белсенділігін арттыру, логикалық ойлау қабілеттерін дамыту.

3. Тәрбиелік: Қазақстанның болашағына деген сенімін және білімнің әрқашан қымбат екенін түсіне білуге тәрбиелеу.





"Еліңнің ұлы болсаң,
еліңе жаның ашыса,
азаматтық намысың болса,
қазақтың ұлттық
жалғыз мемлекетінің
нығайып-көркеюі жолында
жан теріңді сығып
жүріп еңбек ет.

Жердің де, елдің иесі өзің
екеніңді ұмытпа!"

Қазақстан Республикасының Президенті Н.Ә.Назарбаевтың

Қазақстан халқына Жолдауы



*Бір, екі, үш,
Отырамыз тып
– тыным .*

*Жалқаулықты
тастаймыз,
Сабақты біз
бастаймыз.*



$1200 \cdot 4$

48
00

$560 : 80$

7

$135 + 227$

36
2

$1909 - 100$

180
9

$400 \cdot 15$

600
0

$1648 : 412$

4

Қызығушылықты ояту

$600 - 215$

38
5

$345 + 1014$

135
9

$78 \cdot 30$

234
0


$67 \cdot 30$

20
10

$4060 : 20$

20
3

Қайталау – білім анасы



Радиу
с

Аудан

Периметр

Көлем

Салмақ
өлшем-
дері


Қозға-
лыс
өлше-
мдері

Амал
компо-
ненттері



Логикалық есептер

- Мадина мен Зарина апалы-сіңілі. Мадинаның екі ағасы, Заринаның екі ағасы бар. Олардың отбасында неше бала бар?
- Аулада өсіп тұрған биік ағашқа 2 торғай және 4 көбелек ұшып келіп қонды. Барлығы неше құс болды?
- Бес жарым таяқтың неше ұшы бар?
- 1 шоколадты 100 теңгег сатып аламыз, бір жарым шоколадты ше?
- Егер үстел бұрышының біреуін кесіп тастаса неше бұрышы қалады?



Салыстыр

1382 м

>

1 км 328 м

9 км 7 м

<

90 007 м

1 га

>

1000 м²

14 а

=

1400 м²





Әдемі жазуды жақсы көреміз. Жаттығуды жасайық!



"Математикалық диктант"

1) x пен 9-дың қосындысын

3-ке бөл

$$(x+9):3$$

2) a -ны 615 пен 217-нің

айырмасына қос

$$a + (615 - 217)$$

3) 47 мен 19-дың

көбейтіндісінен 2400-дің 80-

ге бөліндісін азайт

$$47 \cdot 19 - 2400 : 80$$

4) 53 пен 7-нің көбейтіндісін

815 пен 793-тің айырмасына

көбейт

$$(53 \cdot 7) \cdot (815 - 793)$$

Логикалық есептер

- Оқушы мектептен үйге дейінгі жолдың $\frac{2}{5}$ бөлігін 10 минутта жүріп өтеді. Осындай жылдамдықпен үйіне неше минутта үйіне жетеді?
- Ағаштың алғаш отырғызылған кездегі биіктігі 75 см. Ол әр жыл сайын өзінің ұзындығынан $\frac{1}{5}$ –іне өседі. 3 жылдан соң оның биіктігі қанша болады?
- Ағаш үстінде 100 торғай отырған, аңшы 10 торғайды атып алды. Нешеуі қалды?

Анасы қызынан 20 жас үлкен. Қызы ұлынан 3 жас үлкен. Анасы 40-та болса, қызы неше жаста?

25

120

10

20

Графикалық диктант

Нүктелерді сызықшалардың бағыты бойынша бір-бірімен байланыстыр. Қызыл нүктеден баста. Ненің суреті салынды? Сурет рамадағы қай суретке тиесілі?

3 төмен

4 оңға

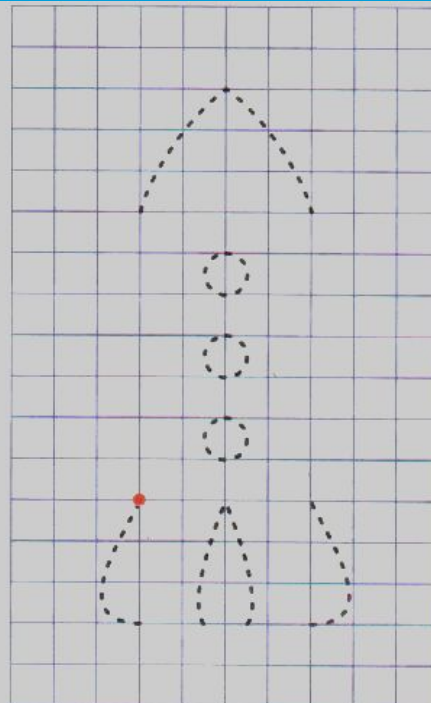
3 жоғары

4 солға

7 жоғары

4 оңға

7 төмен

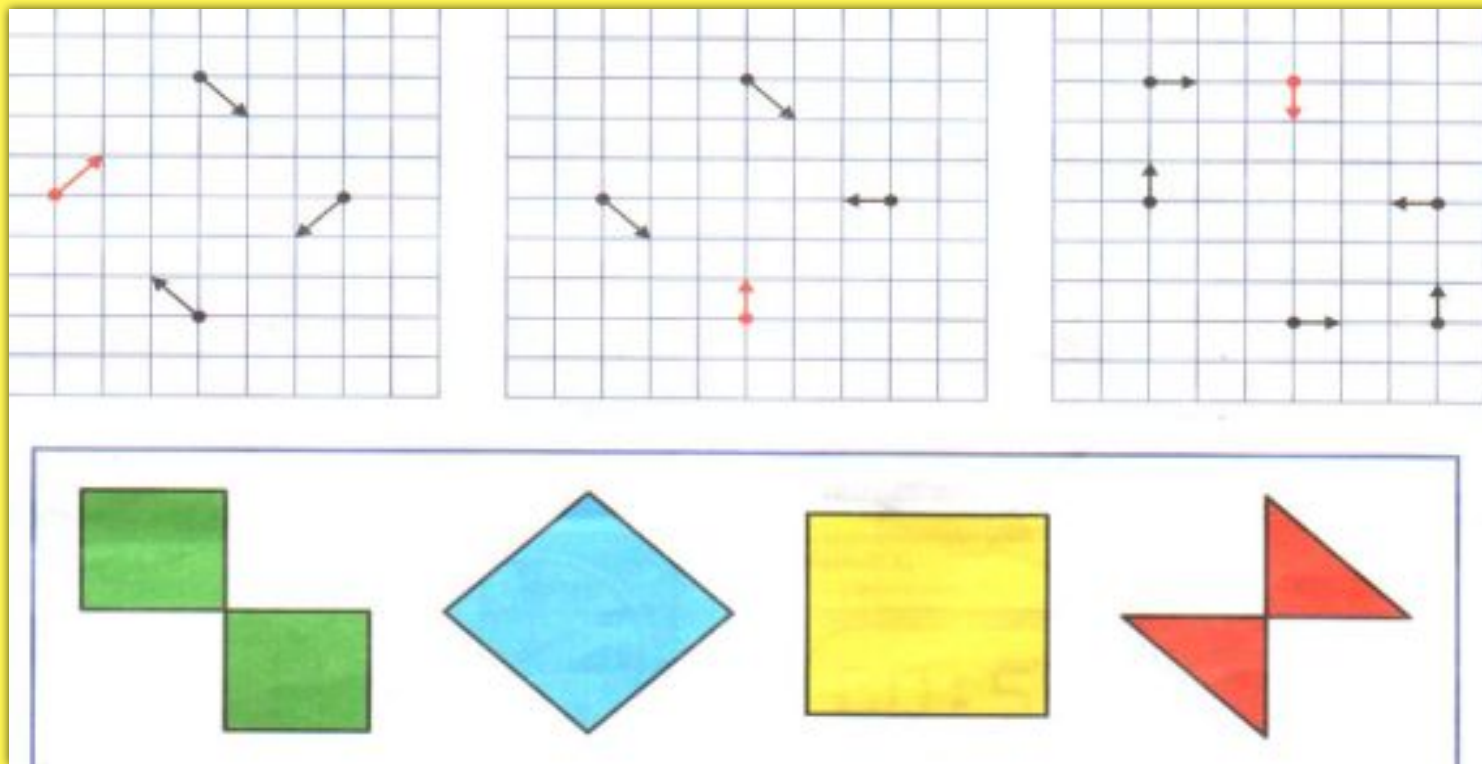


3 ТӨМӨН

4 ОҢҒА



Нүктелерді сызықшалардың бағыты бойынша бір-бірімен байланыстыр. Қызыл нүктеден баста. Пайда болған пішіндерді рамадағы пішіндердің түсіндей етіп боя.



Тест



1. Кему ретінде көрсетілген сандар:

- а) 98,72,83,11,24.
- ә) 11, 24, 72, 83, 98
- б) 98, 83, 72, 24, 11

2. Дұрыс жауабын көрсет: $40+7\cdot 3$


- а) 141
- ә) 61
- б) 121

3. 45 пен 5-тің айырмасына 32 мен 2-нің бөліндісін қосу:

- а) 74
- ә) 72
- б) 56

4. Бір баланың дене салмағы 36 кг, ал екіншісінің 27 кг. Екінші баланың дене салмағы біріншісінен неше кг жеңіл?

- а) 9 кг
- ә) 11 кг
- б) 63 кг

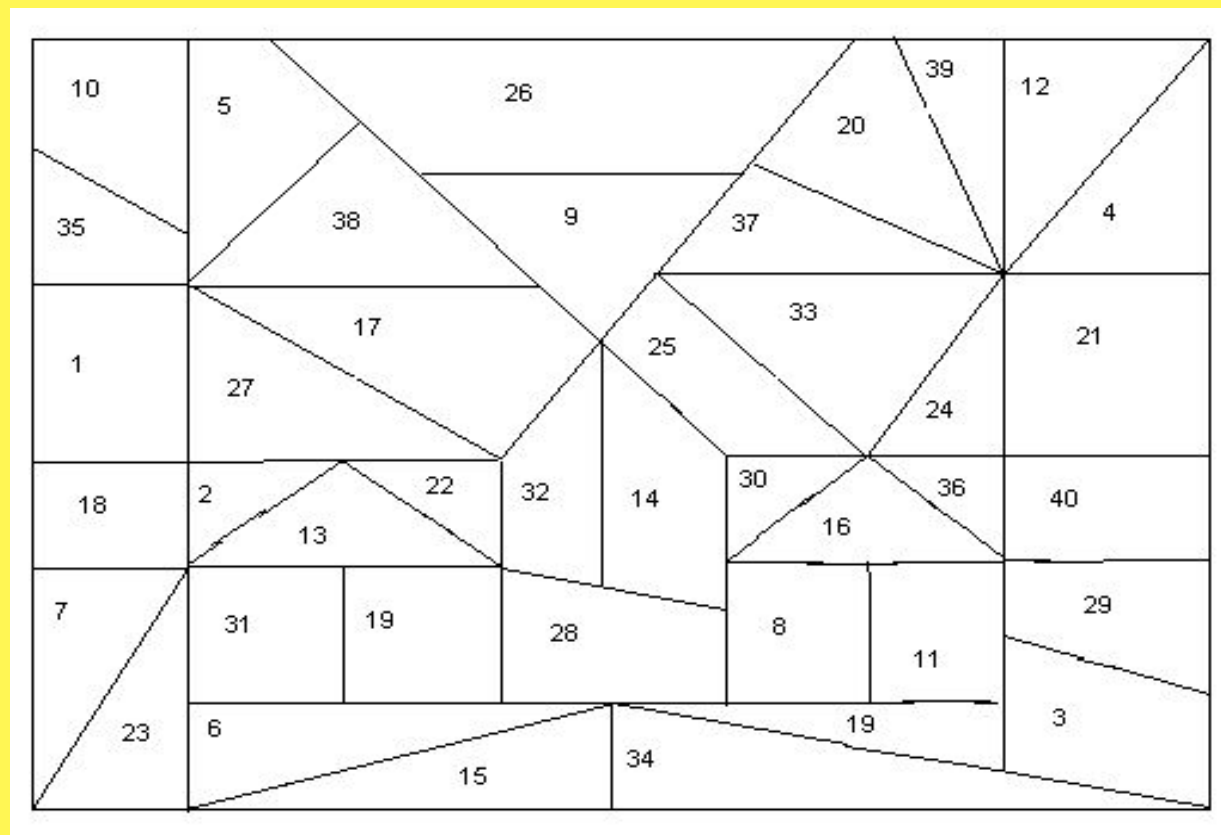


Дұрыс жауаптары:


- 1 - б) 98, 83, 72, 24, 11
- 2. - ә) 61
- 3. - б) 56
- 4. а) 9 кг



Көңілді санау



Суретте қанша зат бейнеленген?



Математикалық санжұмбақ

1			2			3			4
		5			6			7	
8			9			10			
									11
	12			13				14	



Мадақтау





Назарларыңызға рахмет!